

ክፍለ ትምህርት አንድ

1. እኛነታችን

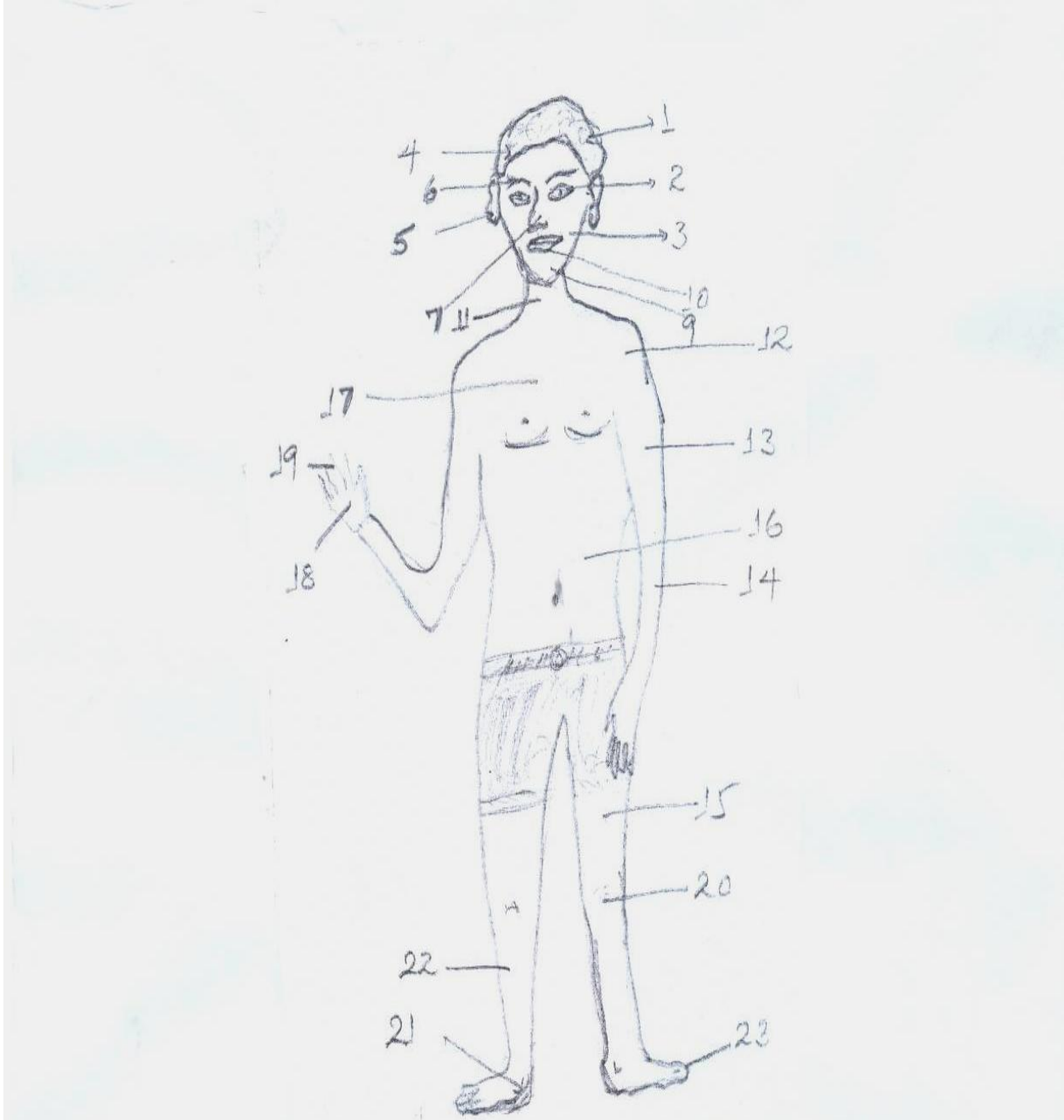
1.1 ውጫዊ የሰውነት ክፍሎቻችን

- ጉልበት
- ጡንቻ
- ጭን
- መዳፍ
- ቁርጭምጭሚት
- ቅልጥም

- መታወቅ የሚገባቸው ቃላት**
- መጉመጥመጥ
 - ንጽሕና
 - ጥገኛ
 - ውበት
 - ብሩሽ

1.1.1. ውጫዊ የሰውነት ክፍሎች

የሰው ውጫዊ አካል ክፍሎች ምን ምን ተብለው ይጠራሉ ?



ሥዕል 1.1. የሰው ውጫዊ የአካል ክፍሎች

መልመጃ 1.1.

ሀ/ ስዕሉን በማየት ከአንገት በላይ ያሉትን የአካል ክፍሎች ከሚያመለክቱት ቁጥሮች ጋር አዛምዱ።

ምሳሌ :- ሀ. ቁጥር 1 ፀጉርን ያመለክታል።

ለ. ቁጥር 2 ዓይንን ያመለክታል

ሐ. ቁጥር _____ ጉንጭን ያመለክታል።

መ. ቁጥር _____ ራስን ያመለክታል።

ሠ. ቁጥር _____ ጆሮን ያመለክታል።

ረ. ቁጥር _____ ቅንድብን ያመለክታል።

ሰ. ቁጥር _____ አፍንጫን ያመለክታል።

ሸ. ቁጥር _____ ግንባርን ያመለክታል።

ቀ. ቁጥር _____ ከንፈርን ያመለክታል።

በ. ቁጥር _____ አገጭን ያመለክታል።

ተ. ቁጥር _____ አንገትን ያመለክታል።

ለ/ ስዕሉን በማየት ከአንገት በታች ያሉትን የአካል ክፍሎች ከሚያመለክቱት ቁጥሮች ጋር አዛምዱ።

ሀ. _____ ትከሻ ነው።

ለ. _____ የእጅ ጡንቻ ነው።

ሐ. _____ ክንድ ነው።

መ. _____ ጭን ነው።

ሠ. _____ ሆድ ነው።

ረ. _____ ደረት ነው።

ሰ. _____ መዳፍ ነው።

ሸ. _____ የእጅ ጣት ነው።

ቀ. _____ ጉልበት ነው።

በ. _____ ቁርጭምጭሚት ነው።

ተ. _____ ቅልጥም ነው።

ቸ. _____ የእግር ጣት ነው።

1.1.2. ውጫዊ የሰውነት ክፍሎች አገልግሎት

- አይን ለምን ይጠቅማል?
- ጆሮ ለምን ይጠቅማል?
- አፍንጫ ለምን ይጠቅማል?

ሀ.



ለ.



ሐ.



1.2. የአንዳንድ የአካል ክፍሎች አገልግሎት

ከላይ የተቀመጡትን ስዕሎች በመመልከት የሚሰጡትን ጥቅም ለመምህራችሁ ተናገሩ፡፡

1. ሥዕል “ሀ” የሚያሳየው የትኛውን የሰውነት የአካል ጥቅም ነው?

2. ሥዕል “ለ” ከሚያሳየው የአካል ክፍላችን ምግብ ለመብላት የሚያገለግለን የትኛው ነው?

ቀጥሎ የተዘረዘሩትን የአካል ክፍሎች አገልግሎት ተናገሩ።

ሀ. አንገት

ለ. ፀጉር

ሐ. አይን

መ. ጆሮ

ሠ. አፍንጫ

ውጫዊ የሰውነት ክፍሎችን መጠበቅ

የሰውነት ክፍሎቻችንን ንፅሕና መጠበቅ ለምን ያስፈልጋል?

የአካል ክፍሎቻችን የተሟላ ሥራ እንዲሰሩ ንፅሕናቸው በሚገባ መጠበቅ አለበት።

የአካል ክፍሎቻችሁን ንፅሕና የምትጠብቁት እንዴት ነው?

የአካል ክፍሎቻችሁን ንፅሕና ለመጠበቅ ምን ምን ትጠቀማላችሁ?



ጠዋት ጠዋት ከመኝታችን
እንደተነሳን እጃችንንና
ፊታችንን በሳሙናና በንፁህ
ውሃ መታጠብ አለብን።

ፊትን በየእለቱ መታጠብ ተገቢ ነው።



ጥርስን በየዕለቱ ማጽዳት ያስፈልጋል።

→ ምግብ ከተመገብን በኋላ አፋችንን በንፁህ ውሃ መጉመጥመጥ አለብን። በጥርሶቻችን መሀከል የቀረውን ምግብ በባሕላዊ ወይም በዘመናዊ መፋቂያ ማስወገድ ያስፈልጋል። በተጨማሪ ዘወትር ጠዋት ጠዋት የጥርሳችንን ንጽሕና መጠበቅ አለብን።



ፀጉርን በየጊዜው መታጠብ ተገቢ ነው



ፀጉራችን በየቀኑ መበጠር አለበት።

- ቅማል፣ ቅጫምና የመሳሰሉት ጥገኛ ሕዋሳት ምን ዓይነት ጉዳቶችን ያስከትላሉ?
 - በሽታን ከሰው ወደ ሰው ያስተላልፋሉ።
 - በቆዳችን ላይ ጉዳት ያደርሳሉ።
 - ደማችንን ይመጣሉ።
- የፀጉርን ንፅሕና ስንጠብቅ፡-
 - የተሟላ ጤንነት ይኖረናል።
 - ውበታችንን ለመጠበቅ ይረዳናል።



በአፍንጫ ቀዳዳ አባራ ገብቶ በሽታ ሊያስከትል ይችላል። ስለዚህ አፍንጫን በንፁህ መሀረብ ወይም ጨርቅ ማዕዳት ያስፈልጋል።

አፍንጫ በንፁህ መሀረብ መዕዳት አለበት።



ምግብ ሲቀርብላችሁ መጀመሪያ ምን ታደርጋላችሁ?



የገላችንን ንፁሕና መጠበቅ አለበት።

ገላችንን በየጊዜው ካልታጠብን፡-

- ለበሽታ ያጋልጠናል፡፡
- ውበታችንን ይቀንሳል፡፡
- መጥፎ ጠረን ይኖረናል፡፡

ስለዚህ ልጆች ! በየጊዜው የሰውነታችንን ንፅሕና መጠበቅ አለብን፡፡



እግርን በየቀኑ መታጠብ ያስፈልጋል፡፡

- እግር በየቀኑ መታጠብና ንፅሕናውን መጠበቅ አስፈላጊ ነው፡፡ እግራችንን ያለመታጠብ መጥፎ ሽታ ያስከትላል፡፡ በተጨማሪ የእግራችንን ጤንነት ለመጠበቅ ጫማ መጠቀም ያስፈልጋል፡፡

ጫማ ማድረግ የተለያዩ ጠቀሜታ ይሰጠናል፡-

- የመሬት ትላትሎች እንዳይጎዱን ይረዳናል፡፡
- የዛጉና ስለት ያላቸው ነገሮች እንዲሁም እሾህ እንዳይወጋን ይከላከልናል፡፡
- ድንጋይ /እንቅፋት/ አንዳይመታን ይከላከልናል፡፡

ስለዚህ ተማሪዎች! ሁልጊዜ ጫማ ማድረግ አለብን ማለት ነው፡፡



በየሳምንቱ ጥፍሮቻችሁን መቁረጥ አስፈላጊ ነው። ምክንያቱም ጥፍራችን ሲያድግ በውስጡ ቆሻሻን ስለሚይዝ ምግብ በምንመገብበት ጊዜ ቆሻሻው ወደ ሆዳችን በመግባት ለበሽታ ያጋልጠናል።

ጥፍር ሲያድግ መቁረጥ ያስፈልጋል።

ሥዕል 1.3 የአካል ክፍሎች ንፅህና አጠባበቅ።

የአካል ክፍሎቻችንን ንፅህና ካልጠበቅን በተለያዩ በሽታዎች ልንጠቃ እንችላለን።

በአካባቢያችሁ የአካል ክፍሎችን ንፅህና ባለመጠበቅ የሚመጡ በሽታዎች ምን ምን ናቸው? ለመምህራችሁ ተናገሩ ።

መልመጃ 1.2.

ሀ. ትክክል የሆነውን “እውነት” ትክክል ያልሆነውን “ሀሰት” በማለት መልሱ።

1. ከምግብ በፊትና ከምግብ በኋላ እጅን መታጠብ አስፈላጊ ነው።
2. ጥፍሮቻችን ቢያድጉ በጤናችን ላይ ችግር አያመጡም።
3. የአይናችንን ንፅህና ለመጠበቅ ፊታችንን ጠዋትና ማታ መታጠብ ያስፈልጋል።

ለ. ለሚከተሉት ጥያቄዎች ትክክለኛውን መልስ ምረጡ።

4. የአፍንጫችንን ንፅህና እንዴት እንጠብቃለን?
 ሀ/ በማሸት ለ/ በመሃረብ በመጥረግ ሐ/ በመኅርኅር መ/ በማከክ
5. ከአንገት በላይ ያለው የሰውነት ውጫዊ አካል የቱ ነው?
 ሀ/ ሆድ ለ/ እግር ሐ/ ደረት መ/ አፍንጫ
6. ውጫዊ የሰውነት ክፍል የሆነው የቱ ነው?
 ሀ/ እግር ለ/ ደረት ሐ/ ሆድ መ/ ሁሉም

1.2. መሰረታዊ ፍላጎቶቻችን

- ምግብ
- ልብስ
- መጠለያ

መታወቅ የሚገባቸው ቃላት

- | | |
|--------|---------|
| - ጣዕም | - ወቅት |
| - ጠጣር | - አውሬ |
| - መዓዛ | - ኩዋሻኮር |
| - ፍላጎት | - እንቅርት |
| - ሻካራ | - ወረሀ |
| - ለስላሳ | |
| - ቁሳቁስ | |

1.2.1. ሦስቱ የሰው ልጅ መሠረታዊ ፍላጎቶች

- የሰው ልጅ መሰረታዊ ፍላጎቶች ምን ምን ናቸው?

እስቲ ልጆች! ቀጥሎ በቀረበው ስዕል የሰው ልጅ መሰረታዊ ፍላጎቶች ምን ምን እንደሆኑ ለመምህራችሁ ተናገሩ።



ሥዕል 1.4 የሰው ልጅ መሰረታዊ ፍላጎቶች

ሦስቱ የሰው ልጅ መሰረታዊ ፍላጎቶች፡-

ሀ. ምግብ

ለ. ልብስ

ሐ. መጠለያ ናቸው።

1.2.2. የሰው ልጅ መሰረታዊ ፍላጎቶች ጠቀሜታ

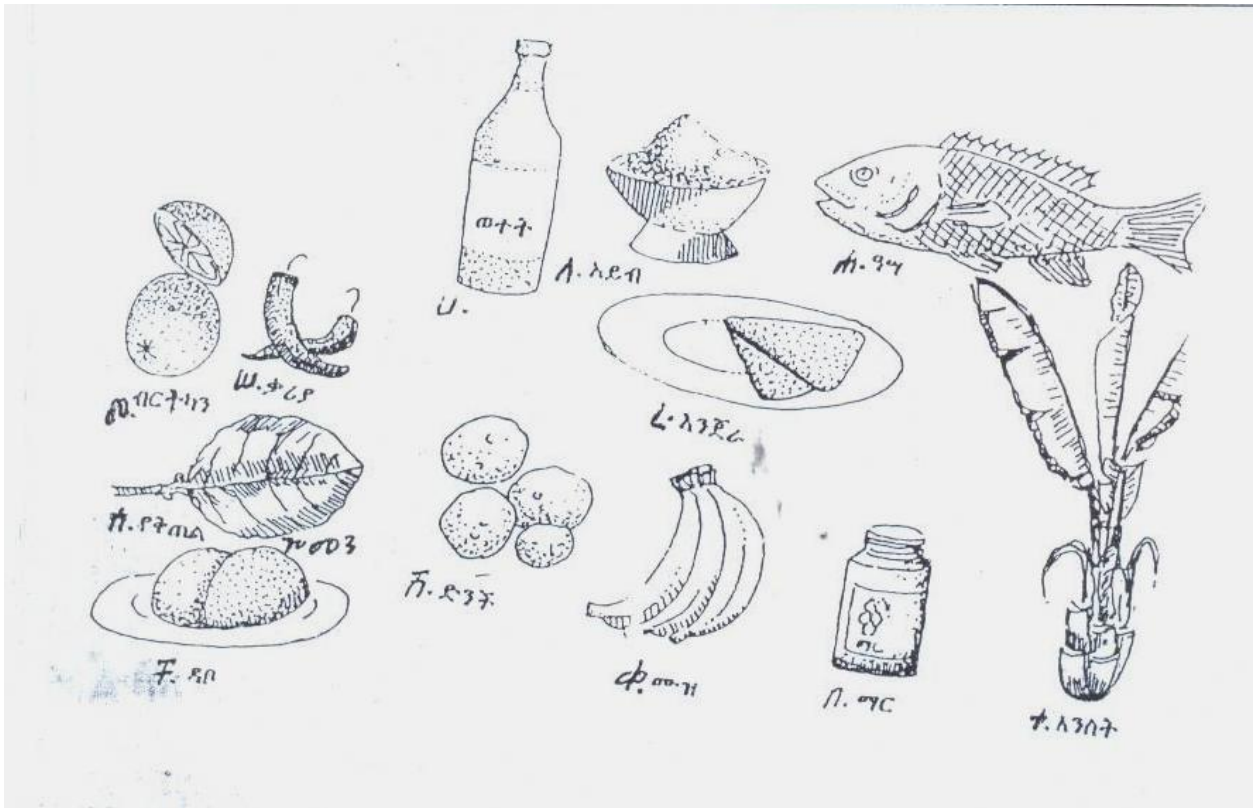
ሀ/ ምግብ

ምግብ ምንድነው?

ምግብ ማለት የሚበላና የሚጠጣ በጠጣርና በፈሳሽ መልክ የሚገኝ ምግብ ይባላል።

በአካባቢያችሁ በአብዛኛው የምትመጡት የምግብ ዓይነት ምንድነው?

ዘርዝራችሁ ንገሩዋቸው።



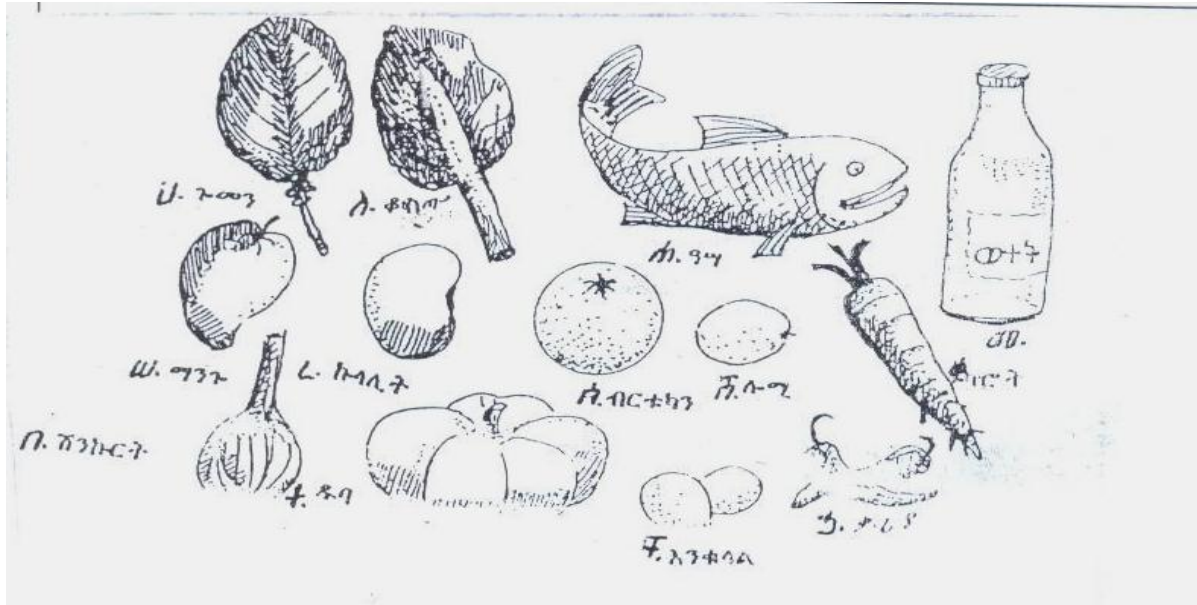
ሥዕል 1.5. የተለያዩ የምግብ ዓይነቶች

ምግብ ለምን እንደሚጠቅም ታውቃላችሁ?

ምግብ ለሰውነታችን ምን ጥቅም እንደሚሰጠን የቡድን ውይይት በማድረግ ዘርዝሩ።

የተለያዩ ምግቦችን መመገብ፡-ጤንነታችንን ይጠብቃል።

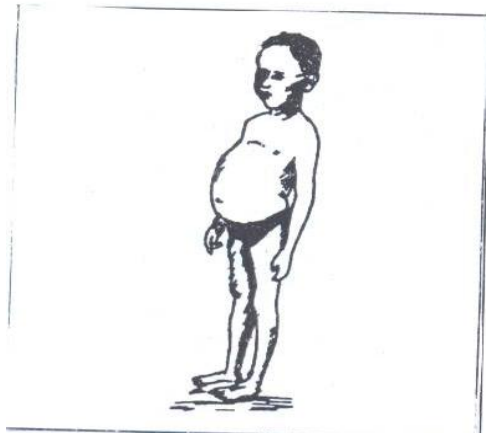
- የተስተካከለ አካላዊ ዕድገት እንዲኖረን ያግዛል።
- ከባድና ቀላል ስራዎችን ለመስራት ይረዳናል።



ሥዕል 1.6 በሽታ ተከላካይ ምግቦች

አንድ ሰው ጤነኛ ሆኖ ለመኖር ምን ምን አይነት ምግቦችን መመገብ አለበት?

ለጤንነት የሚያስፈልጉ ምግቦችን በየዕለቱ መመገብ አለብን። ለጤንነት የሚያስፈልጉ ምግቦችን የማይመገብ ሰው ለምግብ እጥረት በሽታ ይጋለጣል። ለምሳሌ፡- ኩዋሽኮር፣ አንቅርት፣ ወረሀነትና የመሳሰሉትን አይነት ማለት ነው።



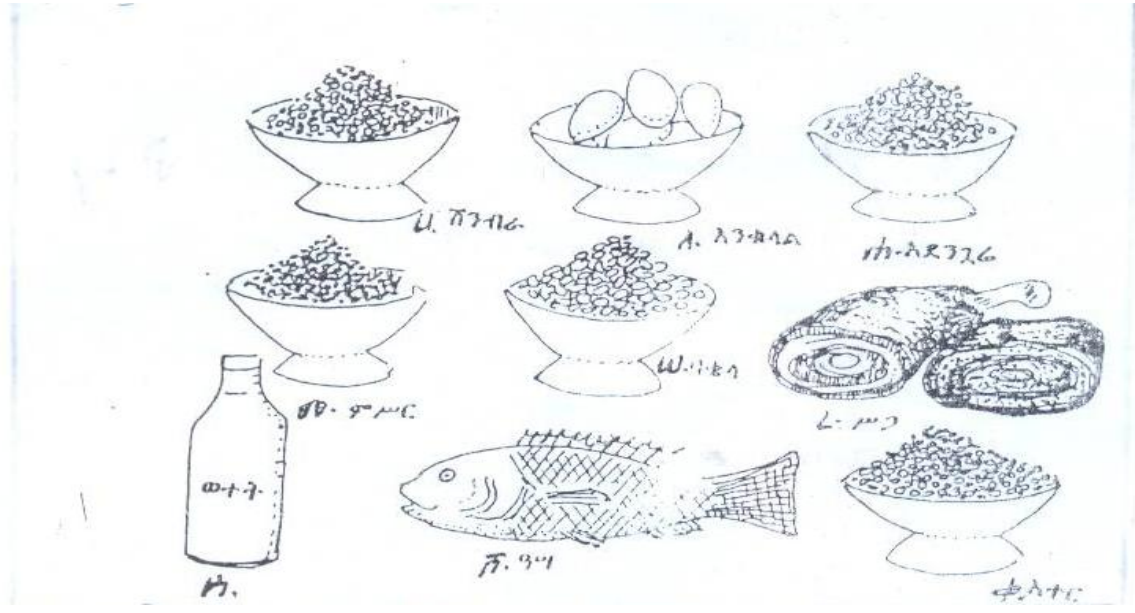
የኩዋሽኮር በሽታ የያዘው ሕጻን ሴት



የአንቅርት በሽታ የያዘች

ሥዕል 1.7 በምግብ ዕጥረት የሚመጡ በሽታዎች

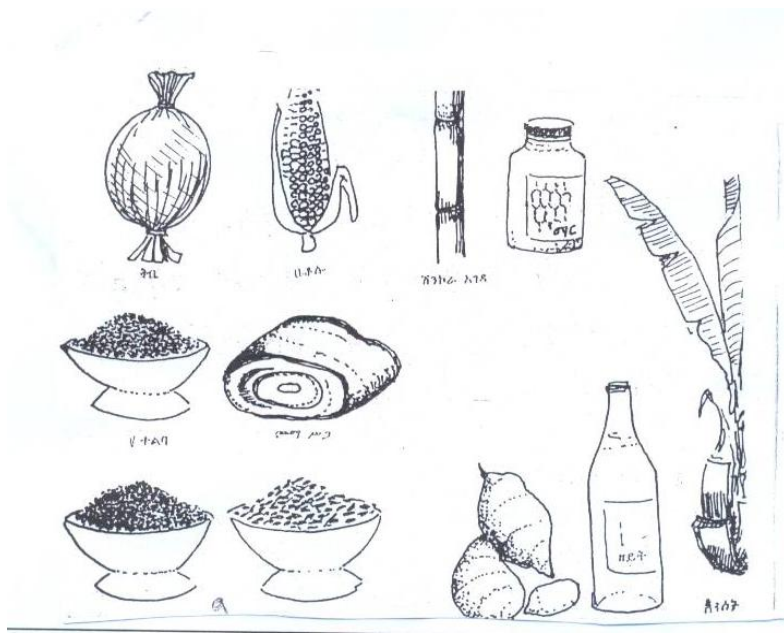
ሰውነታችንን ከሚገነቡ የምግብ ዓይነቶች ጥቂቶቹን ተናገሩ ::



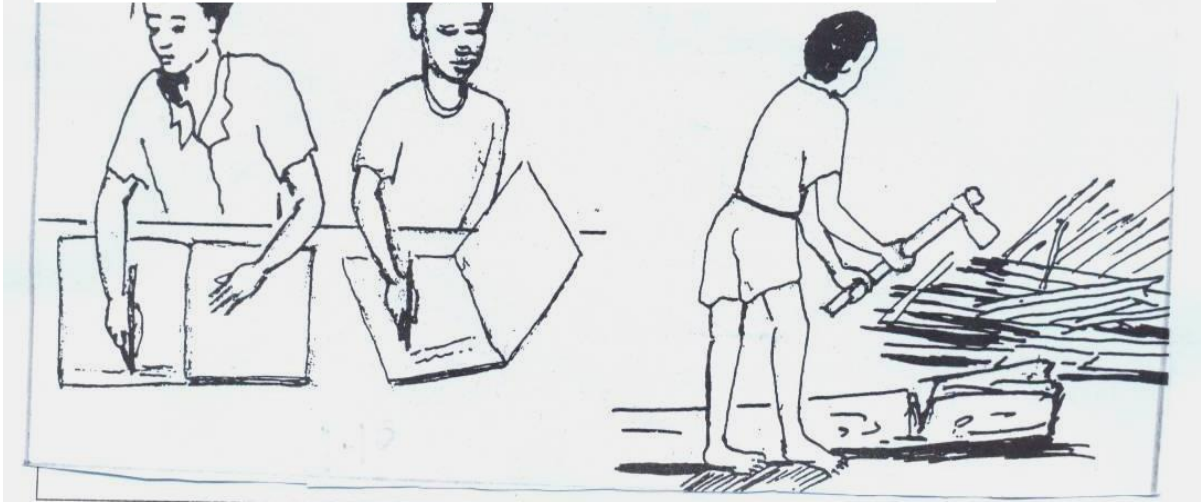
ሥዕል 1.8 ለዕድገትና ለአካል ግንባታ የሚረዱ ምግቦች

ምግብ ለተስተካከለ እድገት አስፈላጊ ነው::

ኃይልና ጉልበት ከሚሰጡ የምግብ አይነቶች ሦስቱን ጥቀሱ::



ሥዕል 1.9 የኃይልና ጉልበት ሰጪ ምግቦች



ሥዕል 1.10 ምግብ የተለያዩ ስራዎችን ለማከናወን ይረዳል።

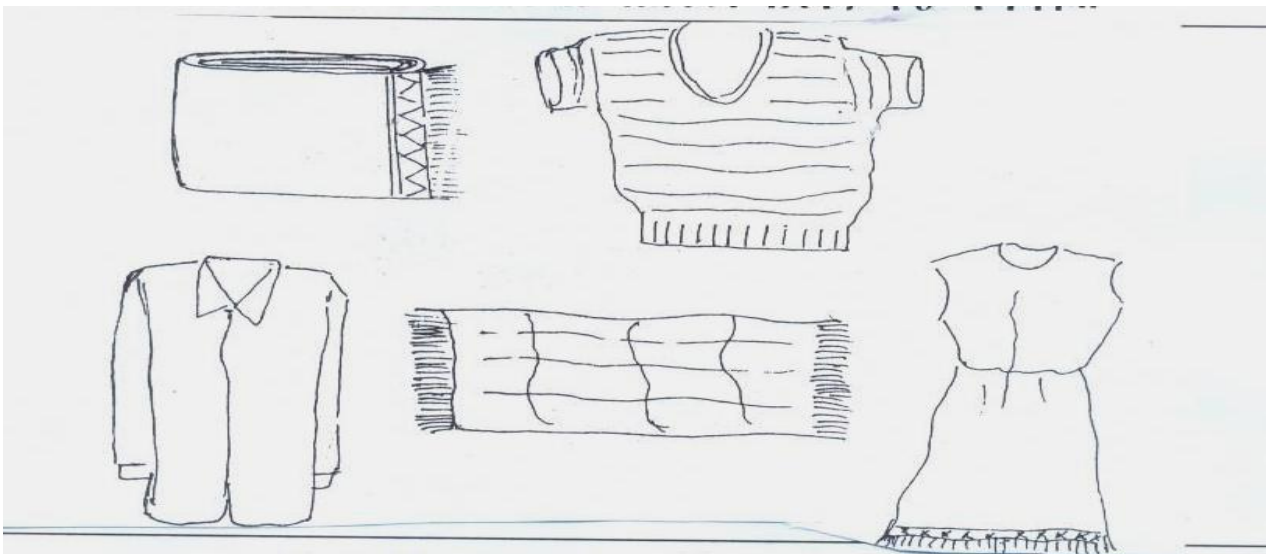
ለ. ልብስ

ልብስ ከሰው ልጅ መሠረታዊ ፍላጎቶች አንዱ ነው።

ልብስ ለምን ለምን ይጠቀማል?

ልብስ ከምን ከምን ይሰራል?

የለበሳችሁት ልብስ ከምን እንደተሰራ ለክፍል ዳደሮቻችሁ ተናገሩ።



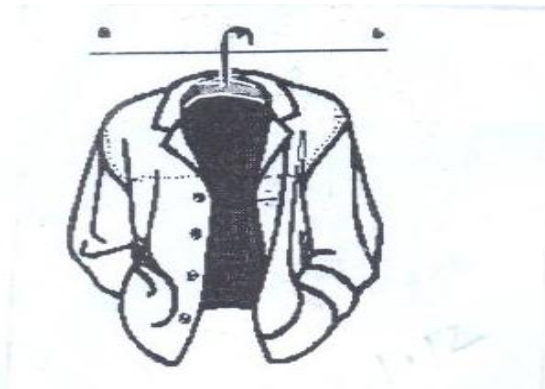
ሥዕል 1.11 የልብስ ዓይነቶች

ልብስ ከጥጥ፣ ከሱፍ፣ ከቆዳና ከላይለን ይሰራል።

የልብስ ጥቅም :-

1. ከብርድ፣ ከፀሐይና ከዝናብ ለመከላከል ይጠቅማል።
2. ውበትን ለመጠበቅ /ለማጌጥ/ ይጠቅማል።

ከቆዳ ምን ዓይነት ልብስ ይሰራል?



ጃኬት



ሱፍ ከበግ ፀጉር የሚገኝ

ሲሆን የተለያዩ ልብሶች

ይሰራበታል።

ሥዕል 1.12 ከተለያዩ ነገሮች የሚሰሩ ልዩ ልዩ ልብሶች

የልብስ ባሕሪያት ሁለት አይነት ናቸው፡፡

1. ሻካራ
2. ለስላሳ


- ከውስጥ የሚለበሱ ልብሶች ለስላሳ መሆን አለባቸው፡፡
- ሻካራ ልብሶች ደግሞ ከላይ የሚለበሱ መሆን አለባቸው፡፡
- ብርድና ቅዝቃዜ ባለበት ቦታና ወቅት ከሱፍ የተሰሩ ወፍራም ልብሶችን መልበስ ያስፈልጋል፡፡
- በሞቃት ጊዜና ቦታ ስስና ቀለል ያሉ ልብሶችን መልበስ ይጠቅማል፡፡

ሐ/ መጠለያ

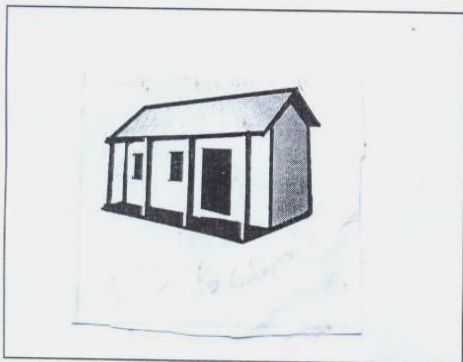
- መጠለያ ከምን ከምን እንደሚሰሩ ዘርዝሩ፡፡
- በአካባቢያችሁ በብዛት የተለመዱ የመጠለያ ዓይነቶች የትኞቹ ናቸው?
- መጠለያ ለምን ይጠቅማል?




ሣር ቤት



ብሎኬት



ቆርቆሮ ቤት



ቀርከሃ ቤት


ሥዕል 1.13 የመጠለያ ዓይነቶችና የተሰሩባቸው ቁሳቁሶች

የሰው ልጅ መጠለያዎች ወይም ቤቶች በዋናነት የሚሰሩት :-

- ከእንጨት - ከሸክላ
- ከሳር - ከብሎኬትና ከመሳሰሉት ነው።
- ከጭቃ
- ከቆርቆሮ

የመጠለያ ጥቅም :-

መጠለያ ለሰው ልጅ ልዩ ልዩ ጥቅሞችን ይሰጣል።



ሥዕል 1.14 የመጠለያ ጥቅሞች

መጠለያ :-

- ከዝናብ
- ከፀሐይ
- ከአውሬ ለመከላከል ይጠቅመናል።

በተጨማሪም አይነት አገልግሎት ይሰጣል? ለመምህራችሁ ተናገሩ።

የሰው ልጅ ከመሰረታዊ ፍላጎቶች አንዱ ባይሟላ ምን ዓይነት ችግር ሊያጋጥመው ይችላል?

የሰው ልጅ :- የተለያዩ የምግብ ዓይነቶችን የማያገኝ ከሆነ:-

- የተስተካከለ እድገት አይኖረውም።
- ጉልበት ያጣል።
- ለተለያዩ በሽታዎች ይጋለጣል።

የሰው ልጅ :- ልብስ ባይኖረው

- ለብርድ /ለቅዝቃቄ/ ይጋለጣል።
- ለዝናብ ይጋለጣል።
- ለፀሐይ ጨረር ይጋለጣል።

የሰው ልጅ :- መጠለያ ባይኖረው

- ለፀሐይና ለዝናብ እንዲሁም ከተለያዩ አውሬዎች ጥቃት ይደርስበታል።

መልመጃ 1.3

ሀ. ለሚከተሉት ጥያቄዎች ትክክለኛውን መልስ ምረጡ።

1. ከሚከተሉት የሰው ልጅ መሰረታዊ ፍላጎት ያልሆነው የቱ ነው?

ሀ/ ምግብ ለ/ ልብስ ሐ/ መጠለያ መ/ መልሱ የለም

2. ምግብ ለምን ይጠቅማል?

ሀ/ ለጤንነት ለ/ ለተስተካከለ ዕድገት

ሐ/ ለብርታት መ/ ሁሉም

3. የልብስ ጥቅም የትኛው ነው ?

ሀ/ ለአካል ግንባታ ለ/ ለብርታት ሐ/ ለውበት መ/ ለእድገት

4. ከሚከተሉት ውስጥ በፀሐይ ወቅት የሚለበሰው የትኛው ነው ?

ሀ/ ሸሚዝ ለ/ ጋቢ ሐ/ ሸራብ መ/ ብርድ ልብስ

5. ከሚከተሉት ውስጥ ለመጠለያነት የሚያገለግለው የትኛው ነው?

ሀ/ ሳር ቤት ለ/ ቆርቆሮ ቤት ሐ/ የሸክላ ቤት መ/ ሁሉም

ለ/ ትክክል የሆነውን "እውነት" ትክክል ያልሆነውን "ሀሰት" በማለት መልሱ::

6. ምግብ በሕይወት ለመኖር አስፈላጊ ነው::

7. የዝናብ ልብስ ሁልጊዜ ይለበሳል::

8. ጫማ ፣ ጃኬትና ቀበቶ ከቆዳ መስራት ይቻላል::

በተደጋጋሚ የሚያጠቁን በሽታዎች

| መታወቅ የሚገባቸው ቃላት | |
|-----------------|--------|
| - በሽታ | - ልቅ |
| - ጤና | - አጎበር |
| - ትኩሳት | - ረግረግ |
| - መንቀጥቀጥ | - መፀዳጃ |
| - ሕዋስ | - ሽታ |
| - መንስኤ | |

1.3.1. በተደጋጋሚ በመከሰት የሚታወቁ የተለመዱ በሽታዎች

በአካባቢያችሁ የምታውቁት በተደጋጋሚ የሚከሰቱ በሽታዎች ምን ምን ናቸው? ቤተሰቦቻችሁም

ሆነ እናንተ በየትኛው የበሽታ አይነት ተጠቅታችሁ ታውቃላችሁ?

በተደጋጋሚ የሚያጠቁን በሽታዎች እንደ ጉንፋን፣ ወባ፣ተቅማጥና ወስፋት የመሳሰሉት ናቸው::

ሀ. ጉንፋን:

- ጉንፋን የሚተላለፍባቸው መንገዶች ምን ይመስሏችኋል?
- የጉንፋን በሽታ ምልክቶች ምን ምን ናቸው? ለክፍል ጓደኞቻችሁ ንገሩዋቸው::



ሥዕል 1.15 በጉንፋን በሽታ የተያዘ ሰው

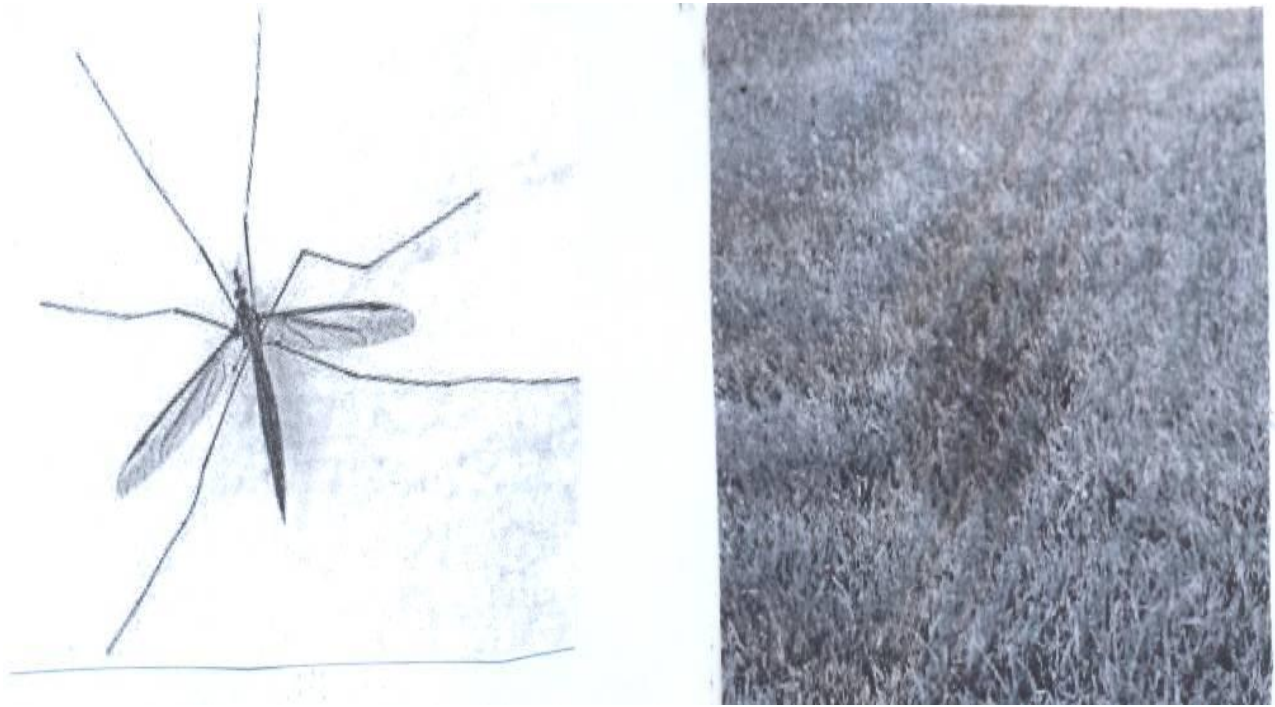
ጉንፋን ተላላፊ በሽታ ነው።

- የሚተላለፍባቸው መንገዶች ወይም ሊይዘን የሚችሉው፡-
 - በጉንፋን ከሰው ወደ ሰው፤
 - ከቆሻሻ /በመጥፎ / ሽታ፤
 - ከአፍና ከአፍንጫ በሚወጣ ፈሳሽ እንዲሁም
 - መጠጫዎችን በጋራ በመጠቀም ነው።
- የጉንፋን በሽታ ምልክቶች
 - ትኩሳት /ራስ ምታት/
 - ሣል
 - ከአፍንጫ ፈሳሽ መውጣት ናቸው።

ለ/ የወባ በሽታ

የወባ በሽታ መተላለፊያ መንገዱ ምንድነው?

የወባ በሽታ ምልክቶች ምን ምን ናቸው?



ሥዕል 1.16 የወባ በሽታ መተላለፊያና መራቢያ ቦታዎች

የወባ በሽታ በወባ ትንኝ ንክሻ የማመጣ በሽታ ነው።

የወባ በሽታ ምልክቶች :-

- ትኩሳት
- ማንቀጥቀጥ
- ማቅለሽለሽ ወይም የምግብ ፍላጎት መቀነስ የመሳሰሉት ናቸው።

ሐ/ ተቅማጥ

የተቅማጥ በሽታ በሰው ላይ ምን ዓይነት ጉዳት የሚያስከትል ይመስላችኋል?

የተቅማጥ በሽታ ምልክቶች ምን ምን ናቸው?

የተቅማጥ በሽታ በጥቃቅን /በአይን በማይታዩ / ሕዋሳት የሚመጣ በሽታ ነው።

የተቅማጥ በሽታ መንስኤዎች :-

- የተበከለ ምግብ በመመገብ
- የተበከለ ውሃ ወይም ንፅህናው ያልተጠበቀ ውሃ በመጠጣት

- የአካባቢንና የግል ንፅሕናን ባለመጠበቅ
- ንፅሕናው ባልተጠበቀ የመመገቢያ ዕቃ በመጠቀም ናቸው።

የተቅማጥ በሽታ ምልክቶች :-


- የሆድ ሕመም፤
- ትኩሣት፤
- ቀጭን አይነምድር የመሳሰሉት ናቸው።

መ/ ወስፋት

ወስፋት የሚባለው በአንጀታችን ውስጥ ሊኖር የሚችል ጥገኛ ትል ነው። ይህም ትል በአንጀታችን ውስጥ ያለውን የተጣራ ምግብ በመሻማት ይጎዳናል። የወስፋት በሽታ መተላለፊያ መንገዶች የተበከለ ውሃ በመጠጣትና የተበከለ ምግብ በመመገብ ነው።

ምልክቶቹም:-

- ማቅለሽለሽ
- የምግብ ፍላጎት መቀነስ
- መክሳትና የመሳሰሉት ናቸው።




ሥዕል 1.17 የወስፋት ትል

1.3.2 ኤድስ

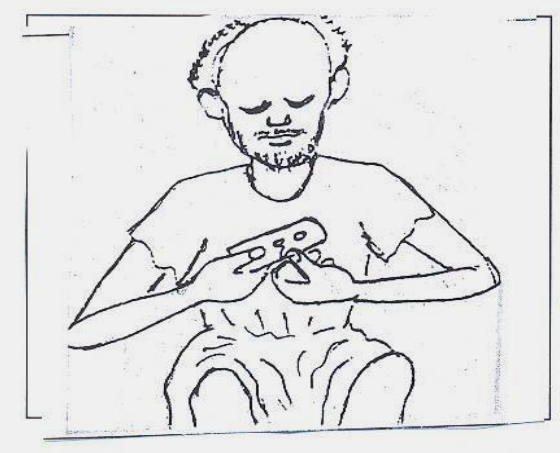
ኤድስ ምንድነው?

የኤድስን በሽታ የሚያመጣው ሕዋስ ምን ይባላል?

የሰውነት የመከላከያ አቅምን በማዳከም ለሞት የሚዳርግና መድሃኒት የሌለው ገዳይ በሽታ ነው። መንስኤውም ኤች.አይ.ቪ. ቫይረስ የተባለ ሕዋስ ነው። ኤች አይ ቪ ቫይረስ በሰው-አካል ውስጥ በሽታን ለመከላከል የሚያስችለውን የአካል ክፍል በማዳከምና በመጉዳት የሚያጠቃ ሕዋስ ነው።



ሥዕል 1.18 ከኤድስ መተላለፊያ መንገዶች አንዱ፣ ሰው የጥርስ ብሩሽ ሌላው ሲጠቀም ነው።



ሥዕል 1.19 ሌላው በተጠቀመበት ጥፍር መቁረጫ መጠቀም ተገቢ አይደለም።



ሥዕል 1.20 ባለፀዱ

የሕክምና ዕቃዎች መገልገል ለኤድስ በሽታ ያጋልጣል።

ሌሎች የበሽታው መተላለፊያ መንገዶችም አሉ። ይኸውም፡-

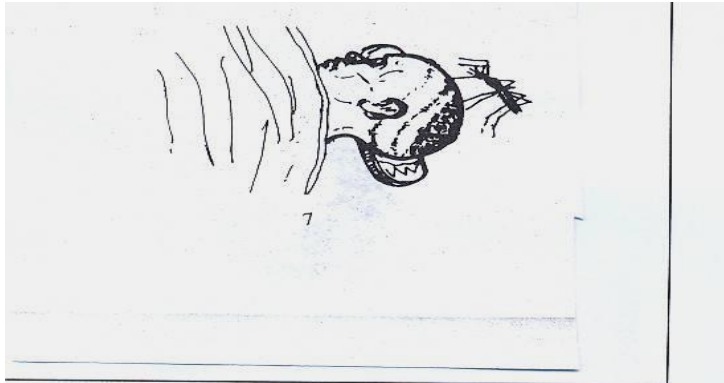
- ልቅ በሆነ ግብረ ስጋ ግንኙነት
- በወሊድ ጊዜ ጥንቃቄ በጎደለው ወሊድ ከእናት ወደ ልጅ ሊተላለፍ ይችላል።

ተማሪዎች ጥንቃቄ የጎደለው ወሊድ ምን ማለት ይመስላችኋል?

እናትየው በባሕላዊ አዋላጅ ከተገላገለች የሕፃኑ እትብት በምላጭ በሚቆረጥበት ጊዜ በደም ንክኪ ከእናት ወደ ልጅ በሽታው ሊተላለፍ ይችላል ማለት ነው።

አንዱ በተጠቀመበት መሳሪያ ሌላው ቢጠቀም ለኤድስ በሽታ ያገልጣልን?

የኤድስ በሽታ የማይተላለፍባቸው መንገዶች




ሥዕል 1.21 በወባ ትገኝ ንክሻ ኤድስ በሽታ አይተላለፍም።



ሥዕል 1.22 በመጨባበጥ የኤድስ
በሽታ አይተላለፍም።

ሥዕል 1.23 አብሮ በመመገብ የኤች አይ.ቪ.
ቫይረስ አይተላለፍም።



ሥዕል 1.24 አብሮ በመጫወት የኤድስ በሽታ አይተላለፍም።

የኤድስ በሽታ መድሃኒት የለውም። በበሽታው የተያዘ ሰው መዳን ስለማይችል ለሞት ይዳረጋል። በበሽታው ላለመያዝም የተለያዩ የመከላከያ መንገዶች አሉ። ይኸውም፡-

- አንዱ የተጠቀመበት ስለት ነክ መሣሪያዎች ሌላ ሰው እንዳይጠቀምባቸው በማድረግ
- በደንብ ባልተቀቀሉ የሕክምና መገልገያ መሣሪያዎች ባለመገልገል
- በጋራ የጥርስ ብሩሽ ባለመጠቀም መከላከል ይቻላል።



1.3.3. በሽታ መከላከል

ከተላላፊ በሽታዎች ራሳችሁን እንዴት መከላከል ትችላላችሁ?




አፍን በንፁህ መሀረብ ሸፍኖ መሳል የጉንፋን በሽታ ከአንዱ ወደ ሌላው እንዳይተላፍ ይረዳል።

ሥዕል 1.25 የጉንፋን በሽታ መከላከል



1.26 ንፁህ ሽንት ቤት በመጠቀም የተቅማጥ በሽታን መከላከል ይቻላል።

- መፀዳጀት ቤትን በተገቢው ሁኔታ በመጠቀም
- በንጽሕና በመያዝ ፣
- ከተፀዳዳን በኋላ እጃችንን በሳሙናና በውሃ በመታጠብ የተቅማጥ በሽታን መከላከል ይቻላል።



ሥዕል 1.27 አጎበር በመጠቀም ከወባትንኝ ንክሻ መከላከል ይቻላል።



ሥዕል 1.28 ረግረጋማ ቦታዎችን በማጽዳት የወባትንኝ እንዳይራቡ በማድረግ በሽታውን መከላከል ይቻላል።

መልመጃ 1.4

ሀ. ለሚከተሉት ጥያቄዎች ትክክለኛውን መልስ ምረጡ።

1. ከሚከተሉት አንዱ የጉንፋን በሽታ መተላለፊያ መንገድ ነው።

ሀ/ በመነካካት ለ/ አብሮ በመብላት ሐ/ በጉንፋኝ መ/ ሁሉም

2. ከሚከተሉት አንዱ የወባ በሽታ ምልክት ነው።

ሀ/ ማንቀጥቀጥ ለ/ ትኩሳት

ሐ/ የምግብ ፍላጎት መቀነስ መ/ ሁሉም

3. ከሚከተሉት ውስጥ በተበከለ ውሃና ምግብ የሚመጣ በሽታ የትኛው ነው?

ሀ/ ጉንፋን ለ/ ተቅማጥ

ሐ/ ኤድስ መ/ መልሱ አልተሰጠም

ለ/ ትክክል የሆነውን “እውነት” ትክክል ያልሆነውን “ሐሰት” በማለት መልሱ።

4. አንድ ላይ በመጫወት ኤች.አይ.ቪ. ኤድስ አይተላለፍም።

5. አንዱ የተጠቀመበትን የስለት መሳሪያ ሌላው ቢጠቀም ምንም አይነት የጤና

አይደርስበትም።


1.4. አምስቱ የሰሜት ሕዋሳት

መታወቅ የሚባቸው ቃላት

- ባሕላዊ
- ዘመናዊ
- ተግባር
- ብርሃን
- አቅጣጫ
- ድምጽ

1.4.1 የሰሜት ሕዋሳት ስም

- የሰሜት ሕዋሳት የምንላቸው ስንት ናቸው
- የሰሜት ሕዋሳት ምን ምን እንደሆኑ ታውቋላችሁ? ስማቸውን ዘርዝሩ።



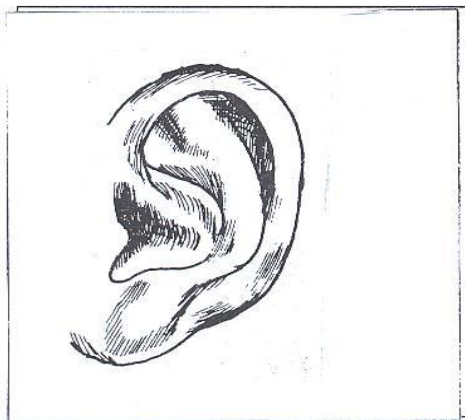
አይን



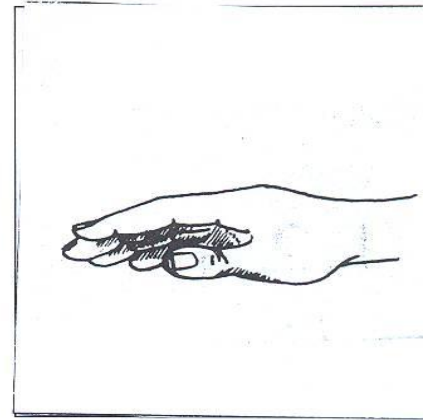
አፍንጫ



ምላስ



ጆሮ



ቆዳ (እጅ)

ሥዕል 1.29 አምስቱ የሰሜት ሕዋሳት


1.4.2. የሰሜት ሕዋሳት ተግባር

የሰሜት ሕዋሶቻችን ምን ምን አይነት ተግባራት ያከናውናሉ?

ተግባራቱን ለክፍል ጉዋደኖቻችሁ ተናገሩ።



አይን ለማየት ይጠቅማል ?



ጆሮ ለመስማት ይጠቅማል



አፍንጫ ለማሸተት ይጠቅማል።



ቆዳ ለመዳሰስ ይጠቅማል።



ምላስ ለመቅመስ ይጠቅማል።

ሥእል 1.30 የስሜት ሕዋሳት ተግባራት


1.4.3. አይን

አይን በአካባቢያችን የሚገኙ ነገሮችን ለማየት ይጠቅማል። አይናችንን ተጠቅመን አካባቢያችንን ለማየት የብርሃን ምንጭ ያስፈልገናል።

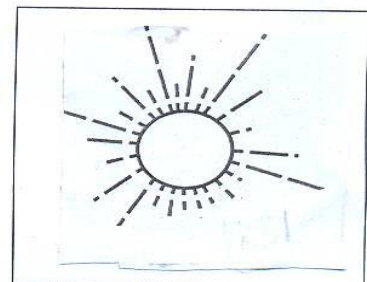
ቀንና ማታ የምንጠቀምባቸው የብርሃን ምንጮች ምን ምን ናቸው? ከክፍል ጓደኞቻችሁ ጋር በመወያየት ለመምህራችሁ ተናገሩ።




ኩራዝ



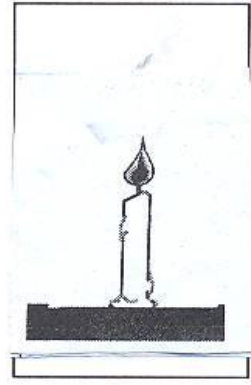
ፋኖስ




የፀሐይ ብርሃን



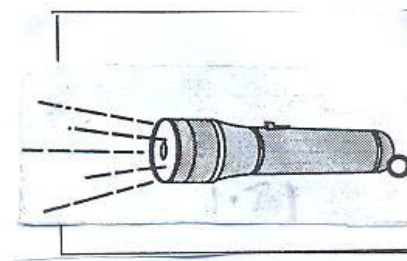
ጨረቃ



ሻማ




አምቲል



ባትሪ

ሥዕል 1.31 የብርሃን ምንጮች

ቀለማትን ለመለየት የሚጠቅመን የስሜት ሕዋስ የትኛው ነው?



ውተት



የኢትዮጵያ ባንዲራ



አበባ

ሥዕል 1.32 ቀለማትን ማየትና መለየት

ተግባራዊ ክንዋኔ 1.1

የተለያዩ ቅጠላ ቅጠሎችንና አበባዎችን በመጠቀም ቀለማትን መስራት የሚያስፈልጉ ነገሮች :-

- የተለያዩ የእፅዋት ቅጠሎች
- ሙቀጫና ዘነዘና /ጠፍጣፋ እንጨት፣ ጣውላና ድንጋይ/
- ውሃ
- ጉድጓዳ ሣህን
- ወንፌት /ማጥለያ/
- ስኳር

የአሰራር ቅደም ተከተል

- ቅጠሉን መጨቅጨቅ
- ውሃ መጨመር
- ማጥለል
- ስኳር መጨመር
- ለ24 ሰዓት ቀዝቃዛ ቦታ ማስቀመጥ
- የቅጠሉን ጭማቂ መጠቀም

ውጤት :- የቅጠሉ ጭማቂ ምን አይነት ሆነ?

ጭማቂው ጥቅም ላይ ከዋለ በኋላ እንደሌሎቹ ቀለማት በወረቀት ላይ ቆየ?

- ቀይ ፣ ሰማያዊ እና ቢጫ ዋና ዋና ቀለማት በመባል ይታወቃሉ።


1.4.4 ጆሮ

ዋና ዋና ድምጾችን መለየት

በመስማት የተለያዩ ድምጾችን መለየት ትችላላችሁ?

ጆሮ ድምፅን ለመስማት የምንጠቀምበት የስሜት ሕዋስ ነው።


በተጨማሪ የምንሰማው ድምፅ ከየትኛው አቅጣጫ እንደመጣ ለመለየት ይረዳናል።




ባኦ - ባኦ - ባኦ...




ኩ ኩ ሉ ሉ




ሚያው



እምቧ --- እምቧ



ሃ -- ሃ-- ሃ--




ው -- ው--- ው-----

ሥዕል 1.33 የተለያዩ የቤት እንስሳት ድምፅ


የተለያዩ የቤት እንስሳትን ድምፅ ማሰማት ትችላላችሁ? በቡድን በመሆን ለክፍል
3 ደኞቻችሁ አሰሙ::

ማታ ማታ ጅብ ሲጮህ ሰምታችሁ ታውቃላችሁ?


እንደወፍ መጮህ ትችላላችሁ?




አንበሳ



ጅብ



ዝሆን




ወፍ


ሥዕል 1.34 ልዩ ልዩ የዱር እንስሳት ድምፅ ይለያያል::

በአካባቢያችሁ የምታውቋቸውን የዱር እንስሳት ድምጾች አሰሙ።
የሞተር ድምጾች


በአካባቢያችሁ የተለያዩ ሞተሮች የሚያመነጩትን ድምፅ አስመስላችሁ አሰሙ።




አይሮፕላን



መኪና



ወፍሬ



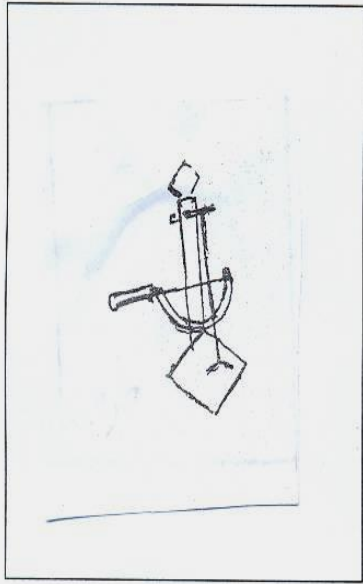
ባቡር

ሥዕል 1.35 ልዩ ልዩ ሰው ሰራሽ ሞተሮች የተለያዩ ድምጾችን ያመነጫሉ።

የሙዚቃ መሣሪያ ድምጾች

በአካባቢያችሁ የሚገኙ የሙዚቃ መሣሪያዎች ምን ምን ናቸው?

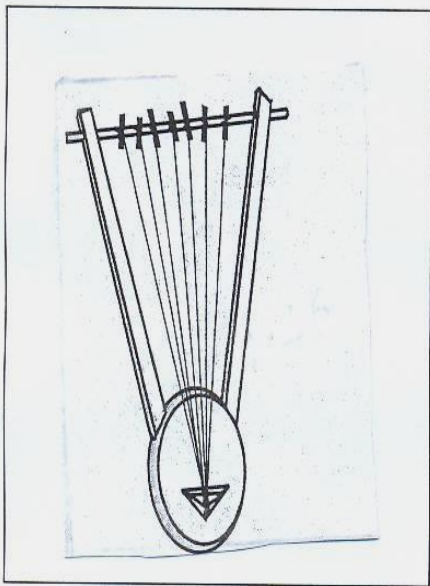
የሙዚቃ መሣሪያ ድምጾች ይለያያሉ?




ማሲንቆ



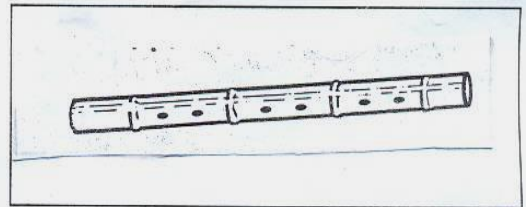
ክብሮ



ክራር



ዕናጽል

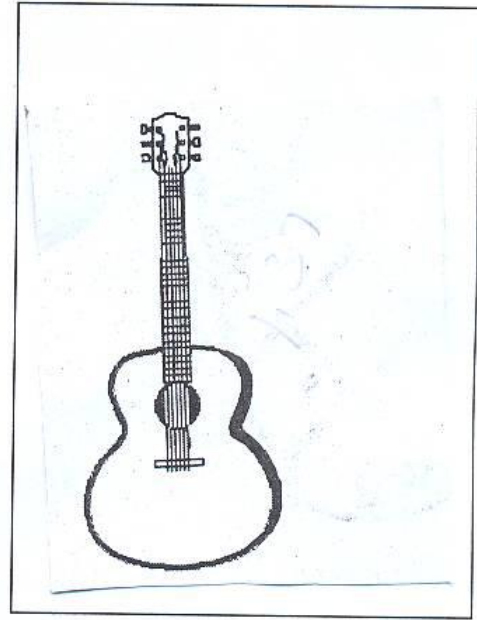


ዋሽንት

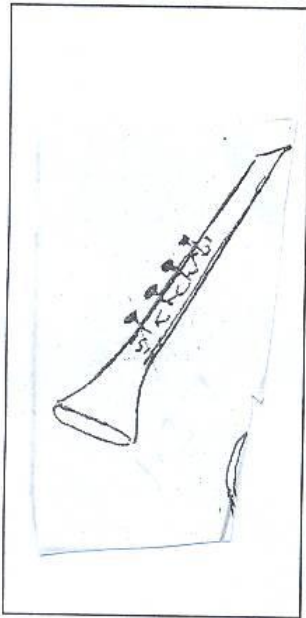
ሥዕል 1.36 ባሕላዊ የሙዚቃ መሣሪያዎች



ሳክሶፎን



ጊታር



ትራንፔት


ሥዕል 1.37 ዘመናዊ የሙዚቃ መሳሪያዎች

በአካባቢያችሁ ካሉት የሙዚቃ መሳሪያዎች ውስጥ የተወሰኑትን ምረጡ።

እነዚህን የመረጣችኋቸውን በአካባቢያችሁ ካሉት ቁሳቁሶች ለመስራት ሞክሩ።

የሰራችኋቸውን የሙዚቃ መሳሪያዎች በክፍል ውስጥ በማምጣት እየነካካችሁ ድምፅ እንዲያሰሙ አድርጉ።

የሰዎች ድምፅ



ሥዕል 1.38 ሰዎች ሲያዝኑ ያለቅሳሉ።



ሥዕል 1.39 ሰዎች ሲደሰቱ ይዘፍናሉ።

1.4.5. ምላስ

የተለያዩ ነገሮች መቅመስ

ሁሉም የምግብ አይነት አንድ አይነት ጣዕም አላቸው?

ሁሉንም ነገር መቅመስ ጥሩ ነው ?



ሥዕል 1.40 በመቅመስ የተለያዩ ጣዕም ያላቸውን ምግቦች መለየት

እንችላለን።

በጣም ትኩስ ወይም የሚያቃጥል ምግብ መቅመስ ምን ጉዳት ያመጣል?

ሁሉንም ፈሳሽ ወይም ጠጣር ነገር መቅመስ ተገቢ አይደለም።

አንድ ነገር ከመቅመሳችን በፊት ለጤና ተስማሚ ወይም ጠንቅ መሆኑን ወይም

አለመሆኑን ማረጋገጥ አለብን።

በጣም ትኩስ እና የሚያቃጥል ምግብ በምላሳችን ላይ ጉዳት ያስከትላል።

1.4.6. አፍንጫ


በማሸተት የተለያዩ ነገሮችን መለየት

ሁሉም የሚሸቱ ነገሮች አንድ አይነት ሽታ አላቸው?

ሁሉንም ነገር ማሸተት ለጤና ጥሩ ነው?




ሽቶ



ሰንደል

የዕጣን ጭስ





ጸጸ

ሥዕል 1.41 ጥሩ ሽታ /መዓዛ/ ያላቸው ነገሮች

አበባዎች መልካም ሽታ አላቸው። ነገር ግን ሁሉንም አይነት አበባ ማሸተት ለጤና ጠንቅ ነው።

የተለያዩ መጥፎ ሽታ ያላቸውን ነገሮች ዘርዝሩ።



የሞተ እንስሳ

ንጽሕናው ያልተጠበቀ ሽንት ቤት

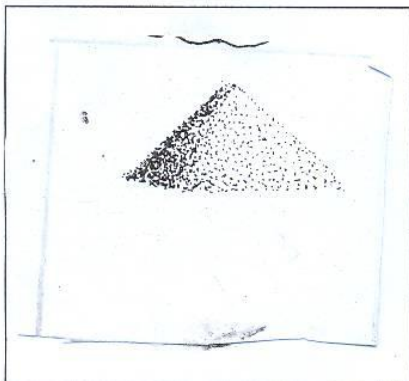
ሥዕል 1.42 መጥፎ ሽታ ያላቸው ነገሮች

ሽንት ቤቶች፣ የቆሻሻ ማጠራቀሚያዎች፣ ንፅሕና የጎደለው የጫማ ሽታ፣ ወዘተ. መጥፎ ሽታ አላቸው። እነዚህን ነገሮች ማሽተት ወይም በአካባቢያቸው መጫወት ለከፋ የጤና ችግር ይዳርጋል።

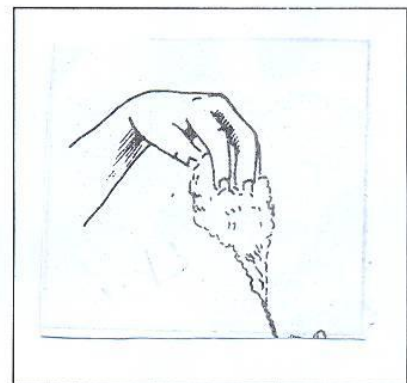
1.4.7 ቆዳ

ነገሮችን መዳሰስ

ተማሪዎች የምታውቋቸውን ለስላሳና ሻካራ የሆኑ ነገሮችን ለመምህራችሁ ተናገሩ።



አሸዋ ሻካራ ነገር ነው።



ጥጥ ለስላሳ ነገር ነው።



በቆዳችን ሞቃትና ቀዝቃዛ ነገሮችን እንለያለን።

ሥዕል 1.43 በመዳሰስ የተለያዩ ነገሮችን ለመለየት እንችላለን።

ቆዳ የተለያዩ ነገሮችን በመዳሰስ የምንለይበት የስሜት ሕዋስ ነው።

በጣም ቀዝቃዛ ወይም በጣም ሞቃት የሆነ ውሃ መንካት ቆዳችንን በመጉዳት ለሕመም ይዳርገናል።

መልመጃ 1.5.

ሀ/ የሚከተሉትን ጥያቄዎች ትክክል የሆነውን “እውነት” ትክክል ያልሆነውን “ሀሰት” በማለት መልሱ።

1. የሙዚቃ መሳሪያዎችን ድምጾች በጆሮአችን እንለያለን።
2. ጨውንና ስኳርን በጣዕማቸው መለየት እንችላለን።
3. ሽንት ቤት ንፅሕናው ካልተጠበቀ መጥፎ ሽታ አለው።

ለ/ የሚከተሉትን የስሜት ሕዋሳት ከጥቅማቸው ጋር በማስመር አገናኙ /አዛምዱ/።

- | ሀ | ለ |
|----------|----------|
| 1. ዓይን | ሀ. ለመዳሰስ |
| 2. አፍንጫ | ለ. ለመቅመስ |
| 3. ጆሮ | ሐ. ለማሸተት |
| 4. ቆዳ | መ. ለማየት |
| 5. ምላስ | ሠ. ለመስማት |

ሐ/ ለሚከተሉት ጥያቄዎች ትክክለኛውን መልስ ምረጡ።

- 1. መጥፎ ሽታ ያለው የትኛው ነው?
 ሀ/ አበባ ለ/ ሽቶ ሐ/ የሞተ እንስሳ
- 2. የስልክ መልዕክት የምንቀበለው በየትኛው የስሜት-ሕዋሳችን ነው?
 ሀ/ በጆሮ ለ/ በዓይን ሐ/ በአፍንጫ
- 3. ብርሃን አመንጭ የሆነው የቱ ነው?
 ሀ/ ድንጋይ ለ/ መስታወት ሐ/ ሻማ

የክለሳ መልመጃ

ሀ/ የሚከተሉትን ጥያቄዎች ትክክል የሆነውን “እውነት” ትክክል ያልሆነውን “ሀሰት” በማለት መልሱ።

- 1 ቁርጭምጭሚት ውጫዊ የአካል ክፍል ነው።
- 2 ጆሮ ድምፅን ለመስማት አያገለግልም።
- 3 ኤድስ በሽታ መድሃኒት ያልተገኘለት ገዳይ በሽታ ነው።

ለ/ የሚከተሉትን በ“ለ” ስር የሚገኙትን ጥያቄዎች ከ“ሀ” ስር ከሚገኙት ጋር አዛምዱ።

ሀ

ለ

- | | |
|--------------------------|---------|
| 4 ኃይልና ብርታት ለማግኘት ይጠቅማል | ሀ/ መጠለያ |
| 5 ውበታችንን ለመጠበቅ ይጠቅመናል | ለ/ ምግብ |
| 6 ከአደገኛ አውሬ ለመከላከል ይጠቅማል | ሐ/ ልብስ |

ሐ/ ለሚከተሉት ጥያቄዎች ትክክለኛውን መልስ ምረጡ።

- 7 በሞቃት ወቅት መልበስ የሚገባን ልብስ ምን ዓይነት መሆን አለበት?
 ሀ/ ወፍራም ለ/ ሻካራ ሐ/ ስስ
- 8 ልብስ ከምን ከምን ይሰራል?
 ሀ/ ከቆዳ ለ/ ከጥጥ ሐ/ ሁሉም
- 9 መጠለያ ቤቶች የሚሰሩት ከምን ከምን ነው ?
 ሀ/ ከቆርቆሮ ለ/ ከሳር ሐ/ ሁሉም
- 10 ከሚከተሉት ውስጥ አንዱ የወባ በሽታ መከላከያ ዘዴ ነው።
 ሀ/ አጎበር መጠቀም ለ/ በሳሙና መታጠብ ሐ/ ምግብ መብላት

መ/ ለማከተሉት ጥያቄዎች ትክክለኛውን መልስ ስጡ።

- 11 . ኤች አይ ቪ ኤድስ የማይተላለፍባቸውን መንገዶች ግለፁ።
- 12 . ከአንገት በታች ያሉትን ውጫዊ የአካል ክፍሎች ዘርዝሩ ።

ማጠቃለያ

ውጫዊ የሰውነት ክፍሎች የሚያካትቱት፡- ጭንቅላት /ራስ/፣ ፀጉር፣ ጆሮ፣ አይን፣ አፍንጫ፣ አፍ፣ እጅ፣ ጣት፣ ደረት፣ ሆድ፣ እግር፣ ጉልበትና ቁርጭምጭሚት ናቸው፡፡

የአካል ክፍሎችን ንፅሕና ለመጠበቅ

- እጅን ፊትንና ገላን በየጊዜው መታጠብ
- ፀጉርን መታጠብና ማበጠር፤
- ጥርስን በዘመናዊ ወይንም በባሕላዊ መፋቂያ ማፅዳት
- ጥፍርን መቁረጥ
- አፍንጫን በመሀረብ ወይም በንፁህ ጨርቅ ማፅዳት፤
- እግርን በየአለቱ በሳሙናና በውሃ መታጠብ

ምግብ፣ ልብስና መጠለያ የሰው ልጅ መሰረታዊ ፍላጎቶች ናቸው፡፡

የተለያዩ ምግቦችን፣ ልዩ ልዩ የልብስ አይነቶችንና የተለያዩ ቅርፅ ያላቸውን መጠለያዎች መጠቀም ያስፈልጋል፡፡

በተደጋጋሚ በማጥቃት የሚታወቁና የተለመዱ በሽታዎች የሚባሉት እንደ ጉንፋን፣

ወስፋት፣ ወባና ተቅማጥ ያሉት ናቸው፡፡ በተጨማሪ ኤድስ መድሃኒት የሌለው ገዳይ በሽታ ነው፡፡

የስሜት ሕዋሳት የምንላቸው ዓይን፣ ጆሮ፣ ቆዳ፣ ምላስና አፍንጫ ናቸው፡፡ እነዚህም የሚሰጡት ጠቀሜታ፡-

- አይን ለማየት
- ጆሮ ለመስማት
- ምላስ ለመቅመስ
- አፍንጫ ለማሸተት
- ቆዳ ለመዳሰስ የሚያገለግሉን የስሜት ሕዋሶቻችን ናቸው፡፡

ክፍለ ትምህርት ሁለት

2. ቤተሰቦቻችን


2.1. የቤተሰብ አባላት

| መታወቅ የሚገባቸው ቃላት | |
|-----------------|-------------|
| - ቁጠባ | - ሙያተኛ |
| - የአኗኗር ሁኔታ | - ንብረት |
| - ድርሻ | - ታማኝነት |
| - መረዳዳት | - መተሳሰብ |
| - አርአያ | - መከባበር |
| - አስተዳደር | - ሥነ - ምግባር |
| - ፍቅር | |
| - መስክ | |
| - ምንጭ | |

ቤተሰብ ምን ማለት ነው ?

በየአካባቢያችን የሚኖሩ ሰዎች የየራሳቸው ቤተሰብ አላቸው።

ይህ ቤተሰብ የማህበረሰብ መሰረት ነው።



ሥዕል 2.1. የቤተሰብ አባላት

የቤተሰብ አስተዳዳሪዎች እነማን ናቸው?

ከወላጆቻችሁ ቀጥሎ የቅርብ ዘመዶቻችሁ እነማን እንደሆኑ ተናገሩ ።

2.1.1 የቤተሰብ አባላት ዝርዝር

ልጆች! የቤተሰብ አባላት የሚባሉት እነማን እንደሆኑ ዘርዝሩ።

የቤተሰብ አባላት የምንላቸው ወላጆች፣ እህቶች፣ ወንድሞች፣ አክስቶች፣ አጎቶች እና ሌሎችም የቅርብ ቤተሰቦች ናቸው።

እናትና አባት

እናትና አባት የልጆች ወላጆች ናቸው።

እናትና አባት የቤተሰብ አስተዳዳሪዎች ናቸው።

ልጆች

ልጆች! ከእናንተ በፊት ቀድመው የተወለዱና ከእናንተ በኋላ የተወለዱ ወንድም ወይም እህት ምን ብለን እንጠራቸዋለን?

በየአካባቢያችሁ ለሚገኙ ቤተሰቦች መጠሪያ የሆኑ ስያሜዎችን ዘርዝሩ።


ታላቅነትና ታናሽነት የሚገለፅባቸው ሌሎች የአክብሮት መጠሪያዎች አሉ። እነሱም ጋሼ፣ ወንድም ጋሼ፣ እታብባ፣ አባባ፣ እማማ፣ እታለምና የመሳሰሉት ናቸው።

ሴት ልጆች እህት ይባላሉ።

ወንድ ልጆች ወንድም ይባላሉ።



ሥዕል 2.2. ሴት ልጅ



ሥዕል 2.3. ወንድ ልጅ

ሌሎች የቤተሰብ አባላት

ሌሎች የቤተሰብ አባላት የምንላቸው፡-

- አጎት
- አክሰት
- ወንድ አያት እና ሴት አያት ናቸው።

የእናት ወይም የአባት ወንድም አጎት ይባላል።

የእናት ወይም የአባት እህት አክሰት ትባላለች።

ልጆች በእድሜ ታናናሽ የሆኑ ልጆች ታላቅ እህቶቻቸውንና ወንድሞቻቸውን ማክበር አለባቸው።

2.1.2. የአኗኗር ሁኔታ

ለመኖር የቤተሰብ አባላት ምን ያደርጋሉ?

እናንተ ቤተሰቦቻችሁን በምን በምን ትረዳላችሁ?

የወላጆቻችሁ የስራ ድርሻ አንድ አይነት ነውን? ለምን? የሥራ ድርሻቸው ምን ምን እንደሆነ ለክፍል ጓደኞቻችሁ ተናገሩ።



ሥዕል 2.4. የቤተሰብ አባላት በስራ ሲረዳዱ

ሴቶችና ወንዶች በማህበራዊ ነጭ ውስጥ እኩል የሥራ ድርሻና ኃላፊነት አላቸው።

2.1.2.1. የወላጆች የሥራ ድርሻ /ኃላፊነት/

ወላጆች በቤተሰባቸው ውስጥ የሚከተሉትን ተግባራት መፈፀም አለባቸው።

ይኸውም :- መልካም አርአያነት

ጥሩ አስተዳደር

እንክብካቤና ፍቅር

መልካም አርአያነት

ወላጆች ለልጆቻቸው ጥሩ ነገር እየሰሩ ካስተማሩዋቸው መልካም አርአያነት ይባላል።

ጥሩ አስተዳደር

ቤተሰብን በጥሩ ሁኔታ መምራት ማለት ነው። ለምሳሌ :- ልጆችን መቆጣጠር፣ መምከርና የመሳሰሉት ናቸው።

እንክብካቤና ፍቅር

ወላጆች በአቅማቸው ልጆቻቸውን መርዳት አለባቸው። ለምሳሌ :- ሲታመሙ ማሳከም፣

ደህንነታቸውን መጠበቅ እና ሌሎችም ናቸው።



ሥዕል 2.5. ወላጆች ልጆቻቸውን ሲንከባከቡ

ወላጆቻችሁ በየትኛው የሥራ መስክ ተሰማርተው ይገኛሉ? ለክፍል ጓደኞቻችሁ ንገሩዋቸው።

ስራ ለምን ያስፈልጋል?

ወላጆች እንደ ቤተሰብ አስተዳዳሪነታቸው ቀጥሎ የቀረቡትን ኃላፊነቶች መወጣት አለባቸው።


- የገቢ ምንጭ መፍጠር
- በገቢ ማስተዳደር
- ቆጥቦ ንብረትን ማፍራት

የገቢ ምንጭ መፍጠር

ወላጆች የተለያዩ ስራዎችን በመስራት የገቢ ምንጮችን ይፈጥራሉ።

ለምሳሌ :- በንግድ፣ በማስተማር፣ በእርሻ ፣ በእጅ ሙያ / እንደ አናጻጸት፣ ግንባኝነት/ እንዲሁም የቢሮ ሥራዎችንና ሌሎችንም ያካትታል።

ተማሪዎች! ሌሎች የምታውቋቸውን የሥራ ዘርፎች ለመምህራችሁ ንገሩዋቸው።



ሥዕል 2.6 የተለያዩ የሥራ ገቢ ምንጮች

በገቢ ማስተዳደር

ወላጅ ባገኘው ገንዘብ ቤተሰቡን ያስተዳድራል።

ለምሳሌ :- ለልጆች ልብስ፣ ምግብ፣ ሌላም አስፈላጊ ነገሮችን በመግዛት ሊሆን ይችላል።

ቆጥቦ ንብረት ማፍራት

ተማሪዎች! እርሳስ፣ እስክሪኒኑና ሌሎች የምትጠቀሙበትን ዕቃዎች ሳታባክኑ ትጠቀማላችሁ?

ሳይጠፋባችሁ በደንብ ከተጠቀማችሁ ቆጠባችሁ ይባላል።


ወላጆችም ከሚያገኙት ገንዘብ በማስቀመጥ ቤት ይሰራሉ፣ የቤት ዕቃ ይገዛሉ፣ ይህም ቆጥቦ ንብረት ማፍራት ይባላል።

2.1.2.2. የልጆች የሥራ ድርሻ

ልጆች ልክ አንደ እናትና አባት የራሳቸው የስራ ድርሻ አላቸው።

የልጆች የሥራ ድርሻ

- መማር
- የቤተሰብን ደንብ ማክበር
- መታዘዝ



- ቤተሰብን በአቅም መርዳት ናቸው።



ሥዕል 2.7 የልጆች የሥራ ድርሻ

ተማሪዎች! ወደፊት በምን አይነት የስራ ዘርፍ መሰማራት ትፈልጋላችሁ?

ለምን መረጣችሁ? ለክፍል ጓደኞቻችሁ ንገሩዎቻችሁ።

2.1.3. የቤተሰብ መልካም ግንኙነት

አንድ ቤተሰብ ጥሩ መሆን የሚችለው በቤተሰብ አባላት መካከል መልካም ግንኙነት ሲኖር ነው።

- ቤተሰባዊ መልካም ግንኙነት የምንላቸው፡-

- መተሳሰብ
- መግባባት
- መፈቃቀር
- መከባበር
- በስራ መረዳዳት
- ችግርን በጋራ መፍታት እና
- ታማኝነት ናቸው።

መተሳሰብ፡- የቤተሰብ አባላት በመተሳሰብ ይኖራሉ።

መግባባት፡- አንዱ የቤተሰብ አባል ከሌላው የቤተሰብ አባል ጋር ያለው መልካም ግንኙነት መግባባትን ይፈጥራል።


መፈቃቀር፡- አንዱ ለሌላው ጥሩ አመለካከት ካለው የመፈቃቀር ምልክት ነው።

መከባበር፡- በቤተሰብ አባላት መካከል የሚታየው ጤናማ ግንኙነት የመከባበር ውጤት ነው።

ታማኝነት ማለት፡- አለመዋሸት፤

አለመስረቅና፤

አለማታለል ናቸው።



በቤተሰብ ውስጥ ችግር ሲፈጠር በውይይት መፍታት ይገባል።



ለታላቅ ሰው በአክብሮት ሰላምታ መስጠት ያስፈልጋል።

ሥዕል 2.8 የቤተሰብ መልካም ግንኙነት

ታማኝ ልጅ በቤትና በትምህርት ቤት የሚያሳያቸውን ምግባሮች በዝርዝር ተናገሩ።

መልመጃ 2.1.

ሀ. የሚከተሉትን ጥያቄዎች ትክክል የሆነውን “እውነት” ትክክል ያልሆነውን “ሀሰት” በማለት መልሱ።

- 1 ልጆች በአቅማቸው ቤተሰባቸውን በስራ ማገዝ አለባቸው።
- 2 ታማኝነት ቤተሰባዊ ሥነ-ምግባር አይደለም።
- 3 መፈቃቀር የቤተሰብ መልካም ግንኙነት ነው።

ለ. በ “ለ” ሥር የተቀመጡትን በ “ሀ” ሥር ከተመለከቱት ጋር አዛምዱ።

| ሀ | ለ |
|------------------------------------------|-----------------------------|
| 4 በአንድ ቤተሰብ አባላት መካከል ችግር ሲኖር መፍታት የሚቻለው | ሀ. መማር ለ. የወላጆች ኃላፊነት ነው |
| 5 ከልጆች የሥራ ድርሻ ይመደባል | ሐ. ግብርና |
| 6 ቋሚ ንብረት ማፍራት | መ. በመወያየት |
| 7 የገቢ ምንጭ ማስገኛ ነው | |

ሐ. የሚከተሉትን ጥያቄዎች ትክክለኛውን መልስ በመምረጥ መልሱ።

- 8. በታናሽና በታላቅ ልጆች መካከል _____ መኖር አለበት።
 ሀ/ መከባበር ለ/ መጣላት ሐ/ መጨቃጨቅ
- 9. የቤተሰብ አባል ያልሆነው የትኛው ነው?
 ሀ/ አባት ለ/ አናት ሐ/ ጎረቤት
- 10. የእናት ወይም የአባት ወንድም ምን ይባላል?
 ሀ/ አያት ለ/ አጎት ሐ/ አባት

2.2. የቤተሰብ መሰረታዊ ፍላጎቶች

መታወቅ የሚገባቸው ቃላት

- እፅዋት
- ግብዓት
- በጋ
- እህል
- ምርት

- የአንድ ቤተሰብ መሰረታዊ ፍላጎቶች የምንላቸው የሚከተሉት ናቸው፡፡
ይኸውም፡-

- 1 . ምግብ
- 2 . ልብስ
- 3 . መጠለያ


2.2.1. ምግብ

የምግብ ምንጭ

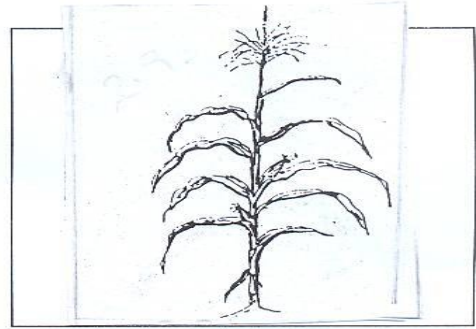
በየአካባቢያችን ግብርና ዋና የምግብ ምንጭ ነው፡፡ ግብርና ስንል የእንስሳት እርባታንና የእርሻ ሥራን ያጠቃልላል፡፡

እስቲ በየአካባቢያችሁ የሚበቅሉና ለምግብነት የሚውሉ የእህል አይነቶችን ለክፍል ጓደኞቻችሁ ንገሩዋቸው፡፡

በየአካባቢያችሁ የሚበቅሉ ነገርግን ለምግብነት የማይውሉ የእፅዋት አይነቶች ምን ምን እንደሆኑ ለመምህራችሁ ተናገሩ፡፡



የእንሰት ተክል



የቦቆሎ ተክል

ሥዕል 2.9 ለምግብነት የሚውሉ የእፅዋት አይነቶች

የተለመዱ እህሎች

በየአካባቢያችን የሚበቅሉና ለምግብነት የሚውሉ የተለያዩ የእህል ዓይነቶች ይገኛሉ። እነዚህም ፡- ጤፍ፣ ቦቆሎ፣ ማሽላ፣ ስንዴ፣ ገብስ የመሳሰሉት ናቸው ። በተጨማሪ ለምግብነት ከሚውሉ እፅዋት መካከል እንሰት፣ ሙዝ ፣ አቦካዶ፣ ማንጎ፣ ቦይና፣ ጎደሬ ፣ ስኳር ድንች፣ ወዘተ ይገኙበታል።

- በእናንተ ቤተሰብ ውስጥ አዘውትራችሁ የምትመገቡት የምግብ አይነት ምንድነው? ለመምህራችሁ ንገሩዋቸው።
- አዘውትራችሁ ከምትመገቡዋቸው የምግብ አይነት የምትወዱት የትኛውን የምግብ ዓይነት ነው? ለክፍል ጓደኞቻችሁ ንገሩዋቸው።
- በአካባቢያችሁ የእህል ምርት በየትኛው ወቅት ይሰበሰባል?

ሰንጠረዥ 2.1.

ከዚህ በታች በሰንጠረዥ ውስጥ ስማቸው የተጠቀሱትን የእህል ምርት ዓይነቶች የሚሰበሰቡበት ወቅት መቼ እንደሆነ ከስማቸው አንጻር ጻፉ።

| የእህል ዓይነት | የሚሰበሰቡበት ወቅት | የእህል ውጤቶች |
|-----------|--------------|-----------|
| ቦቆሎ | | |
| ጤፍ | | ለእንጀራ |
| ገብስ | | |
| ስንዴ | | |
| ማሽላ | | |

በየአካባቢያችሁ ለምግብነት የማይውሉ /የማይበሉ/ ነገር ግን ለተለያዩ ጥቅም የሚውሉ የእጭብ አይነቶች አሉን? ካሉ እነማን እንደሆኑ ለመምህራችሁ ንገሩ።

ለተለያዩ ጥቅም የሚውሉ እጭብ ቀርከሃ፣ ዋንዛ፣ ዋርካ፣ የባሕር ዛፍ፣ የወይራ ዛፍ የመሳሰሉት ናቸው። ለምሳሌ ቀርቀሃ ለቤት ውስጥ መገልገያ ቁሳቁስና ለሽመና ሥራ ይውላል። ባሕር ዛፍ ለቤት መስሪያ ለማገደነት ያገለግላል። ዋንዛ ለቤት ውስጥ መገልገያ ቁሳቁስ /ወንበር፣ ጠረጴዛ፣ አልጋ ወዘተ/ ለመስራት ያገለግላል።

2.2.2 ልብስ

የልብስ ዓይነት

በእናንተ አካባቢ የሚለበሱ የልብስ አይነቶች ምን ምን አይነቶች ናቸው? የተለያዩ የልብስ ዓይነቶች አሉ። እነሱም፡- ኮት፣ ጃኬት፣ ሱሪ፣ ሹራብ፣ ኩታ፣ ብረድ ልብስ ጋቢ፣ ሸሚዝ፣ ቡልኮ፣ ቀሚስ፣ ቁምጣና የመሳሰሉት ናቸው።

ልብስ ለመስራት የሚያስፈልጉ ግብአቶች /ጥሬ ዕቃዎች/

ልዩ ልዩ የልብስ አይነቶች ከተለያዩ ግብአቶች /ጥሬ ዕቃዎች/ ይሰራሉ። እነሱም ፡- ከጥጥ፣ ከሱፍ፣ ከቆዳና ከናይሎን ናቸው።


ከእነዚህ ግብአቶች የሚሰሩትን የልብስ አይነቶች ምን ምን እንደሆኑ ለይታችሁ ለመምህራችሁ ንገሩዎቻችሁ።



ከጥጥ የተሰራ ቀሚስ



ከቆዳ የተሰራ ጃኬት



ከሱፍ የተሰራ ብርድ ልብስ

ሥዕል 2.10 ልብሶች ከተለያዩ ጥሬ ዕቃዎች ይሰራሉ።

ሰንጠረዥ 2.2.

ቀጥሎ በቀረበው ሰንጠረዥ ውስጥ የተዘረዘሩት ልብስ ሊሰራባቸው የሚችሉ ጥሬ ዕቃዎች ናቸው። ከእነዚህ ጥሬ ዕቃዎች ምን ምን ዓይነት ልብሶች ሊሰሩ እንደሚችሉ ከፊት ለፊት ባሉት ክፍት ቦታዎች በመጻፍ መልሱ።

| ልብስ ሊሰራባቸው የሚችሉ ጥሬ ዕቃዎች /ግብዓቶች/ | የሚሠራው የልብስ ዓይነት |
|------------------------------------|-----------------|
| ጥጥ | ጋቢ፣ ነጠላ፣ አንሶላ |
| ሱፍ | |
| ቆዳ | |
| ናይሊን | |

በክረምት ወቅትና በበጋ ወቅት የሚለበሱ የልብስ ዓይነቶች አንድ አይነት ናቸው?

በክረምት ጊዜ የሚለበስ የልብስ አይነት በዝናብና በቅዝቃዜ ምክንያት ከባድና /ወፍራም/ ሙቀት ሊሰጥ የሚችል መሆን አለበት። በበጋ ወቅት ደግሞ ቀላልና ስስ መሆን አለበት።

2.2.3. መጠለያ

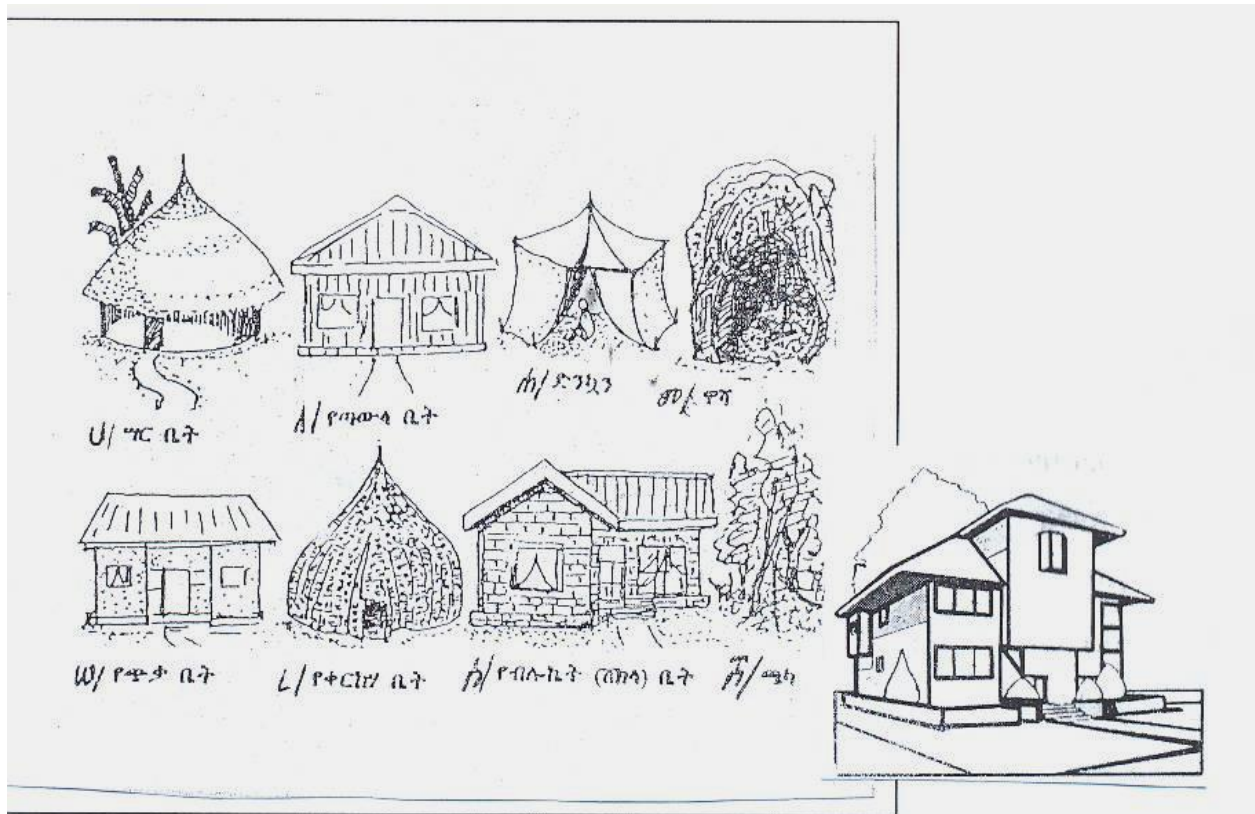
መጠለያ ለአንድ ቤተሰብ መሰረታዊ ፍላጎቶች ውስጥ አንዱ ነው።

የመጠለያ ዓይነቶች

በየአካባቢያችሁ የሚገኙ የመጠለያ ዓይነቶች ምን ምን ናቸው?

በየአካባቢያችሁ የሚገኙ የተለመዱ የመጠለያ አይነቶች ከምን አይነት ቁሳቁሶች እንደተሰሩ ዘርዝሩ።

መጠለያ የምንላቸው ጎጆ ቤት፣ ቆርቆሮ ቤት፣ አፓርታማ ቤቶች ናቸው።



ሥዕል 2.11 የመጠለያ ዓይነቶች

ለቤት ሥራ የሚያገለግሉ ቁሳቁሶች የሚከተሉት ናቸው። እነርሱም እንጨት፣ ጭቃ፣ ሳር፣ ድንጋይ፣ ብሎኬት፣ ብረት፣ ቆርቆሮ፣ ሸክላና አልሙኒየም ናቸው።

ሰንጠረዥ 2.3.

ቀጥሎ በተሰጠው ሰንጠረዥ ውስጥ ያሉትን ለቤት መስሪያ የሚያገለግሉ ቁሳቁሶች ለምን ሥራ እንደምንጠቀምባቸው ከፊት ለፊታቸው ባሉት ባዶ ቦታዎች ሙሉ።

| የቁሳቁስ አይነት | የሚሰጠው ግልጋሎት |
|------------|-------------|
| ጭቃ | |
| እንጨት | ለግድግዳ |
| ሳር | |
| ድንጋይ | |
| ብሎኮት | |
| ብረት | |
| ቆርቆሮ | |
| ሸክላ | |

መልመጃ 2.2.

ሀ. የሚከተሉትን ጥያቄዎች ትክክል የሆነውን “እውነት” ትክክል ያልሆነውን “ሀሰት” በማለት መልሱ።

- 1 ግብርና የእንስሳት እርባታና የእርሻ ስራን ያጠቃልላል።
- 2 ባሕር ዛፍ ለቤት መስሪያ ይጠቅማል።
- 3 በክረምት ወራት የሚለበስ ልብስ ቀላልና ስስ መሆን አለበት።
- 4 ድንጋይ ቆርቆሮና ብረት ለቤት መስሪያ አያገለግሉም።
- 5 ጋቢ እና ኩታ ከጥጥ ይሰራሉ።
- ለ. ለሚከተሉት ጥያቄዎች ትክክለኛ የሆነውን መልስ ምረጡ።**
- 6 ከሚከተሉት ውስጥ የአንድ ቤተሰብ መሰረታዊ ፍላጎት የሆነው የቱ ነው?
ሀ/ ምግብ ለ/ ልብስ ሐ/ ሁሉም መልስ ነው።
- 7 ጫማ የሚሰራው ከምንድነው?
ሀ/ ከቆዳ ለ/ ከሱፍ ሐ/ ከብረት
- 8 ከሚከተሉት ውስጥ ለምግብነት የማይወል የእፅዋት አይነት የትኛው ነው?

ሀ/ ገብስ ለ/ በቆሎ ሐ/ ቀርከሃ

9 ከሚከተሉት ውስጥ ለተለያዩ የቤት ቁሳቁስ መስሪያ የሚውል የእፅዋት አይነት የቱ ነው?

ሀ/ ገብስ ለ/ ቀርከሃ ሐ/ እንሰት

10. ከሚከተሉት ውስጥ መጠለያ ለመስራት የሚያገለግል የትኛው ነው?

ሀ. ጭቃ ለ. እንጨት ሐ. ሁሉም

2.3. የቤት ቁሳቁሶች

| መታወቅ የሚገባቸው ቃላት | |
|-----------------|--------|
| - መገልገያ | - አያያዝ |
| - መዝናናት | - ጠርሙስ |
| - ማስታወቂያ | - ሸክላ |
| - ሹል | - ጥንቃቄ |
| - ስለት | - |
| - ተፈጥሮ | - |

2.3.1. የቤት ቁሳቁስ አይነት

ተማሪዎች! በቤታችሁ ውስጥ የሚገኙትን የተለያዩ የቤት መገልገያ ዕቃዎችን ዘርዝራችሁ ለመምህራችሁ ንገሩ።

በኤሌክትሪክ ከሚሰሩ የቤት ቁሳቁስ አይነቶች ውስጥ ለምሳሌ :- ቴሌቪዥን፣ ሬዲዮ፣ ኤሌክትሪክ የእንጀራ ምጣድ፣ የኤሌክትሪክ ምድጃ፣ ወዘተ. ይገኙበታል።

- ከሸክላ የተሰሩ የዕቃ አይነቶች ጀበና፣ ምጣድ፣ ድስት፣ ወዘተ ናቸው።
- ከእንጨት የተሰሩ ቁሳቁሶች ወንበር፣ ጠረጴዛ፣ አልጋና የመሳሰሉት ናቸው።
- ከብረት-የተሰሩ ቁሳቁሶች ድስት፣ ማንቆርቆሪያ፣ ሹካ፣ ማንኪያና የመሳሰሉት ናቸው።
- ከኅላስቲክ የተሰሩ፣ መመገቢያ ሳህን፣ ኩባያ፣ ማጠቢያና የመሳሰሉት ናቸው።


2.3.2. የቤት ቁሳቁስ አገልግሎት

የቤት ቁሳቁስ የምንላቸው፡-


- 1) ለምግብና ለመጠጥ ማዘጋጃ የሚያገለግሉ
- 2) ለመመገቢያና ለመጠጫ የሚያገለግሉ

- 3) ለመቀመጫና ለመኝታ የሚያገለግሉ
- 4) በቤት ውስጥ ቀላል ሥራ ለመስራት የሚያገለግሉ
- 5) ለመዝናኛና ማስታወቂያ የሚያገለግሉ ናቸው።


1. የማዕድ ቤት ቁሳቁሶች




ከብረት የተሰራ ድስት



ከብረት የተሰራ ማንቆርቆሪያ



የኤሌክትሪክ እንጀራ ምጣድ

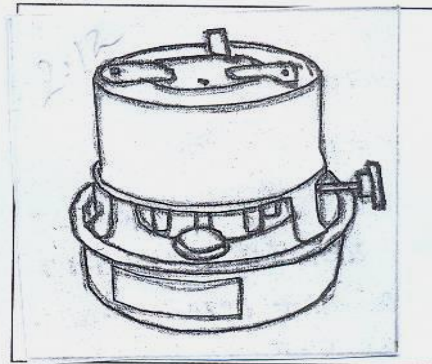


ባሕላዊ የእንጀራ ምጣድ




ጀቦና


ከሕክላ የተሰራ ጀቦና



በጋዝ የሚሰራ ምድጃ



የሸክላ ድስት




በኤሌክትሪክ የሚሰራ ምድጃ

ሥዕል 2.12. ለምግብና ለመጠጥ ማዘጋጃ የሚያገለግሉ የማዕድ ቤት ቁሳቁሶች
2. የመመገቢያና የመጠጫ ቁሳቁሶች



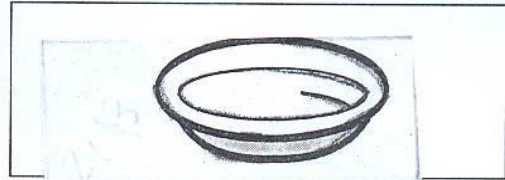
መሶብ

መሶብ




ትሪ

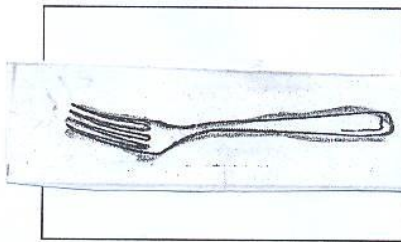
ትሪ



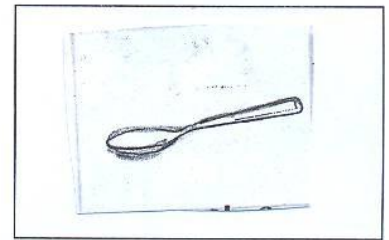
ዝርግ ሣህን



ጭልፋ




ሸካ



ማንኪያ


ሥዕል 2.13 የመመገቢያ ቁሳቁሶች



ብርጭቆ



ኩባያ



ስኒ

ሥዕል 2.14. የመጠጫ ቁሳቁሶች

3. ለመቀመጫ ለመኝታ የሚያገለግሉ ቁሳቁሶች


ለመቀመጫ የምንጠቀምባቸው ቁሳቁሶች ምን ምን ናቸው? መኝታስ?

3. ለመቀመጫና ለመኝታ የሚያገለግሉ ቁሳቁሶች


ለመቀመጫ የምንጠቀምባቸው ቁሳቁሶች ምን ምን ናቸው? የመኝታስ?



ቦርጩማ



አልጋ



ወንበርና ጠረጴዛ

ሥዕል 2.15 የመቀመጫና የመኝታ ቁሳቁሶች

4. ቀላል የመገልገያ መሳሪያዎች

ሥዕሉን ከጥቅሙ ጋር አገናዝቡ።

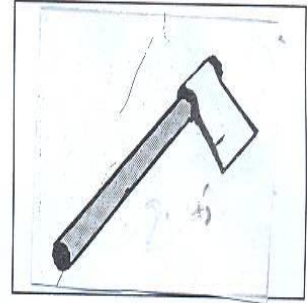


መደሻ

1. ለመቆፈሪያ የሚያገለግለው

_____ ነው።

2. _____ አፈር ለመዛቅ ያገለግላል።



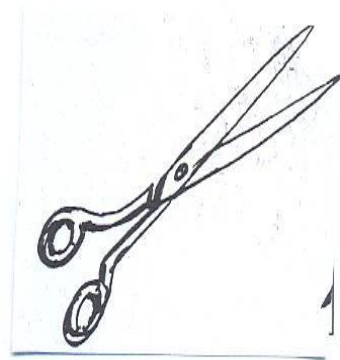
መጥረቢያ

3. እንጨት ለመፍለጥ የሚያገለግለው

_____ ነው።

4. _____ ወረቀት ለመቁረጥ

ያገለግላል።




መቀስ

5. _____ ምስመር ለመምታት

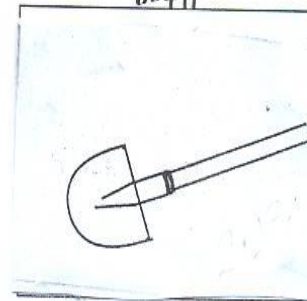
ያገለግላል።

6. _____ ሳር ለመጨድ

ያገለግላል።




ማጭድ



አካፋ

ሥዕል 2.16 ቀላል የቤት መገልገያ ቁሳቁሶች

5. ለመዝናኛና ማስታወቂያ የሚያገለግል



ሥዕል 2.17 ለመዝናኛነትና ለማስታወቂያነት የሚጠቅሙ ቁሳቁስ

በቤት ውስጥ የሚደረጉ ጥንቃቄዎች

ልጆች! ስለታምና ሹል እቃዎች አጠቃቀም ላይ ጥንቃቄ ማድረግ እንዳለባችሁ ታውቃላችሁ?

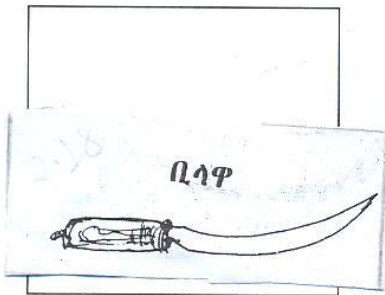
ስለታምና ሹል የሆኑ የቤት ውስጥ የመገልገያ ዕቃዎች ቢላዋ፣ መቀስ፣ መጥረቢያ፣ ማጭድ፣ መርፌ፣ ወስፌና የመሳሰሉትን ስንጠቀም ስለቶቻቸው እንዳይቆርጡንና ሹልነታቸው እንዳይወጋን ከፍተኛ ጥንቃቄ ማድረግ አለብን።

በኤሌክትሪክ የሚሰሩ የቤት ውስጥ የመገልገያ ዕቃዎችን በጥንቃቄ ካልተጠቀምን በሕይወታችን ላይ አደጋ ያደርሳሉ።

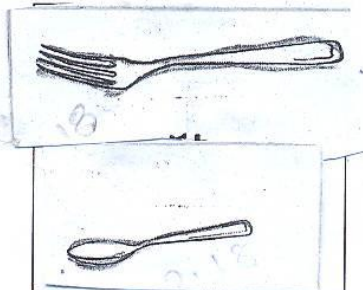
የምግብ ማብሰያ የጋዝ ምድጃን፣ የከሰል እሳት ማንደጃዎችንና የመሳሰሉትን ስንጠቀም ጥንቃቄ ልናደርግ ይገባል።

2.3.3. የቤት ውስጥ መገልገያ ዕቃዎች መስሪያ


ልጆች! በቤታችሁ ውስጥ ያሉት የመገልገያ እቃዎች ከምን ከምን እንደተሰሩ ለመምህራችሁ ተናገሩ።



ቢላዋ ከምን ይሰራል?




የመመገቢያ ሽካና ማንኪያ ከምን ይሰራሉ?



ጠረጴዛና ወንበር ከምን ይሰራል?




የመመገቢያ ሳህን ከምን ከምን ይሰራል?



የመጠጫ ዕቃዎች ከምን ከምን ይሰራሉ?



የውሃ መቅጃ ባልዲ ከምን ከምን ይሰራል?




የልብስ ማጠቢያ ከምን ይሰራል?


ሥዕል 2.18 የቤት ውስጥ መገልገያ ዕቃዎች የተሰሩባቸው ነገሮች።

የቤት ውስጥ መገልገያ ዕቃዎች ተፈጥሮአቸው የተለያዩ ነው።

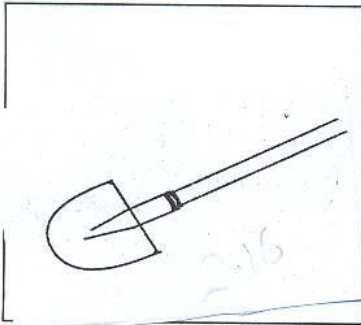
የቤት ውስጥ መገልገያ ዕቃዎችን ለመስራት ከምንጠቀምባቸው የተለያዩ ነገሮች ውስጥ እንጨት፣ ብረት፣ ኘላስቲክና የመሳሰሉት ይገኛሉ።




መቀስ ክብረት ይሰራል።



መደሻ ክብረትና ከእንጨት ይሰራል።



አካፋ ክብረትና ከእንጨት ይሰራል።



መርፌ ክብረት ይሰራል።



ምስማር ክብረት ይሰራል።


ሥዕል 2.19 ቀላል የቤት ውስጥ መገልገያ ዕቃዎች የተሰሩባቸው ነገሮች

2.3.4. የቤት ውስጥ መገልገያ ዕቃዎች አያያዝ


የቤት ውስጥ ቁሳቁሶች አያያዝ ማለት ምን ማለትነው ?

የቤት ውስጥ ቁሳቁሶችን በንፅሕና መያዝ ጥቅሙ ምንድነው ?

የመመገቢያና የመጠጫ እቃዎች ንፁህ መሆን አለባቸው። በንጽሕና ያልተያዘ የመመገቢያና የመጠጫ ዕቃ በሽታ ያመጣል።



ሥዕል 2.20 በንፅሕና የተያዙ የቤት ቁሳቁሶች



ሥዕል 2.21 በአግባቡ የተያዙ የቤት ቁሳቁሶች

የቤት ውስጥ የመገልገያ እቃዎችን መወርወር አያስፈልግም። ሲቆሽሽ ማጠብና መጥረግ ያስፈልጋል።

የቆሽሽ እቃ ካልተጠበ ምን ያስከትላል?

ለቤት ውስጥ መገልገያ ቁሳቁሶች የሚደረግ ጥንቃቄ

በቤት ውስጥ እቃ ተሰብሮባችሁ ያውቃሉ? ከተሰበረባችሁ ችግሩ በምን እንደተቃለለ ለመምህራችሁ ንገሩዋቸው።



ሥእል 2.22 ጥንቃቄ የጎደለው የቤት ቁሳቁስ አያያዝ

የቤት ውስጥ መገልገያ የሆኑ ጠርሙስና ሸክላ እቃዎች ተሰባሪዎች በመሆናቸው የተለየ አያያዝና ጥንቃቄ ያስፈልጋቸዋል።

የኤሌክትሪክ መገልገያ መሳሪያዎችን እርጥበት ባለው እጅ መንካት አደገኛ ነው። ከተጠቀሙ በኋላ አድርቆና ጠርጎ ገመዶቹ ሰዎችን ጠልፈው እንዳይጥሉ በመጠቀላል በተገቢው ቦታ ማስቀመጥ ያስፈልጋል።

መልመጃ 2.3

ሀ. የሚከተሉትን ጥያቄዎች ትክክል የሆነውን “እውነት” ትክክል ያልሆነውን “ሀሰት” በማለት መልሱ::

1. በጥንቃቄ ያልተያዘ እቃ ይሰበራል::
2. በንጽሕና ያልተያዘ እቃ በሽታ ያመጣል::
3. እቃ ያለበታው መቀመጥ አለበት::
4. አልጋ የመኝታ ቁሳቁስ ነው::
5. ብርጭቆ እንጀራ ለመብያነት የሚያገለግል ቁሳቁስ ነው::
6. ጠርሙስና ሸክላ ተሰባሪ አይደሉም::

ለ. ለሚከተሉት ጥያቄዎች ትክክለኛውን መልስ ምረጡ::

7. ከሚከተሉት ውስጥ ለመጠጫ የሚያገለግል ቁሳቁስ የቱ ነው?

ሀ/ ኩባያ ለ/ ሹካ ሐ/ ሳህን

8. ወጥ ለማውጫ የምንጠቀምበት እቃ ምን ይባላል?

ሀ/ ምጣድ ለ/ ጭልፋ ሐ/ ሹካ

9. ከሚከተሉት ቁሳቁሶች ውስጥ አንዱ ለመመገቢያነት የሚያገለግል ነው::

ሀ/ ትራስ ለ/ ወንበር ሐ/ ሳህን

10. ለጓሮ አትክልት አንክብካቤ የምንጠቀምበት ቁሳቁስ የቱ ነው?

ሀ/ መደሻ ለ/ መኮትኮቻ ሐ/ ምስማር

ማጠቃለያ

- የቤተሰብ አባላት የምንላቸው ወላጆች /እናትና አባት/፣ ወንድሞች፣ እህቶች፣ አጎቶች፣ አክሲዮኖችና አያቶች ናቸው።
- የቤተሰብ አባላት ከሚሰሩዎቸው የስራ አይነት ውስጥ ግብርና፣ ንግድ፣ ውትድርና ፣ ሙያተኛ፣ የቢሮ ሥራ፣የቀን ስራ ተጠቃሾች ሊሆኑ ይችላሉ።
- የልጆች የሥራ ድርሻ መማር ፣ የቤተሰብን ደንብ ማክበር፣ መታዘዝ፣ ቤተሰብን በአቅም መርዳት ናቸው።
- ቤተሰባዊ መልካም ግንኙነት የምንላቸው መተሳሰብ፣ መግባባት፣ መፈቃቀር፣ መከባበር፣ በስራ መረዳዳት፣ ችግርን በጋራ መፍታትና ታማኝነትናቸው።
- ግብርና በአካባቢያችን ዋና የምግብ ምንጭ ነው። ግብርና ስንል የእንስሳት እርባታና የእርሻ ሥራን ያጠቃልላል።
- ልዩ ልዩ የልብስ አይነቶች ከተለያዩ ግብአቶች ይሰራሉ። እነዚህም፡- ከጥጥ፣ ከሱፍ፣ ከቆዳና ከናይሎን ናቸው።
- መጠለያ የአንድ ቤተሰብ መሰረተዊ ፍላጎት ነው። መጠለያ የምንላቸው ጎጆ ቤት፣ ቆርቆሮ ቤት፣ አፓርታማ ቤቶች ናቸው።
- የቤት ቁሳቁስ አይነቶች የኤሌክትሪክ እቃዎች፣ ከሸክላ የተሰሩ እቃዎች፣ ከእንጨት የተሰሩ እቃዎች፣ ከብረት የተሠሩ እቃዎችና የመሳሰሉት ናቸው።
- የቤት ውስጥ ቁሳቁሶች የምንላቸው ለምግብነትና ለመጠጥ ማዘጋጃት፣ ለመመገቢያና ለመጠጫ፣ ለመቀመጫና ለመኝታ፣ ለመዝናኛና ለማስታወቂያ የሚያገለግሉ ናቸው።

የክለሳ ጥያቄዎች

ሀ. የሚከተሉትን ጥያቄዎች ትክክል የሆነውን “እውነት” ትክክል ያልሆነውን “ሀሰት” በማለት መልሱ።

የቤተሰብ አባላት የምንላቸው እናትና አባት ብቻ ናቸው።

1. ልጅ የቤተሰብ አባል አይደለም።
2. ከልጆች የሥራ ድርሻ አንዱ መማር ነው።
3. በቤት ውስጥ ሴት ልጅና ወንድ ልጅ እኩል የሥራ ድርሻ አላቸው።
4. በቆሎ የግብርና ውጤት ነው።

ለ/ የሚከተሉትን ጥያቄዎች ከ “ለ” ስር የተሰጡትን ከ”ሀ” ስር ከተሰጡት ጋር በማዛመድ መልሱ።

ሀ

ለ

- | | |
|-----------------------|-----------|
| 6. ለመጠጫነት ያለግላል | ሀ. ቢለዋ |
| 7. ለወጥ መስሪያ ያለግላል | ለ. ምጣድ |
| 8. ሽንኩርት ለመክተፍ ያገለግላል | ሐ. ጀበና |
| 9. እንጀራ ለመጋገር ይጠቅማል | መ. ብረትድስት |
| 10. ቡና ለማፍላት ያገለግላል | ሠ. ኩባያ |
| | ረ. ወንበር |

ሐ/ ለሚከተሉት ጥያቄዎች ትክክለኛ የሆነውን መልስ ስጡ።

11. ለመጠጫነት ከሚያለግሉ ቁሳቁሶች ሦስቱን ጻፉ።
12. የወላጆች የሥራ ድርሻ የሆኑትን ጥቀሱ።
13. የቤት ውስጥ መገልገያ ቁሳቁስ የምንላቸው ምን ምን ናቸው?

ክፍለ ትምህርት ሦስት

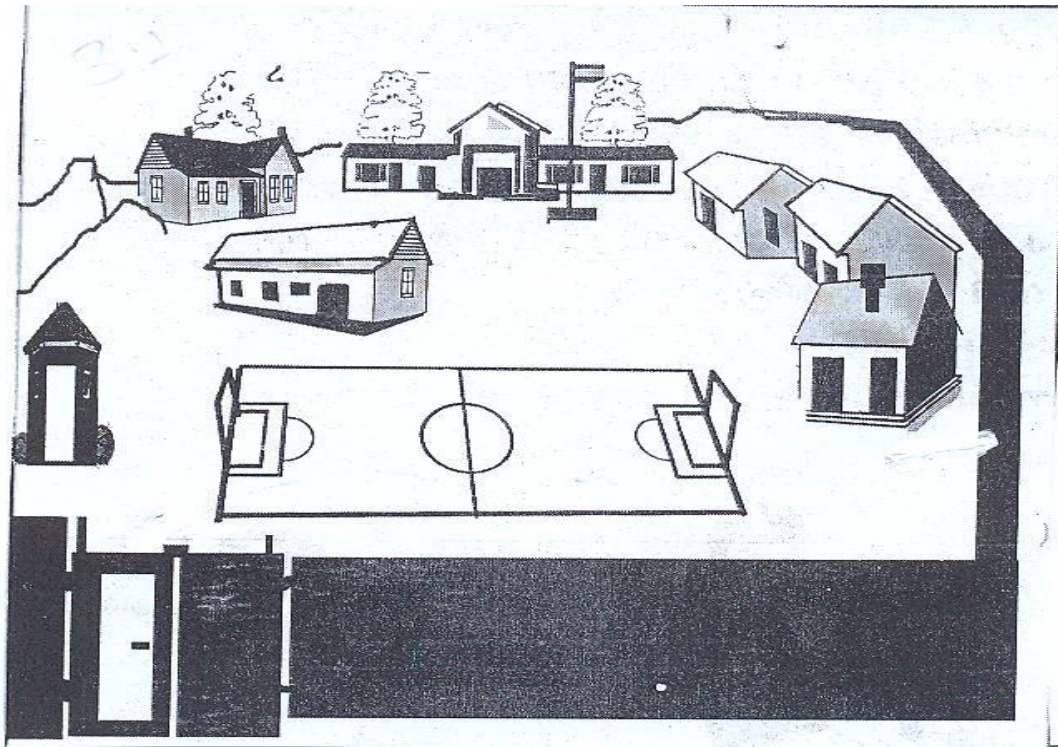
3. ትምህርት ቤታችን

3.1. የትምህርት ቤታችን ግቢ

መታወቅ የሚባቸው ቃላት

- | | |
|-----------|------------|
| - አቅጣጫ | - ሰንደቅ አላማ |
| - ፀጥታ | - ማበለፀጊያ |
| - ጥቁር ሰሌዳ | - ማእከል |
| - አክብሮት | - ቤተ-ሙከራ |
| - እርስ በርስ | |

ተማሪዎች! በትምህርት ቤት ግቢ ውስጥ ምን ምን ነገሮች ይገኛሉ?



ሰእል 3.1. የትምህርት ቤት ግቢ

3.1.1. የትምህርት ቤት ግቢ የያዛቸው ልዩ ልዩ ቦታዎች


ትምህርት ቤታችሁ ከቤታችሁ በየትኛው አቅጣጫ ይገኛል?

የትምህርት ቤታችሁን መጠሪያ ሙሉ ስም ማን ይባላል?

ትምህርት ቤታችሁ ከቤታችሁ በየትኛው አቅጣጫ እንደሚኝ ለማወቅ በመጀመሪያ አራት ዋና ዋና አቅጣጫዎችን ማወቅ ያስፈልጋል። እነዚህም አቅጣጫዎች ፡-

- ሰሜን
- ደቡብ
- ምእራብ
- ምስራቅ ይባላሉ።

ከዚህም በመነሳት የትምህርት ቤታችሁን አቅጣጫ ከቤታችሁ በኩል እንደሆነ መለየት ትችላላችሁ። በተጨማሪም የሚከተለውን ስእል ተመልከቱ።



ሥእል 3.2 ቦታዎችን በአቅጣጫ መለየት

ዛፉ ከልጁ በየትኛው አቅጣጫ ይገኛል?

ትምህርት ቤቱ ከልጁ በየትኛው አቅጣጫ ይገኛል?

በአንድ ትምህርት ቤት ውስጥ በአብዛኛው የሚገኙ ቦታዎች፡-

- የስፖርት ሜዳ
- የአስተዳደር ሕንፃ
- የመማሪያ ክፍሎች
- ሰንደቅ አላማ
- የጥበቃ ቤት
- የሽንት ቤት
- ቤተመጽሐፍ
- ቤተሙከራ
- የትምህርት ማበልፀጊያ ማእከል
- የመምህራን መሰብሰቢያና የመሳሰሉት ናቸው፡፡

ቤተ መጽሐፍ ገብታችሁ ታውቃላችሁ?

ቤተ መጽሐፍ የምንለው ብዙ አይነት መጻሕፍት የሚገኙበት ሥፍራ ነው፡፡





ሥእል 3.3. በትምህርት ቤት የሚገኝ ቤተ መጽሐፍ

የቤተ-መጽሐፍ አጠቃቀም

ቤተ መጽሐፍ ውስጥ ገብታችሁ ስትጠቀሙ ማድረግ የሚገባችሁ ጥንቃቄ፡-

- በፀጥታ ማንበብ /ድምጽን አለማሰማት/
- መጽሐፉን በጥንቃቄ መያዝ /አለመቅደድ፣ በመጽሐፉ ላይ አለመጻፍ/




ሥእል 3.4. የሽንት ቤት አጠቃቀም

- ስትጨርሱ በተገቢው ቦታ መመለስ

ሥእል 3.4. የሽንት ቤት አጠቃቀም

ሽንት ቤት ስትጠቀሙ በተሰራው ጉድጓድ ውስጥ መጠቀምና ከተጠቀማችሁም በኋላ ጉድጓዱን መክደን ያስፈልጋል። ከሽንት ቤት ተፀዳድታችሁ ከወጣችሁ በኋላ እጃችሁን በውሃና በሳሙና መታጠብ ተገቢ ነው። እንደሁም ምግብ ከመመገባችሁ በፊት እጃችሁን በሚገባ መታጠብ ያስፈልጋል።

ልጆች! በመማሪያ ክፍል ውስጥ የሚገኙ ነገሮች ምን ምን ናቸው?



ሥእል 3.5. በመማሪያ ክፍል ውስጥ የሚገኙ ነገሮች

ከስእሉ ምን ተመልክታችሁ?

በክፍላችሁ ውስጥ የሚገኙ ነገሮች :-

- የተማሪ መቀመጫ
- የመምህር መቀመጫና ወንበር
- ጥቁር ሰሌዳና የመሳሰሉት ናቸው።

የእያንዳንዳቸውን ጥቅም ምን ምን እንደሆነ ተናገሩ።

3.1.2. በትምህርት ቤት የሚከናወኑ ተግባራት

በትምህርት ቤት ውስጥ የሚከናወኑ የተለያዩ እንቅስቃሴዎች አሉ። እነሱም

- መማር
- ማስተማር
- ልዩ ልዩ ስፓርታዊ ጨዋታዎች
- ልዩ ልዩ የክበባት እንቅስቃሴዎችና የመሳሰሉት ናቸው።


3.1.3. በትምህርት ቤት ውስጥ የተማሪዎች መልካም ግንኙነት

ከመምህራናቸውና ከጓደኞቻቸው ጋር ምን አይነት ግንኙነት አላችሁ?

ልጆች! ከጓደኞቻቸው ጋር ስትጫወቱ ትግባባላችሁን?



ሥእል 3.6. የእርስ በእርስ መልካም ግንኙነት



ሥዕል 3.7 ተማሪው ለመምህሩ በአክብሮት ሰላምታ ሲሰጥ

ሰዎች በሕብረት ሲኖሩ መግባባት አለባቸው። እናንተም ከጓደኞቻችሁ ጋር ስትጫወቱም ሆነ ስትነጋገሩ መግባባት አለባችሁ። መደማመጥ ከሌለ መግባባት ስለማይኖር አንዱ የሚናገረውን ሌላው ማዳመጥ ይኖርበታል።

መልመጃ 3.1.

ሀ/ ትክክል የሆነውን እውነት ትክክል ያልሆነውን ሐሰት በማለት መልሱ።

1. የትምህርት ቤታችሁን መምህራንና ሰራተኞች ማክበር ይገባችኋል።
2. በተማሪዎች መካከል መልካም ግንኙነት መኖር ጥቅም የለውም።
3. በትምህርት ሰዓት መጫወት ተገቢ ነው።

ለ/ ከተሰጡት አማራጮች መካከል ትክክለኛውን መልስ ምረጡ።

4. በመማሪያ ክፍል ውስጥ የሚገኘው የቱ ነው?

- ሀ/ ጥቁር ሰሌዳ ለ/ የመጫወቻ ሜዳ ሐ/ ሽንት ቤት

5. ከቤተ መጽሐፍ አጠቃቀም ውስጥ አንዱ የሆነው የቱ ነው?

- ሀ/ በፀጥታ ማንበብ ለ/ መጽሐፍ መቅደድ ሐ/ ሲያነቡ መጮህ

6. በትምህርት ቤት ውስጥ ከሚከናወኑ ተግባራት ውስጥ አንዱ የሆነው የቱ ነው?

- ሀ/ መማር ለ/ ማስተማር ሐ/ ሁሉም መልስ ነው።

3.2. የትምህርት ቤት ሕግና መመሪያ ማክበር

3.2.1. የትምህርት ቤት መመሪያ

| |
|---------------------------------------------------------------------------------------------------------------------------------------------------------------------------|
| <p>መታወቅ የሚገባቸው ቃላት</p> <ul style="list-style-type: none">- የደንብ ልብስ- ንብረት- ቅጥር ግቢ- እንክብካቤ- ሕግና ደንብ- ጥሞና |
|---------------------------------------------------------------------------------------------------------------------------------------------------------------------------|

ልጆች! የትምህርት ቤታችሁን ሕግና ደንብ ታውቃላችሁ?

የትምህርት ቤት ደንብና ሥነ-ስርዓት የሚከተሉት ይሆናሉ፡፡ ይኸውም፡-

- የትምህርት መሳሪያዎችን አሟልቶ በአግባቡ መያዝ፤
- የትምህርት ሰአትን አክብሮ ወደ ትምህርት ቤት መምጣት፤
- የትምህርት ቤት ደንብ ልብስ /ዩኒፎርም/ በመልበስ ወደ ትምህርት ቤት መሄድ፤
- በትምህርት ሰአት ክፍል ውስጥ ቁጭ ብሎ በጥሞና መማር፤
- በእረፍት ሰአት መጫወት፤
- በክፍል ውስጥ አለመረበሽ፤
- ያለምክንያት ከትምህርት ቤት አለመቅረት፤
- የትምህርት ቤትን ንብረት መጠበቅ፤
- መምህራንን ማክበር፤
- የሚሰጡ ሃላፊነቶችን መወጣትና የመሳሰሉት ናቸው፡፡



ሥእል 3.8. በእረፍት ሰአት ልጆች ሲጫወቱ

ልጆች! የትምህርት ቤት ንብረትን እንዴት አንከባከባለን?



ሥእል 3.9 ተማሪዎች አበቦችንና አትክልቶችን ውሃ ሲያጠጡ ከስእሉ ምን ተረዳችሁ? አናንተስ እንደነዚህ ልጆች አትክልቶችን ትንከባከባላችሁ?

በትምህርት ቤት ቅጥር ግቢና በክፍል ውስጥ የተለያዩ ንብረቶች ይገኛሉ። የራሳችሁን፣ የጓደኞቻችሁንና የትምህርት ቤታችሁን ንብረቶች ለይታችሁ ማወቅ፣ መንከባከብና በአግባቡ መጠቀም ይገባችኋል።

ልጆች! እስኪ የራሳችሁንና የጓደኞቻችሁን ንብረቶች ለይተችሁ ዘርዝሩ።

ከዚህ በታች የቀረበውን ሰንጠረዥ በምሳሌዎቹ እንደተመለከቱት በክፍል ውስጥና ከክፍል ውጪ ለሚገኙ የትምህርት ቤቶችና የግል ንብረቶቻችሁ የምታደርጉትን እንክብካቤ /ጥንቃቄ / ሙሉ፡፡

| ተ/ቁ | የንብረት አይነት | የሚደግለት እንክብካቤ |
|-----|-------------------------|-----------------------|
| 1 | ወንበሮች ፣ ጠረጴዛዎች | እንዳይሰበሩ ጥንቃቄ ማድረግ |
| 2 | ደብተሮች፣ መጻሕፍት፣ እስክሪፕቶ... | እንዳይቀደዱና እንዳይጠፉ መጠንቀቅ |
| 3 | | |
| 4 | | |
| 5 | | |
| 6 | | |
| 7 | | |
| 8 | | |

ሰንጠረዥ 3.1. ለንብረት የሚደረግ እንክብካቤ /ጥንቃቄ/

መልመጃ 3.2.

ሀ/ የሚከተሉትን ጥያቄዎች ትክክል የሆነውን “አውነት” ትክክል ያልሆነውን “ሀሰት” በማለት መልሱ፡፡

1. መምህር ሲያስተምር በክፍል ውስጥ አለመረበሽ ጥሩ ሥነ-ምግባር ነው፡፡
2. በትምህርት ቤት ግቢ ውስጥ የሚገኙ አበቦችንና አትክልቶችን መንከባከብ ያስፈልጋል፡፡
3. በትምህርት ቤት የሚገኙ ንብረቶችን መስበር አለብን፡፡

ለ/ ለሚከተሉት ጥያቄዎች ትክክለኛ የሆነውን መልስ ምረጡ፡፡

4. ወደትምህርት ቤት ስትሄዱ ማድረግ ያለባችሁ ምንድነው?

ሀ/ ሰአት አክብሮ መሄድ

ለ/ የትምህርት ቤት የደንብ ልብስ /ዩኒፎርም/ መልበስ

ሐ/ ሁሉም ልክ ናቸው፡፡

5. ከሚከተሉት አንዱ ትምህርት ቤት ግቢ ውስጥ ይገኛል፡፡

ሀ/ ወንበር

ለ/ መማሪያ ክፍል

ሐ/ ሁሉም

3.3. ጥሩ /መልካም/ የሆኑ የግል ግንኙነቶች

- መታወቅ የሚገባቸው ቃላት**
- መላላክ
 - የግል
 - ጉርብትና
 - በጋራ
 - ጸታ


3.3.1. በቤትና በጎረቤት ያለ መልካም ግንኙነት

ተማሪዎች! ከትምህርት ቤት መልስ ምን ታደርጋላችሁ?

ጊዜያችሁን በአግባቡ ትጠቀማላችሁ?

አንድ ተማሪ ከትምህርት ቤት ከተመለሰ በኋላ ማድረግ የሚገባው ነጥቦች የሚከተሉት ናቸው፡፡

- ለወላጆች መላላክ
- ወላጆችን በስራ ማገዝ
- ጠንክሮ ማጥናት
- በትርፍ ጊዜ መጫወት
- መታዘዝ



ስእል 3.10 ልጆች ጊዜያቸውን በአግባቡ ሲጠቀሙ.


ልጆች ከጎረቤቶቻችሁ ጋር ያላችሁ ግንኙነት ምን ይመስላል?

የመልካም ጉርብትና መገለጫዎች የምንላቸው:-

- በጋራ መስራት እና መረዳዳት፤
- መከባበር፤
- በጾታ እና በሃይማኖት እኩልነት ማመን፤
- አብሮ ችግርን እና ደስታን መካፈል፤
- የታመመን መጠየቅና የመሳሰሉት ናቸው፡፡



ሰኔል 3.11 ጎረቤታዎች ቡና እየጠጡ ሲወያዩ



ሰኔል 3.12 አካባቢን በጋራ ማልማት

መልመጃ 3.3

ሀ/ የሚከተሉትን ጥያቄዎች ትክክል የሆነውን “እውነት” ትክክል ያልሆነውን “ሀሰት” በማለት መልሱ::

- 1. ልጆች ከትምህርት ቤት መልስ ለወላጆቻችሁ መላላክ አለባቸው::
- 2. ልጆች ከትምህርት ቤት መልስ ጊዜያቸውን በአግባቡ መጠቀም አለባቸው::
- 3. ከጎረቤት ጋር መልካም ግንኙነት አያስፈልግም::

ለ/ ከተሰጡት አማራጮች መሀከል ትክክለኛውን መልስ ምረጡ::

- 4. ከሚከተሉት አንዱ የመልካም ጉርብትና መገለጫ ነው::

ሀ/ መከባበር ለ/ መጨቃጨቅ ሐ/ አለመግባባት

- 5. ጥሩ ጎረቤት የሚባለው

ሀ/ የሚረዳዳ ለ/ ችግርንና ደስታን የሚካፈል ሐ/ ሁሉም

3.4. የመንገድ ላይ ጥንቃቄ



| |
|------------------------------------------------------------------------------------------------------------------------------------------------------------------------|
| <p>መታወቅ የሚገባቸው ቃላት</p> <ul style="list-style-type: none"> - ድልድይ - አዛውንት - አካል ጉዳተኛ - ቅደም ተከተል - ሻንጉርጉር መስመር |
|------------------------------------------------------------------------------------------------------------------------------------------------------------------------|

3.4.1 የመንገድ ላይ አደጋዎች

የመኪና መንገድ ለማቋረጥ ሲፈለግ መደረግ የሚገባው ጥንቃቄ ተናገሩ::

ከቤት ወደ ትምህርት ቤት ከትምህርት ቤት ወደ ቤት ስትሄዱም ሆነ ስትመለሱ ማድረግ የሚገባችሁ ጥንቃቄዎች:-


- በመንገዱ በግራ በኩል ብቻ መጓዝ
- ለሰው በተፈቀደው ሻንጉርጉር /ቤብራ/ ምልክት ማቋረጥ
- በመኪና መንገድ ላይ አለመጫወት



ሥእል 3.13 የመንገድ ላይ ጥንቃቄዎች

ሰዎች መንገድ ሲያቋርጡ ጥንቃቄ ካላደረጉ አደጋ ሊደርስባቸው ይችላል።

በመኪና መንገድ ላይ መጫወት አደጋ ያመጣል።



ሰእል 3.14 ጥንቃቄ የጎደለው የመንገድ አጠቃቀም

3.4.2. የመንገድ ላይ አደጋዎችን መከላከል

የመንገድ ላይ አደጋ መከላከያ ጥንቃቄዎች

የመንገድ ላይ አደጋዎችን ለመቀነስ፡-

- በመኪና መንገድ ላይ ንቃት ባለው ሁኔታ መጓዝ፤
- ቀኝና ግራን ተመልክቶ ማቋረጥ፤

- ድልድዮችን፣ መረማመጃዎችንና የሚያዳልጡ ቦታዎችን በጥንቃቄ ማለፍ፤
- በመንገድ ላይና በመንገድ ዳር አለመጫወት፤
- የመንገድ ላይ ማቋረጫ መስመሮችን በጥንቃቄና በአግባቡ መጠቀም፡፡

መኪና መንገድ በምናቋርጥበት ጊዜ ሌሎችን ማለትም

- ሕፃናትን
- አዛውንትንና
- አካል ጉዳተኞችን መርዳት ያስፈልጋል፡፡

መልመጃ 3.4.

ሀ/ የሚከተሉትን ጥያቄዎች ትክክል የሆነውን “እውነት” ትክክል ያልሆነውን “ሀሰት” በማለት መልሱ፡፡

1. በመኪና መንገድ ላይ መጫወት አደጋ ያስከትላል፡፡
2. ሁልጊዜ በግራ በኩል ብቻ መጓዝ አያስፈልግም፡፡

ለ/ ለሚከተሉት ጥያቄዎች ትክክለኛውን መልስ ምረጡ፡፡

3. ከሚከተሉት አንዱ መኪና መንገድ ለማቋረጥ የሚያስፈልገን ጥንቃቄ ነው፡፡

- ሀ. ግራና ቀኝን ተመልክቶ ማቋረጥ
- ለ. በክንጉርጉር ምልክት ማቋረጥ
- ሐ. ሁሉም መልስ ነው፡፡

4. መኪና መንገድ ስናቋርጥ መርዳት ከሚባን ሰዎች መካከል፤

- ሀ. አዛውንቶችን ለ. አካል ጉዳተኞችን ሐ. ሁሉም

5. ከሚከተሉት ውስጥ አንዱ የመኪና አደጋ የማያስከትል ነው፡፡

- ሀ. መኪና መንገድ ላይ መጫወት
- ለ. በክንጉርጉር /ዜብራ/ ማቋረጫ ማለፍ
- ሐ. ቀኝና ግራን ሳያዩ ማቋረጥ

3.5. በትምህርት ቤታችን የምናደርጋቸው እንቅስቃሴዎች

- መታወቅ የሚባቸው ቃላት
- ጠርዝ
 - ትርፍ
 - ጎን
 - ቅርጽ

3.5.1. ወረቀት በመጠቀም የተለያዩ ቅርፅ ቅርጾችን መስራት


ተማሪዎች! ወረቀት፣ ካርቶንና ሌሎችን ነገሮች በመጠቀም የተለያዩ ቅርፅ ቅርጾችን ያላቸውን መጫወቻዎች መስራት ይቻላል።

በዚህ መሰረት ቀጥሎ በተሰጡት ቅደም ተከተሎች በመጠቀም ተግባራዊ መጫወቻዎችን ስሩ።

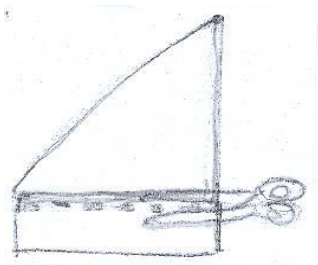
ተግባራዊ ክንዋኔ 3.1.

መከተል የሚባን ቅደም ተከተሎች


1. ንፁህ ወረቀት ማዘጋጀት



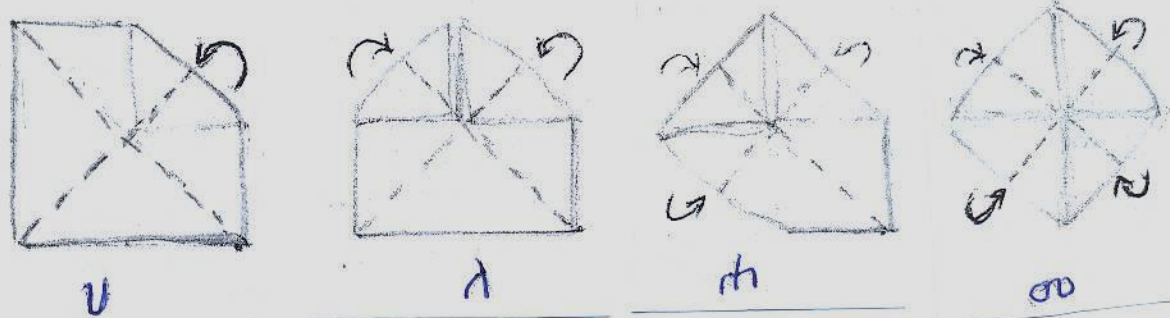
2. ወረቀቱን በሁሉም ጎን እኩል እንዲሆን ትርፍ የሆነውን ወረቀት መቁረጥ



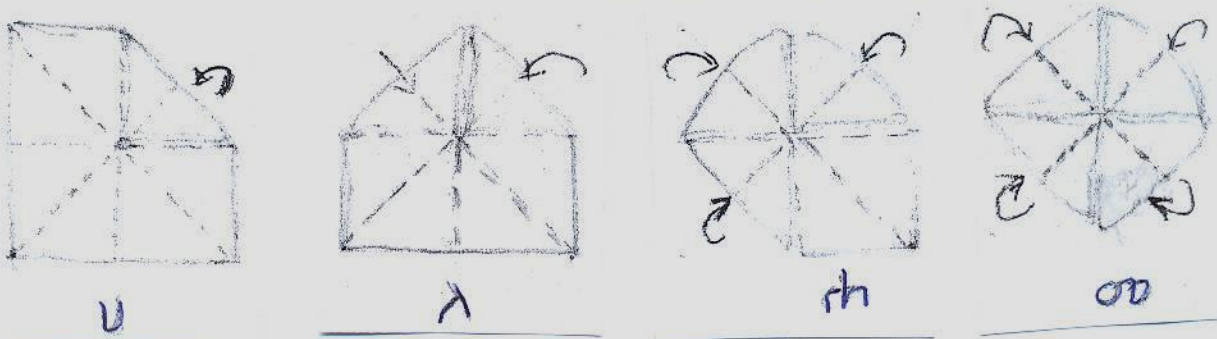
3. እኩል ጎን ያለውን ወረቀት መሃከል ለማግኘት ከቀኝ ጫፍ ወደ ግራ ማጠፍ በድጋሚ ከግራ ጫፍ ወደ ቀኝ ማጠፍ፤ በመጨረሻም እኩል ጎን ያለውን ወረቀት መሀከል ማግኘት




4. ቀጥሎ እያንዳንዱን ጠርዝ ጫፍ ወደ መሀል ማጠፍ



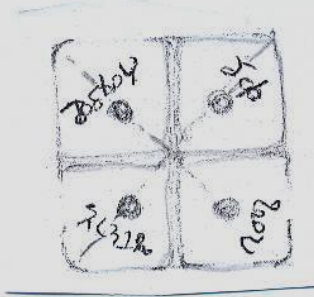
5. በቅደም ተከተል 4 መ ላይ የሚገኘውን በመገልበጥ እንደገና በወረቀት ጀርባ የሚገኘውን የወረቀት መሀል በማግኘት እያንዳንዱን ጫፍ በድጋሚ ወደ መሃል ማጠፍ፤



6. በእያንዳንዱ ሦስት ጎን ቅርጽ ላይ ከ1 እስከ 8 ቁጥሮችን መጻፍ። በተጨማሪ እያንዳንዱን ጠርዝ በሚገባ ማጠፍ።



7. ቁጥር በተጻፈበት በስተጀርባ /ወረቀቱን በመገልበጥ/ በተለያዩ ቀለሞች በአራቱም ገጽታ ላይ ምልክት ማድረግና የቀለሞቹን ስም መጻፍ።



8. በመጨረሻ ሁለቱን የአውራ ጣቶችና ሁለቱን አመልካች ጣቶች በወረቀቱ ላይ ባሉት አራት ኪሶች በማስገባት በጣቶቻችን ወረቀቱን መግፋት።



ከዚህ በተጨማሪ ሳጥኖችን፣ በነፋስ የሚንቀሳቀሱ ተሽከርካሪዎችን በወረቀት እና በሌሎች ቁሳቁሶች መስራት ይቻላል።

ማ ጠ ቃ ለ ያ

- አንድን ቦታ ለይቶ በአቅጣጫ ማወቅ ይቻላል። አቅጣጫዎች የምንላቸው ሰሜን፣ ደቡብ፣ ምእራብና ምስራቅ ይባላሉ።
- የትምህርት ቤት ግቢ የያዛቸው ልዩ ልዩ ቦታዎች የስፓርት ሜዳ፣ የአስተዳደር ሕንፃ፣ የመማሪያ ክፍሎች፣ የሰንደቅ አላማ፣ የጥበቃ ቤት፣ የሽንት ቤት፣ ቤተ መጽሐፍ፣ ቤተ ሙከራ፣ የትምህርት ማበልፀጊያ ማእከል፣ የመምህራን መሰብሰቢያ እና የመሳሰሉት ናቸው።
- በትምህርት ቤት ውስጥ የሚኖረው የተለያዩ እንቅስቃሴዎች መማር፣ ማስተማር፣ ልዩ ልዩ ስፖርታዊ ጨዋታዎች፣ በተለያዩ ክበባት መሳተፍ፣ ወዘተ.
- በትምህርት ቤት ውስጥ መልካም ግንኙነት የሚኖረው በመግባባት፣ በመደማመጥ፣ በሕብረት በመስራት ነው።
- የትምህርት ቤት ደንብና ሥነ-ሥርዓቶች ሲባል የትምህርት መሳሪያዎችን አሟልቶ በአግባቡ መያዝ፣ ሰአትን አክብሮ ወደ ትምህርት ቤት መምጣት፣ የደንብ ልብስ መልበስ፣ አለመረበሽ፣ ያለምክንያት ከትምህርት ቤት አለመቅረት፣ የትምህርት ቤቱን ጎብረት መጠበቅ ናቸው።
- መልካም ሥነ-ምግባር ያለው ልጅ ከትምህርት ቤት መልስ ለወላጆች መላላክ፣ ወላጆችን በስራ ማገዝ፣ ጠንክሮ ማጥናት፣ በትርፍ ጊዜ መጫወትና መታዘዝ ያስከትላል።
- በተጨማሪም የመልካም ጉርብትና መገለጫዎች የምንላቸው በጋራ መስራትና መረዳዳት፣ መከባበር፣ በጾታና በሃይማኖት እኩልነት ማመን፣ አብሮ ችግርና ደስታን መካፈልና የመሳሰሉት ናቸው።
- በመንገድ ላይ የመኪና አደጋ እንዳይደርስብን ማድረግ የሚገቡን ጥንቃቄዎች በመንገዱ በግራ በኩል ብቻ መጓዝ፣ ለሰው በተፈቀደው ማቋረጫ ሻንጉርጉር መንገድ ላይ መሄድ፣ በመኪና መንገድ ላይ ያለመጫወት ናቸው።

የክለሳ ጥያቄዎች

ሀ. የሚከተሉትን ጥያቄዎች ትክክል የሆነውን “እውነት” ትክክል ያልሆነውን “ሀሰት” በማለት መልሱ::

1. ሰላምታ መለዋወጥ የመልካም ግንኙነት ምልክት ነው::
2. የትምህርት ሰአት አክብሮ መገኘት የስንፍና ምልክት ነው::
3. ሽንት ቤት ከተፀዳዳን በኋላ እጃችንን ባንታጠብ ችግር አያመጣብንም::
4. ክፍል ውስጥ ወንበር ላይ ወጥቶ መቆም የጎበዝ ተማሪ ምልክት ነው::
5. ተማሪዎች በውይይት ጊዜ ከተደማመጡ አይግባቡም::

ለ. የሚከተሉትን በ”ሀ” ስር የሚገኙትን ጥያቄዎች ከ “ለ” ስር ከሚገኙት ጋር አዛምዱ::

| ሀ | ለ |
|------------------------------|---------------|
| 6. ጥቁር ሠሌዳና የተማሪ መቀመጫ ይገኝበታል | ሀ. ሽንት ቤት |
| 7. ብዙ አይነት መጽሐፍ የሚገኝበት ሥፍራ | ለ. የመማሪያ ክፍል |
| 8. ትምህርት ቤት ውስጥ የሚከናወን ተግባር | ሐ. ቤተ መጽሐፍ |
| 9. ንጽሕናው በሚገባ መጠበቅ አለበት | መ. በክበባት መሳተፍ |
| | ሠ. ቤተ-ሙከራ |

ሐ. ለሚከተሉት ጥያቄዎች ትክክለኛውን መልስ ምረጡ::

10. የጎረቤት ልጆች ምን ማድረግ አለባቸው?
 ሀ/ መጣላት ለ/ አብሮ መጫወት ሐ/ መረበሽ
11. መልካም የሆነ የጉርብትና ሥነ ምግባር የቱ ነው?
 ሀ/ አካባቢን ማቆሸሽ ለ/ ጎረቤትን በጩኸት መረበሽ
 ሐ/ የታመመን መጠየቅ
12. የመንገድ ላይ አደጋዎችን ለመቀነስ ማድረግ ያለብን
 ሀ/ በመንገድ ስንሄድ ንቃት ባለው ሁኔታ መጓዝ
 ለ/ እግረኛ ማቋረጫ መስመሮችን በጥንቃቄና በአግባቡ መጠቀም
 ሐ/ ሁሉም

ክፍለ ትምህርት አራት


4. መንደራችን ቀበሌያችን

4.1. የቀበሌያችን መገኛ

- መታወቅ የሚገባቸው ቃላት
- ቀበሌ
 - ገጠር
 - ደን
 - የፀሐይ መውጫ
 - የፀሐይ መግቢያ

ልጆች! ያላችሁበትን ወይም የምትኖሩበትን ቀበሌ ስም ማን በመባል ይታወቃል?

እናንተ ቀበሌ ውስጥ ምን ምን ነገሮች ይገኛሉ?



ሥዕል 4.1. በቀበሌ ውስጥ የሚገኙ ነገሮች

በሥዕሉ ላይ ምን ተመልክታችሁ?

በእናንተ ቀበሌ ውስጥ የሚገኙ የትኞቹ ናቸው?

የምትኖሩበት ቀበሌ የገጠር ከሆነ የገጠር ቀበሌ ይባላል። የከተማ ከሆነ ደግሞ የከተማ ቀበሌ ይባላል።

የነአበቦች መኖሪያ ቤት ከቀበሌያቸው በቀኝ በኩል ይገኛል። አበቦች ሁልጊዜ ጠዋት ጠዋት ወደ ትምህርት ቤት በቀበሌው ፊት ለፊት ባለው ትልቁ መንገድ ትሄዳለች። የነአበቦች ትምህርት ቤት የሚገኘው ከቀበሌያቸው ራቅ ብሎ በስተግራ በኩል ነው። ከቀበሌው በስተኋላ ጥቅጥቅ ያለ ደን ይገኛል።



ሥእል 4.2. አንፃራዊ መገኛ

የምትኖሩበት ቀበሌ ከመኖሪያ ቤታችሁ እና ከምትማሩበት ትምህርት ቤት በየት በኩል ይገኛል?

3. ፀሐይ በየትኛው አቅጣጫ ትወጣለች?

ሀ/ በምዕራብ

ለ/ በሰሜን

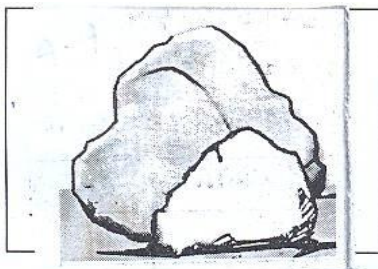
ሐ/ በምስራቅ

4.2. በአካባቢያችን የሚገኙ ሕይወት የሌላቸው ነገሮች


መታወቅ የሚገባቸው ቃላት

- ክንዋኔ
- ሲባጎ
- የተፈጥሮ ሀብት
- ቅርፅ
- ደቃቅ
- ሸክላ አፈር
- ዳለቻ
- መንከባከብ
- አግድም ማረስ

በአካባቢያችሁ ሕይወት የሌላቸው ነገሮችን ዘርዝሩ።



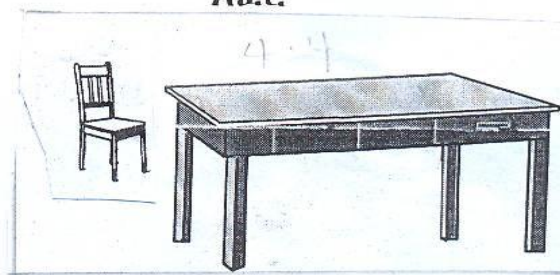
ድንጋይ



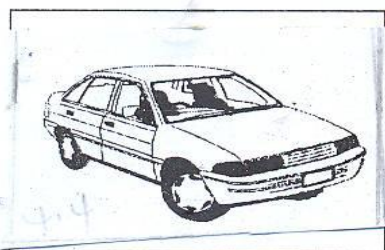
አፈር



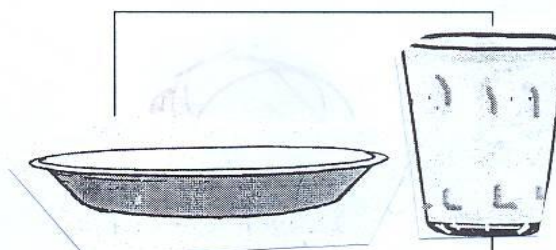
ውሃ



ወንበር ጠረጴዛ



መኪና



የመጠጫና የመብያ ዕቃ

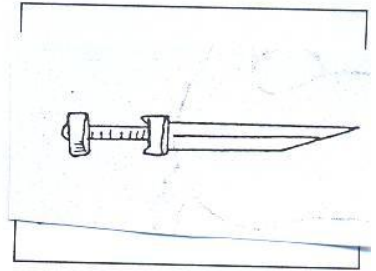
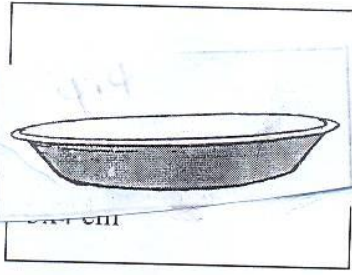

ሥዕል 4.4. ሕይወት የሌላቸው ነገሮች

ሕይወት የሌላቸው ነገሮች በምን ይታወቃሉ?

ሕይወት የሌላቸው ነገሮች የተፈጥሮ ሀብት ናቸው። እነዚህም አፈር፣ ድንጋይ፣ የር፣ ውሃና የመሳሰሉት ናቸው

ሕይወት የሌላቸው ነገሮችና ባሕሪያቸው

1. ሕይወት የሌላቸው ነገሮች አይመገቡም።
ለምሳሌ :-



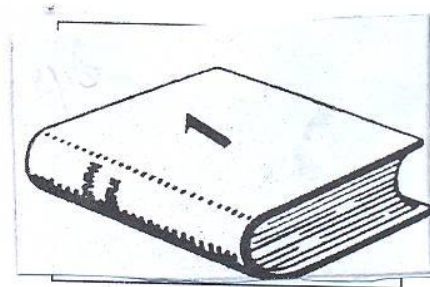

ብርጭቆ

ሣህን

ቢላዋ

ሥዕል 4.5. ሕይወት የሌላቸው ነገሮች አይመገቡም።

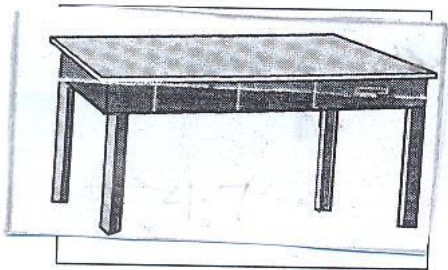
2. ሕይወት የሌላቸው ነገሮች አይተነፍሱም።



ሬዲዮ

መጽሐፍ


ሥዕል 4.6. ሕይወት የሌላቸው ነገሮች አይተነፍሱም።



ጠረጴዛ



ሳሙና




ብረት




እንሰራ

ሥእል 4.7. ሕይወት የሌላቸው ነገሮች አይደሉም።

4. ሕይወት የሌላቸው ነገሮች በራሳቸው አይንቀሳቀሱም።



መኪና



ሳይክል

ሥዕል 4.8 ሕይወት የሌላቸው ነገሮች አይንቀሳቀሱም።

ሕይወት የሌላቸው ነገሮች በሦስት ይመደባሉ፤ እነሱም፡-

- ጠጣር ነገሮች
- ፊሳሽ ነገሮች
- ጋዞች /አየር/ ናቸው፡፡

ተግባራዊ ክንዋኔ 4.1.

በአካባቢያችሁ የሚገኙ ነገሮችን ሰብስቡ፡፡ እያንዳንዳቸውን በደንብ አስተውላችሁ ጠጣር ወይም ፊሳሽ በማለት መድባችሁ በአይነት ለዩዋቸው፡፡

- | | |
|----------|-------|
| ድንጋዮች | ዘይት |
| ብረታ ብረቶች | ወተት |
| ወረቀቶች | ኘላስቲክ |
| ውሀ | |
| አፈር | |
| ደረቅ እንጨት | |

እያንዳንዳቸውን በደንብ አስተዋላችሁ? በቀለም የሚመሳሰሉት የትኞቹ ናቸው? በክብደትስ? በቅርፅ የሚመሳሰሉስ አሉ? የትኞቹ ናቸው? ሁሉም በመጠን እኩል ናቸው? ወይስ ይበላለጣሉ?

4.2.1.አየር

የአየር መኖር

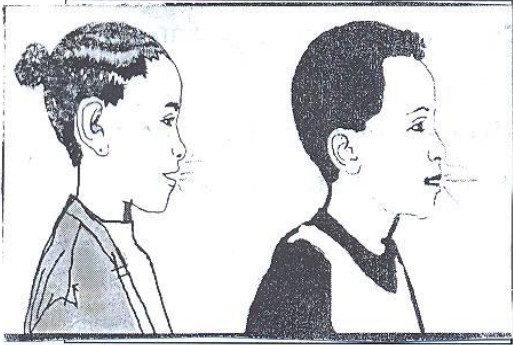
ልጆች! አየር በአይን የማይታይና በእጅ የማይዳሰስ በአካባቢያችን ያለ ነገር ነው፡፡ ነገርግን ዛፎችንሲያወዛውዝ እናያለን፡፡

- የመኪና ጎማ በአየርካልተሞላ መኪናው መንቀሳቀስ አይችልም፡፡
- አየር መኖሩን በዚህ ማወቅ እንችላለን፡፡

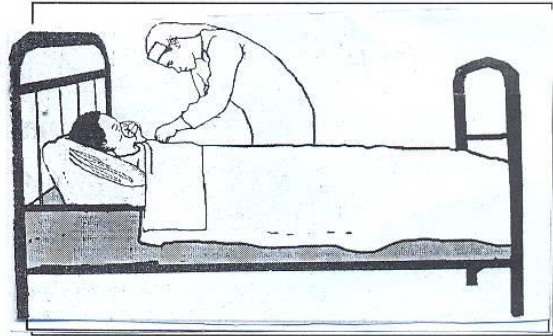
የአየር ጥቅም

አየር ሕይወት የለውም፡፡ ነገር ግን ሕይወት ያላቸው ነገሮች ሁሉ ይጠቀሙታል፡፡

እፅዋትና እንስሳት ያለ አየር መኖር አይችሉም።



ሠዎች ይተነፍሳሉ።



ለታመመ ሰው አየር ሲሰጠው



ኳስ ውስጥ አየር ሲሞላ



ባሉን አየር ተሞልቶ

ሥዕል 4.9 የአየር ጥቅም

ተግባራዊ ክንዋኔ 4.2.

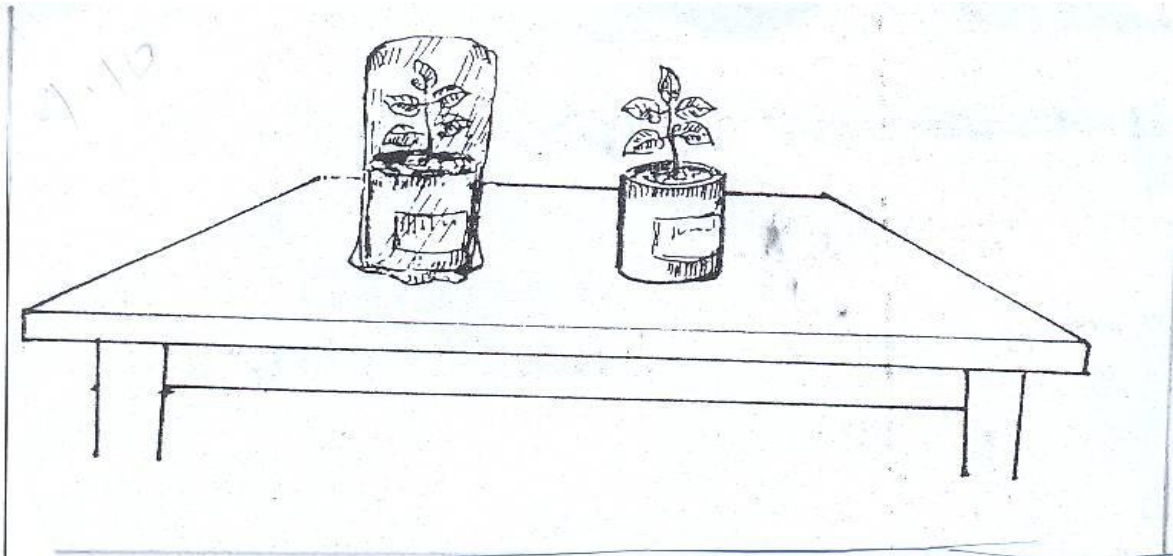
አስፈላጊ ነገሮች

- በሁለት ጣሳዎች ውስጥ የበቀሉ አረንጓዴ ችግኞች
- አንድ ወፍራም ላስቲክ
- ጠረጴዛ
- ሲባን /ገመድ/

አሠራር፡-

በጣሳዎቹ ውስጥ ያሉትን ተክሎች ጠረጴዛ ላይ አስቀምጡ።

ከሁለቱ አንዱን አየር በማያስገባ ወይም ቀዳዳ በሌለው ላስቲክ ሸፍናችሁ እሰሩት። ለጥቂት



ቀናት በዚህ አይነት ይቆዩ።

ሥእል 4.10 እፅዋት አየር ያስፈልጋቸዋል።

ከጥቂት ቀናት በኋላ በሁለቱ ተክሎች መካከል ያለውን ልዩነት በደንብ ተመልከቱ። ልዩነቱ ከምን መጣ? ተወያዩበት።

እያንዳንዳችሁ ለጥቂት ሰከንዶች ብቻ አፍና አፍንጫችሁን እፍን አድርጉና ያዙ። ምን ተሰማችሁ? ለምን?

የአየር ንጽሕናን እንዴት መጠበቅ እንችላለን?

አየር በተለያዩ መንገዶች ሊበከል ይችላል። ለምሳሌ ፡-

- ቆሻሻን በየቦታው መጣልና ማቃጠል /ጎማ ፣ ፌስታል ወዘተ./
- ከመኪና ሞተሮች የሚወጣ ጭስ
- ከተለያዩ ፋብሪካዎች የሚወጣ ጭስና የመሳሰሉት ናቸው።

የአካባቢያችንን የአየር ንጽሕና ለመጠበቅ

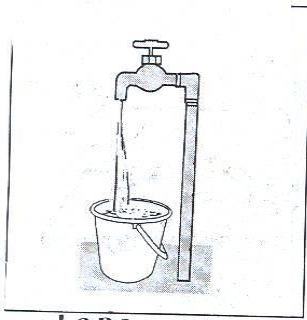
- ደረቅ ቆሻሻን በጉድጓድ ውስጥ አድርጎ ለእፅዋት ማዳበሪያነት መጠቀም
- አካባቢያችንን በአረንጓዴ ተክሎች ማልማት ወዘተ. ናቸው።

4.2.2 ውሃ


በአካባቢያችሁ ውሃን ከየት ታገኛላችሁ?

የውሃ መገኛ

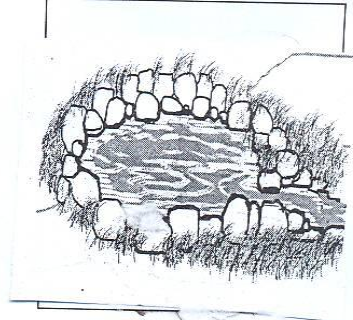
- ውሃ ከተፈጥሮ ሀብቶች አንዱ ነው።
- የውሃ መገኛዎች ብዙ ናቸው። እነርሱም
 - ከቧንቧ
 - ከጉድጓድ
 - ከኩሬ
 - ከምንጭ
 - ከወንዝና
 - ከዝናብ ናቸው።



ከቧንቧ




ከጉድጓድ



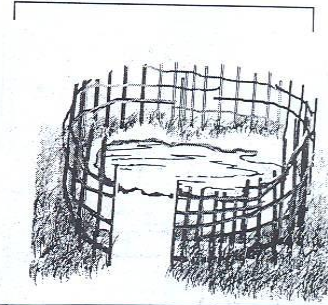
ከምንጭ



ከወንዝ



ከዝናብ



ከኩሬ

ሥዕል 4.11 የውሃ መገኛዎች

በአካባቢያችሁ እናንተ የምትጠጡት ውሃ የሚገኘው ከየትኛው ነው?

ለበሽታ የማይጋልጠው ንፁህ ውሃ ከየት ይገኛል?

አብዛኛውን ጊዜ ንፁህ ውሃ የምናገኘው ከቧንቧ፣ በጥንቃቄ ከተቀዳና ከተያዘ የዝናብውሃ እንዲሁም በንጽሕና ከተያዘ የምንጭ ውሃ ነው።

የውሃ ጥቅም፡-

ውሃ ለምን ለምን ይጠቅማል?

- ለመጠጥና ምግብ ለማዘጋጀት
- ንጽሕናን ለመጠበቅ

- ለእርሻ ሥራ፤ ወዘተ. ይጠቅማል።
 ልጆች! ያለ ውሃ መኖር የሚቻል ይመስላችኋል?




ለመጠጥ



ምግብ ለማዘጋጀት


ሕይወት ያላቸው ነገሮች ያለውሃ ሊኖሩ አይችሉም።




እንስሳት ውሀ ያስፈልጋቸዋል።




እጽዋት ውሃ ያስፈልጋቸዋል።



ውሀ የገላን /የሰውነት/ ንጽሕናን ለመጠበቅ ይጠቅማል።




ውሀ ልብስ ለማጠብ ይጠቅማል።



ውሃ የምግብ ዕቃዎች ለማፅዳት ይውላል።
 ሥዕል 4.12 የውሀ ጥቅም

ውሀን በንፅሕና መያዝ

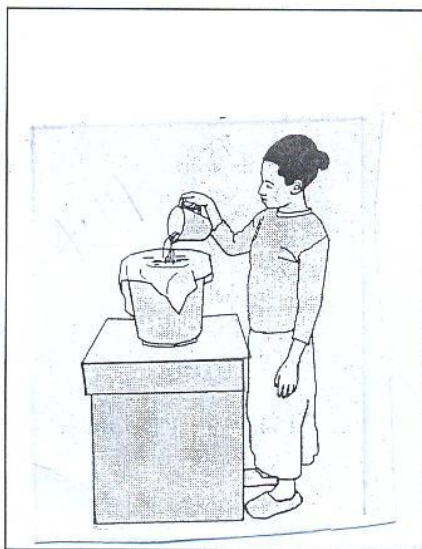
ውሀ እንዴት ሊበከል ይችላል? ለመምህራችሁ ዘርዘራችሁ ተናገሩ።
 ውሀ በተለያዩ መንገዶች ሊበከል ይችላል።



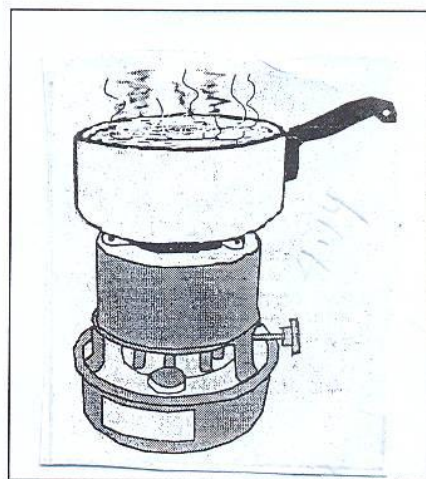
ሥዕል 4.13 የውሃ ብክለትን የሚያመጡ ነገሮች።

የውሀን ንጽሕና እንዴት እንጠብቃለን?

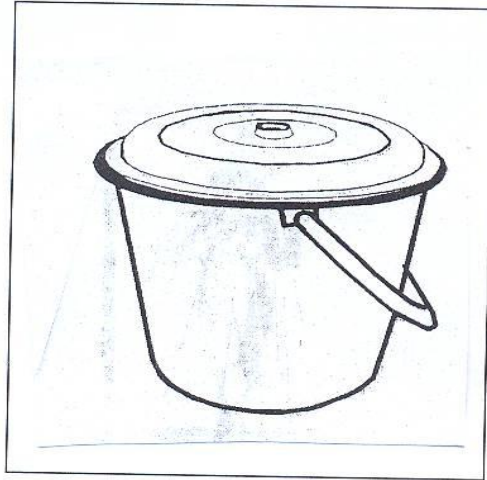
ውሀን በንጽሕና መያዝ ለጤናችን በጣም አስፈላጊ ነው።



ውሀን ማጣራት



ውሀን ማፍላት



ውሀን ከድኖ ማስቀመጥ

ሥዕል 4.14 ውሀን በንጽሕና መጠበቅ

4.2.3. አፈር

አፈር በየአካባቢው በመሬት ላይ የሚገኝ ሲሆን አፈርን በቅርፅና በቀለም መለየት ይቻላል።

በቅርፅ

- አሸዋማ አፈር
- የሸክላ አፈር
- ደቃቅ አፈር በመባል ይታወቃሉ።

በቀለም


- ቀይ አፈር
- ጥቁር አፈር
- ዳለቻ አፈር

የአፈር ጥቅም

-ለግብርና

እፅዋት ምግባቸውን የሚያገኙት ከየት ነው?



እፅዋት ምግባቸውን ሊያገኙ የሚችሉት ከአፈርነው። አፈር ውሃንና አየርን ስለሚይዝ ለተክሎች ምግብ ይጠቅማል። ተክሎች ቀጥ ብለው እንዲቆሙ የሚያደርጋቸው አፈር ነው።



ሥዕል 4.15 አፈር ለግብርና የሚሰጠው ጥቅም

- ለቅርፃ ቅርፅ

ከሸክላ አፈር ምን ምን ዕቃዎች ይሰራሉ?



ሥዕል 4.16 ከአፈር የተሰሩ ቁሳቁሶች

ከሰዕሉ ምን ተረዳችሁ?

አፈር ለእዕዋት ምግብ የሚሆኑ ነገሮችን ይይዛል።

- አፈር ለቤት መስሪያ ይጠቅማል
- ከሸክላ አፈር የተለያዩ የቤት እቃዎችን መስራት ይቻላል።

የሸክላ አፈር ለቁሳቁስ መስሪያ እንዴት ይዘጋጃል?

ተግባራዊ ክንዋኔ 4.2

ለተግባራዊ ክንዋኔ የሚያስፈልጉ ነገሮች፡፡

- ደቃቅ የተፈጠሩ የሸክላ አፈር
- የማቡኪያ ዕቃ


- የውሃ መጨመሪያ /ጣሳ/

የተግባራዊ ክንዋኔ ቅደም ተከተሉል

- የተፈጨውን የሽክላ አፈር ሰፋ ባለ እቃ ላይ አድርጎ ውሃ በመጨመር ማብካት
- ትንሽ ትንሽ ውሃ እየጨመሩ ማሸት
- በጠፍጣፋ እቃ ላይ በእጅ ማድቦልቦል
- ሥዕሉን በማየት በቅደም ተከተል ከተዘጋጀ በኋላ የሚፈልጉትን አይነት ቅርፅ መስራት ይቻላል።



ሀ. ውሃ መጨመር




ለ. ማብካት



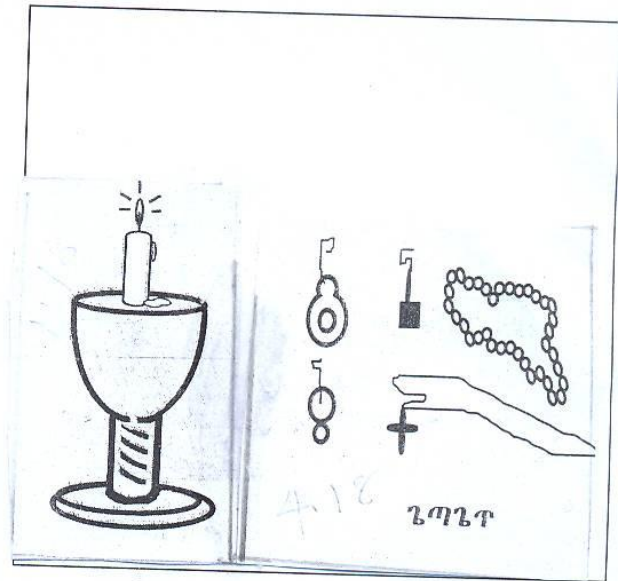
ሐ. ማድቦልቦል /ቅርፅ ማስያዝ/

ሥዕል 4.17 ከሽክላ ጭቃ ቁሳቁስ መስራት

ከሸክላ አፈር የተለያዩ ነገሮች ማዘጋጀት ይቻላል።



ከሸክላ የሚሰሩ የቤት ውስጥ ቁሳቁሶች




ከሸክላ የሚሰሩ ጌጣጌጦች

ሥዕል 4.18 ከሸክላ አፈር የሚሰሩ ቁሳቁሶችና ጌጣጌጦች

የአፈር እንክብካቤ



አፈር በጎርፍ ውሀ ታጥቦ እንዳይወሰድ ምን ማድረግ አለብን?



ሥዕል 4.19 አፈርን መንከባከብ

የአፈርን መሸርሸር ለመከላከል የሚያስፈልገው /ሊደረግ የሚገባው/ ዘዴ :-

- እርከን መስራት
- የዛፍ ችግኝን መትከል
 - ምክንያቱም የዛፍ ስር አፈሩን አቅፎ ስለሚይዘው ነው።
- መሬትን አግድም ማረስ
- አፈርላይ የሚበቅለውን ሳር በከብቶችከመጠን በላይ አለማስጋጥ ናቸው።



አግድም በማረስ አፈርን መንከባከብ መንከባከብ

እርከን በመስራት አፈርን መንከባከብ

ሥዕል 4.20 አግድም በማረስና እርከን በመስራት አፈርን መንከባከብ

መልመጃ 4.2

ሀ/ የሚከተሉትን ጥያቄዎች ትክክል የሆነውን “እውነት” ትክክል ያልሆነውን “ሀሰት” በማለት መልሱ።

1. ሕይወት የሌላቸው ነገሮች ያድጋሉ።
2. የምንጠጣው ውሃ ንፁህ መሆን አለበት።
3. ከአፈር ቤት መስራት ይቻላል።
4. አፈር ለእፀዋት ምግብነት አያገለግልም።
5. የመኪና ጎማ አገልግሎት የሚሰጠው አየር ከተሞላ ነው።

ለ/ ለሚከተሉት ጥያቄዎች ትክክለኛውን መልስ በመምረጥ መልሱ።

6. ከአፈር ያልተሰራው የቱ ነው?

- ሀ. ጀበና ለ. መኪና ሐ. ምጣድ
7. ከሚከተሉት አንዱ የውሃ መገኛ ነው።
- ሀ. ዝናብ ለ. ምንጭ ሐ. ሁሉም
8. የውሀን ንጽሕና ለመጠበቅ ምን ማድረግ አለብን?
- ሀ. ማጣራት ለ. ማፍላት ሐ. ሁሉም
9. አፈር በጎርፍ ውሃ ታጥቦ እንዳይሄድ ምን ማድረግ አለብን?
- ሀ. የዛፍ ችግኝ መትከል ለ. ሳሩን በከብቶች በጣም ማስጋጥ
- ሐ. ቁልቁል ማረስ
10. ከሚከተሉት አንዱ የተፈጥሮ ሀብት ነው።
- ሀ. አየር ለ. ውሃ ሐ. ሁሉም

4.3. በአካባቢያችን የሚገኙ ሕይወት ያላቸው ነገሮች

| መታወቅ የሚገባቸው ቃላት | |
|-----------------|--------|
| - ቁጥቋጦ | - ጥበቃ |
| - ማከማቸት | - መጓጓዣ |
| - በርጩማ | - መዋለድ |
| - አእዋፍ | - ነፍሳት |
| - የዱር እንስሳት | |
| - ለማዳ | |




ሕይወት ያላቸው ነገሮች በሁለት ይመደባሉ። እነሱም፡-

1. እፅዋት እና
2. እንስሳት ናቸው።


ሕይወት ያላቸው ነገሮች፡-

- ሀ. ይመገባሉ
- ለ. ያድጋሉ
- ሐ. ይተነፍሳሉ
- መ. ይንቀሳቀሳሉ።


ሀ. ሕይወት ያላቸው ነገሮች ይመጣሉ።



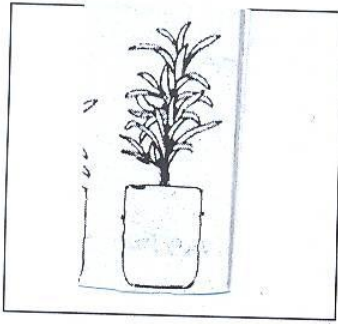
ሥዕል 4.21 ሕይወት ያላቸው ነገሮች ይመጣሉ።
ለ. ሕይወት ያላቸው ነገሮች ያድጋሉ።




ጥጃ




ላም



ያላደገ ተክል



ያደገ ተክል



የደሮ ጫጨቤት





ሥዕል 4.22 ሕይወት ያላቸው ነገሮች ያድጋሉ

ሐ. ሕይወት ያላቸው ነገሮች ይተነፍሳሉ።

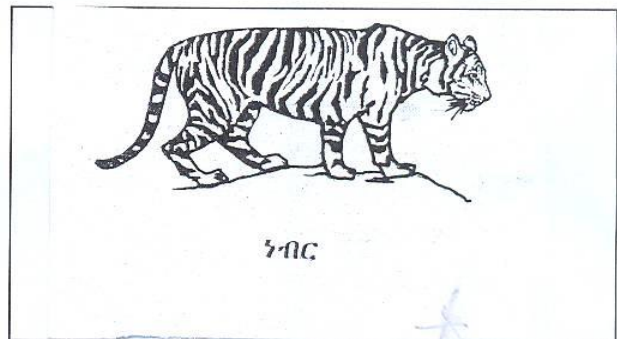
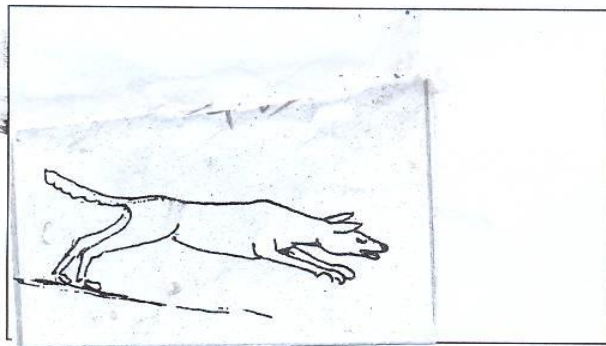

- የእነሱን የመተንፈሻ አካላት

- ሳንባ
- አፍንጫ
- ስንጥብ
- የሰውነት ቆዳ ቀደዳና የመሳሰሉት ናቸው።



ሥዕል 4.23 ሕይወት ያላቸው ነገሮች ይተነፍሳሉ።

መ. ሕይወት ያላቸው ነገሮች ይንቀሳቀሳሉ።



ሥዕል 4.24 እንስሳት ይንቀሳቀሳሉ።



አካባቢያችሁ ሕይወት ያላቸውን ነገሮች ዘርዝሩ።

4.3.1. እጽዋት

እጽዋትን መመደብ

በየአካባቢው የተለያዩ የእጽዋት አይነቶች ይገኛሉ፤ እነሱም፡-

- ትልልቅ ዛፎች
- ትንንሽ ዛፎች
- ቁጥቋጦዎች
- ረዣዥምና አጫጭር ሳር ናቸው።



4.25. እጽዋት በአይነታቸው ይለያያሉ።

እጽዋት- ለምግብነት የሚውሉና

- ለምግብነት የማይውሉ ተብለው ይመደባሉ።

የሚከተሉትን ሥዕሎች በማየት ለምግብነት የሚውሉና ለምግብነት የማይውሉ

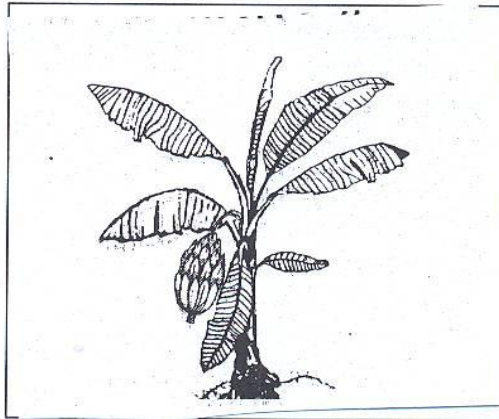
በማለት ለዩዋቸው።




እንሰት




የበቆሎ ተክል



ዘ-መ

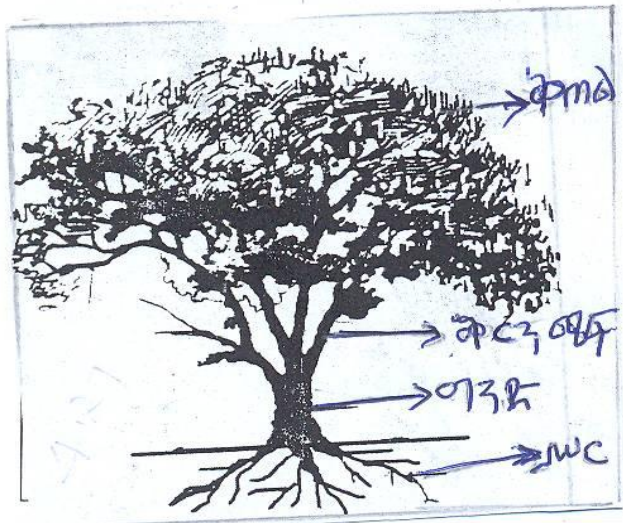


ሳር



ዕድ

ሠዕል 4.26 ለምግብነት የሚውሉና የማይውሉ እጥረት



ሠዕል 4.27 የእጥረት ዋና ዋና ክፍሎች

የእጅዋት ዋና ዋና ክፍሎች የሚባሉት :-

- ሥር
- ግንድ
- ቅጠል
- ቅርንጫፍ ናቸው።

ሥር :-

- ሥር በአፈር ውስጥ የሚገኝ ሲሆን ከአፈር ውስጥ የእጅዋትን ምግብ /ውሃ፣ አየርንና ማዕድናትን/ ወደ ግንድ ያስተላልፋል። እንዲሁም በአፈረ ላይ ቀጥ ብሎ እንዲቆም ይረዳዋል።

ግንድ:- ከአፈር በላይ በኩል የሚገኝ የዛፍ ክፍል ነው። የተክሉን ምግብ ያከማቻል፤ ወደ ቅርንጫፍና ቅጠል ያስተላልፋል።

ቅጠል:- የተክሉን ምግብ ያዘጋጃል።


የእጅዋት ጥቅም

እጅዋት ለምን ለምን እንደሚጠቅሙ ታውቃላችሁ?

ሀ. እጅዋት ለምግብነት ይጠቅማሉ።



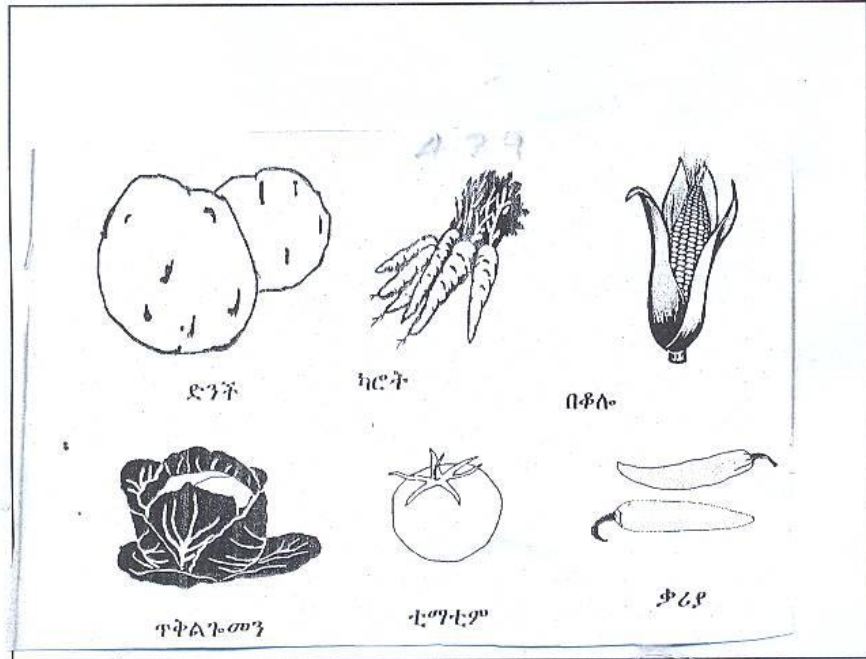
እጅዋት ለሰው ልጅ ምግብነት ይውላሉ።
ምግብነት ይውላሉ።



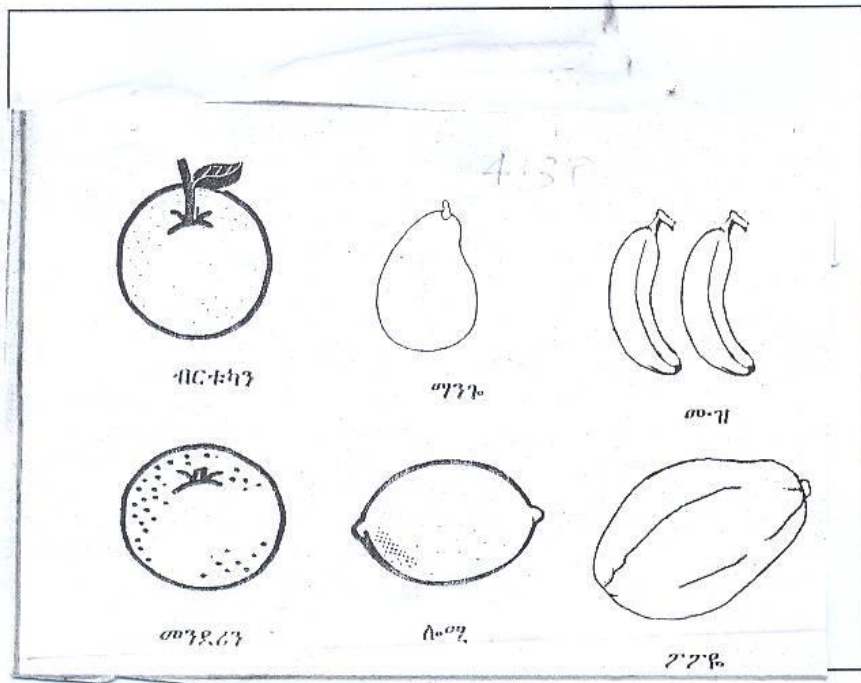
እጅዋት ለእንስሳት

ሥዕል 4.28 እጅዋት ለምግብነት ይጠቅማሉ።
ለምግብነት የሚውሉ የእጅዋት አይነቶች:-

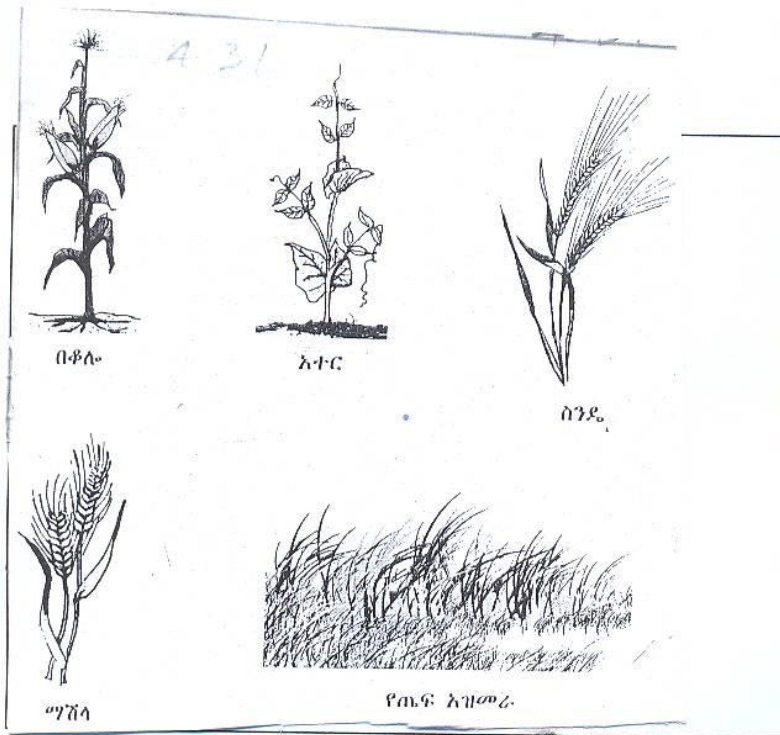
1. የአትክልት ምግቦች
2. የፍራፍሬ ምግቦች
3. ሰብሎች ወይም እህልና ጥራጥሬ ተብለው ይታወቃሉ።



ሥዕል 4.29 የአትክልት ምግቦች



ሥዕል 4.30 የፍራፍሬ ምግቦች




ሥዕል 4.31 የእህል አይነቶች

ለ/ እዕዋት ልብስ ለመስራት ያገለግላሉ።




ሥዕል 4.32 ከጥጥ የተሰሩ የተለያዩ ልብሶች

ሐ. እፅዋት ለቤትና የቤት ቁሳቁስ ለመስሪያ ያገለግላሉ።




መኖሪያ ቤት

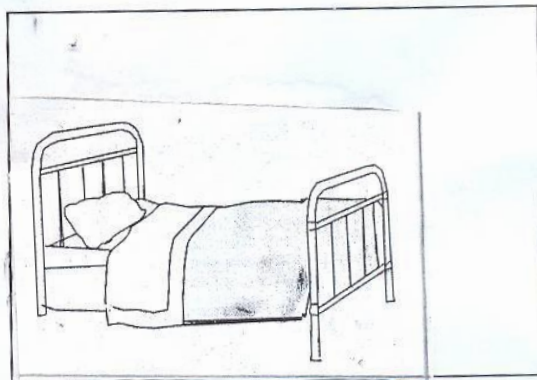


ጠረጴዛና ወንበር

እጽዋት ለግቢ ውበት ለአዋር ይጠቅማሉ።




በርጩማ





አልጋ

ሥዕል 4.33 እፅዋት ለቤት ቁሳቁስ መስሪያ ይውላሉ።

መ/ እፅዋት ለእንስሳት መጠለያ ያገለግላሉ።



ሥዕል 4.34 አእዋፋትና የዱር እንስሳት በደን ውስጥ



ሥዕል 4.35 እፅዋት ለማገደነት ይጠቅማሉ።

ልጆች! እፅዋትን ለማገደነት ለመጠቀም ስንቆርጥ በምትካቸው ዛፎችን መተካት አለብን። የእፅዋት መለያ ባሕሪያት

የእፅዋት መለያ ባሕሪያት የምንላቸው፡-

- ይራባሉ
- ይመገባሉ
- ያድጋሉ።

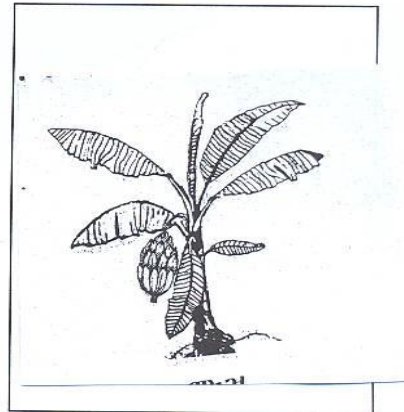
የእጸዋት መራባት

እንደ እንስሳት ሁሉ እጸዋትም ይራባሉ።


የሚራቡትም በዘር ወይም ግንዳቸው ተቆርጦ ሲተከል ነው።



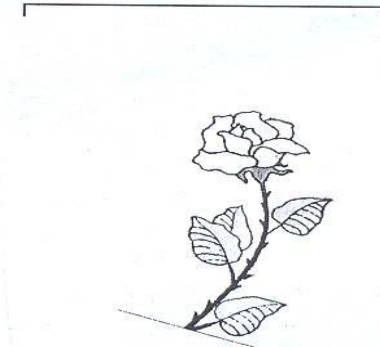
የቦቆሎ ተክል በዘር ይራባል።



የሙዝ ተክል ግንዱ ተቆርጦ ይራባል።



የአተር ተክል በዘር ይራባል።



የጽጌሬዳ ተክል ግንዱ ተቆርጦ

ይራባል።

ሥዕል 4.36 እጸዋት ይራባሉ።


የእጸዋት አመጋገብ፤

እጸዋት ይመገባሉ።።

እጸዋት ምግባቸውን ያዘጋጃሉ።።

እጸዋት ምግባቸውን የሚያዘጋጁት

- ከአየር
- ከፀሐይ ብርሃንና
- ከውሃ ነው።።



ሥዕል 4.37 እፀዋት ምግባቸውን ያዘጋጃሉ።

የእፀዋት ማደግ



እፀዋት በሚመገቡት ምግብ ያድጋሉ።

ሥዕል 4.38 እፀዋት ያድጋሉ።

እፀዋትን መንከባከብ

በአካባቢያችሁ እፀዋትን ትንከባከባላችሁ? ለምን?

እፀዋት በሕይወት እንዲኖሩ መንከባከብ አለብን። የምንከባከበውም ከተተከሉ ጀምሮ ውሀ በማጠጣት ፣ በማረም፣ ማዳበሪያ በመጨመርና በእንስሳት እንዳይበሉ በመጠበቅ ነው።



ሥዕል 4.39 እጸዋትን መንከባከብና መጠበቅ

እጸዋትን ካልተንከባከብናቸው ይሞታሉ። እጸዋትን ያለአግባብ መቅጠፍ ወይም መቁረጥ ተገቢ አይደለም።

4.3.2. እንስሳት

የእንስሳት አመዳደብ

እንስሳት በሁለት ይመደባሉ፤ እነርሱም፡-


1. የቤት እንስሳት /ለማዳ/ና
2. የዱር እንስሳት ናቸው።

1. የቤት እንስሳት፡- የቤት እንስሳት ለማዳ እንስሳት ናቸው። ሰው በሞኖሪያ ቤቱ አካባቢ ይገለገልባቸዋል።

2. የዱርእንስሳት

የዱር እንስሳት ማለት ምን ማለት ነው?

የዱር እንስሳት ማለት ከሰው ርቀው በጫካ ውስጥ የሚኖሩ ማለት ነው።



እንበሳ

ከእነዚህ ከሚታዩ ስዕሎች


ሀ/ በቤት ውስጥ የሚኖሩ

1 _____


2 _____

3 _____


4 _____



ድመት




ላም



ውሻ


በስዕሉ ላይ የሚታዩት እንስሳት የት ይኖራሉ?




ዝሆን

ለ/ በዱር የሚኖሩ እንስሳት


- 1 _____
- 2 _____
- 3 _____
- 4 _____



ጅብ



ጥንቸል



ዶሮ

ሥዕል 4.40 እንስሳት በመኖሪያ አካባቢያቸው ሲመደቡ

የእንስሳት አገልግሎት

1. የቤት እንስሳት ጥቅም

ሰዎች የሚገለገሉባቸው የቤት እንስሳት፡-

ሀ/ ለምግብነት


ለ/ ለጥበቃ

ሐ/ ለዕቃ ማጓጓዣነት


መ/ ለልብስና ለጫማ መስሪያ ያገለግላሉ፡፡

ሀ/ ለምግብነት


ለምግብነት የሚውሉ የቤት እንስሳት እነማን ናቸው?



የወተት ላም




ደሮ



በግ

ለ. ለጥበቃ


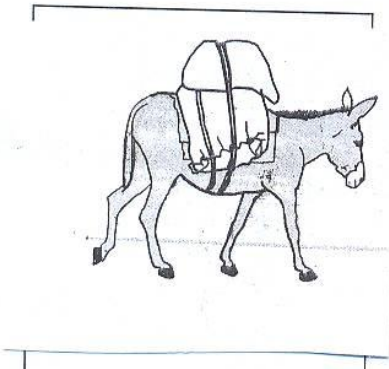


ለጥበቃ የሚያገለግሉ እንስሳት የትኞቹ ናቸው?



ሥዕል 4.41 እንስሳት ለጥበቃ ያገለግላሉ፡፡

ሐ/ እቃ ለማጓጓዝ

እንስሳት እቃ ከቦታ ወደ ቦታ ለማጓጓዝ ይጠቅማሉ፡፡



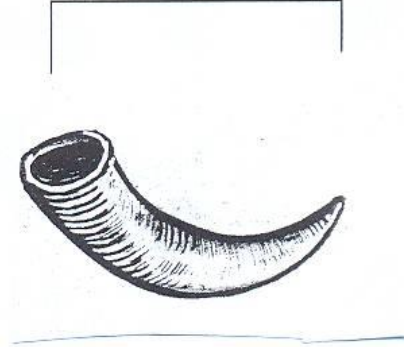
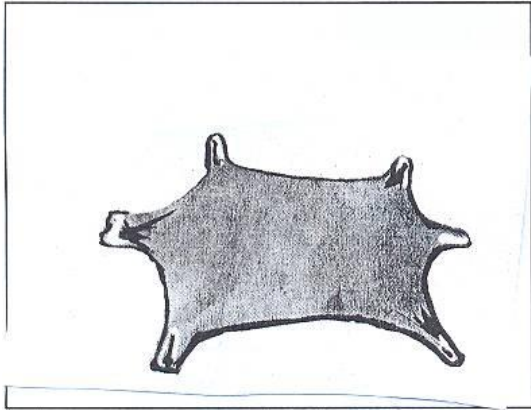
ሥዕል 4.42 ለእርሻና ለማጓጓዣነት የሚያገለግሉ እንስሳት

መ/ የእንስሳት ቆዳ ጥቅም

የእንስሳት ቆዳና ሌጦ :-

- ለጫማ
- ለልብስ
- ለቦርሣና
- ለቀበቶ መስሪያ ያገለግላል፡፡

የእንስሳት ቀንድ ለጌጣጌጥና ለቤት መገልገያ ቁሳቁስ መስሪያነት ያገለግላል፡፡




ፀጉራቸውም ለልብስ መስሪያነት ያገለግላል።


ሥዕል 4.43 የእንስሳት ቆዳ አገልግሎት

2. የዱር አንስሳት ጥቅም


እንስሳት የተፈጥሮ ውበትና የገቢ ምንጭ እንደሆኑ ታውቃላችሁ?
 በሀገራችን ኢትዮጵያ ውስጥ ብቻ የሚገኙ እንስሳት እነማን እንደሆኑ ታውቃላችሁ?
 የሚከተሉትን ስዕሎች ተመልከቱ።



ጥሊያ



ኒያላ



የሰሜን ቀይ ቀበሮ





ጭላዳ ዝንጀሮ

ሥዕል 4.44 በኢትዮጵያ ውስጥ ብቻ ብርቅዬ እንስሳት

በኢትዮጵያ ብቻ የሚገኙ አእዋፋት እንዳሉ ታውቃላችሁ?

በኢትዮጵያ ብቻ የሚገኙ አእዋፋት 23 ሲሆኑ ከ23ቱ መሀከል ጥቂቶቹ ስዕላቸውን በመመልከት እወቋቸው::



ሥዕል 4.45 በኢትዮጵያ ውስጥ ብቻ የሚገኙ አእዋፋት

የእንስሳትባሕርያት :-

ሀ/ እንስሳት ይዋለዳሉ ወይም ይራባሉ::

ለ/ እንስሳት ይተነፍሳሉ::

ሐ/ ይንቀሳቀሳሉ::

መ/ ያድጋሉ :: ሠ/ ይመገባሉ::

ሀ/ የእንስሳት መራባት

እንስሳት ይዋለዳሉ ወይም ይራባሉ።

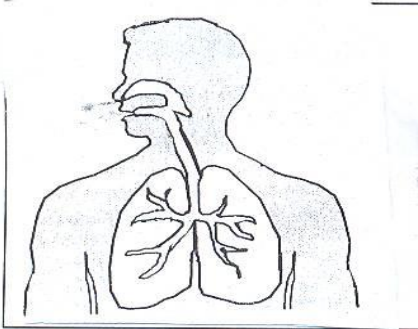
የሚራቡትም እንቁላል በመጣል ወይም መሰላቸውን በመውለድ ነው።




ሥዕል 4.46 እንስሳት ይራባሉ።

ለ/ የእንስሳት መተንፈስ


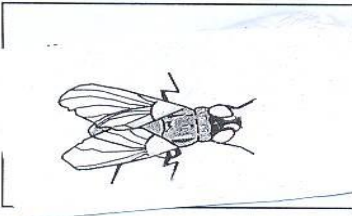
እንስሳት የሚተነፍሱባቸው የሰውነት ክፍሎች የተለያዩ ናቸው።



ሰው በሳንባው ይተነፍሳል።



አሣ በስነጥቡ ይተነፍሳል።



ነፍሳት በሰውነታቸው ላይ ባሉ ቀዳዳዎች ይተነፍሳሉ።

ሥዕል 4.47 የእንስሳት መተንፈሻ አካል

መልመጃ 4.3

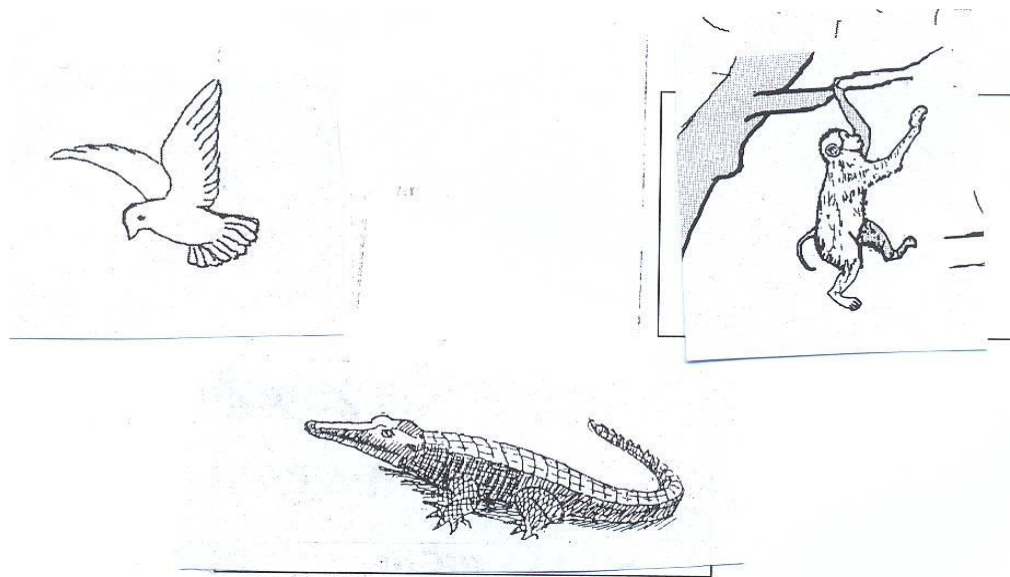
ባዶ ቦታዎችን ሙሉ።

1. ሰው በ _____ ይተነፍሳል።
2. አሳ በ _____ ይተነፍሳል።
3. ትናንሽ ነፍሳት በ _____ ይተነፍሳሉ።

ሐ/የእንስሳ ከቦታ ወደ ቦታ መዘዋወር

እንስሳት ምግብና መኖሪያ ፍለጋ ከቦታ ወደ ቦታ ይንቀሳቀሳሉ። ይኸውም፡-

- በእግራቸው በመራመድ
- በክንፋቸው በመብረር
- በደረታቸው በመሳብና
- ከቦታ ቦታ በመዘለል ይሄዳሉ።



ሥዕል 4.48 እንስሳት ይንቀሳቀሳሉ፡፡

ተማሪዎች! ሕይወት ባላቸውና በሌላቸው ነገሮች መካከል የሚታዩትን ልዩነቶች መሰረት በማድረግ ቀጥሎ ባለው ሰንጠረዥ በቀረበው ምሳሌ ባሕሪያቸውን “አይደለም” ወይም “አዎ” በማለት ባዶ ቦታዎቹን ሙሉ፡፡


ሠንጠረዥ 4.1

| ባሕሪያት | ሕይወት ያላቸው ነገሮች | ሕይወት የሌላቸው ነገሮች |
|---------------|----------------|-----------------|
| ይመገባሉ | አዎ | አይደለም |
| ይተነፍሳሉ | | |
| ያድጋሉ | | |
| በራሳቸው ይንቀሳቀሳሉ | | |
| ይራባሉ | | |

የእንስሳት እንክብካቤ



የቤት እንስሳት ምግብና ውሃ ይፈልጋሉ።



የቤት እንስሳት መንከባከብ ማለት ምን እንደሆነ ታውቃላችሁ?

የቤት እንስሳት ንጽሕና መጠበቅ አለበት።

ሥዕል 4.49 እንስሳትን መንከባከብ

ስለዚህ የቤት አንስሳትን መንከባከብ አንጂ ማስቃዎት ተገቢ አይደለም። ለምሳሌ፡- ውሻን ማባረር፣ ድመትን መደብደብ ተገቢ አይደለም።

የዱር እንስሳት እራሳቸው ቢመገቡም የሚኖሩበትን አካባቢ በመጠበቅና በጥንቃቄ በመያዝ መንከባከብ አለብን። ለምሳሌ ፡- በሚኖሩበት ጫካ ዛፎችን ባለመቁረጥ፣ ዛፎችን በመትከል፣ ወዘተ. ሊሆን ይችላል።

መልመጃ 4.4.

ሀ/ የሚከተሉትን ጥያቄዎች ትክክል የሆነውን “እውነት” ትክክል ያልሆነውን “ሀሰት” በማለት መልሱ::

- 1. ሕይወት ያላቸው ነገሮች አይንቀሳቀሱም::
- 2. እፅዋት ለእንስሳት መጠለያ ናቸው::
- 3. በቅሎ ለመጓጓዣነት ያገለግላል::
- 4. እንሰት ለምግብነት አይውልም::
- 5. አንበሳ የቤት እንስሳ ነው::

ለ/ ከተሰጡት አማራጮች ትክክለኛውን መልስ ምረጡ::

6. እንስሳት ከሚሰጡት ጥቅም አንዱ _____ ነው::

ሀ/ ለምግብነት ለ/ ለጥበቃ ሐ/ ሁሉም

7. ዶሮ _____ ትጥላለች::

ሀ/ ልጅ ለ/ እንቁላል ሐ/ ጫጩት

8. ከሚከተሉት ውስጥ አንዱ የዱር እንስሳት ጥቅም ነው::

ሀ/ ለገቢ ምንጭ ለ/ እቃ ለማጓጓዝ ሐ/ ለቤት ጥበቃ

9. ከሚከተሉት ውስጥ አንዱ በኢትዮጵያ ብቻ የሚገኝ እንስሳ ነው::

ሀ/ ወሊያ ለ/ ኒያላ ሐ/ ሁሉም

10. እንስሳትን ምን ምን በማድረግ እንከባከለን?

ሀ/ ከቦታ ቦታ በማባረር ለ/ በማሳቃየት

ሐ/ ምግብና ውሃ በመስጠት

ሐ/ ትክክለኛውን መልስ ስጡ::

11. እንስሳት ለምን ከቦታ ቦታ ይዘዋወራሉ?

12. ሰው በቤት አካባቢ የሚገለገልባቸው እንስሳት ምን ይባላሉ?

4.4 በአካባቢያችን የሚደረጉ የተለመዱ እንቅስቃሴዎች

| መታወቅ የሚገባቸው ቃላት | |
|-----------------|--------|
| - ሽመና | - ጊዜ |
| - ስራ | - አግባብ |
| - ሸክላ | - ሐኪም |
| - ፋብሪካ | - ዕቅድ |
| - ክብር | |

4.4.1. የሥራ ጥቅም

ሥራ ለምን ይጠቅማል?

የነኛው የሥራ ጥቅም የገቢ ምንጭ ማስገኘት ነው።

ይህም ከሥራ በሚገኘው ገንዘብ ምግብ፣ ልብስና መጠለያ ለማግኘት ያስችለናል።

ሰዎች በተለያዩ የሥራ መስኮች ተሰማርተው ሥራ ካልሰሩ ኑሮዎቻቸውን በአግባቡ መምራት አይችሉም።

4.4.2. የስራ አይነቶች

ልጆች! በአካባቢያችሁ ሰዎች ምን ምን በመስራት ይኖራሉ?

የሥራ አይነቶች ሲመደቡ፡-

- የግል ሥራ
- ለመንግሥት ተቀጥሮ መስራትና
- ለሰዎች ተቀጥሮ መስራት ናቸው።

የግል ሥራ

ሰዎች በግል ሥራ ሊሰማሩ የሚችሉት


- በግብርና

- በንግድ
- በሽመና
- በሸክላ ስራና በመሳሰሉት ነው።


ግብርና

በገጠር የሚኖሩ አብዛኛዎቹ ሰዎች መሬት በማረስና እህል በማምረት ይኖራሉ። በተጨማሪ ከብት በማርባት ፣ በሸክላ ሥራና በንግድ ሥራ የሚተዳደሩ አሉ።


አንዳንድ ሰዎች ደግሞ የግብርናንና የንግድ ስራን አጣምሮ በመስራት ይኖራሉ።




ሥእል 4.50 በገጠር የሚኖሩ ሰዎች በግብርና ይተዳደራሉ።



ሥዕል 4.51 ዘመናዊ የግብርና ሥራ
በዘመናዊ የግብርና አስተራረስ ሰፋፊ ቦታዎችን በማልማት ጥቅም ላይ አውሎ
ረሀብና ችግርን ከሀገራችን ማጥፋት ይቻላል።




ሥዕል 4. 52 የሸክላና የብረታ ብረት ሥራ
በከተማ የሚኖሩ ሰዎች ምን ምን በመስራት ይኖራሉ?
ሰዎች አገልግሎት ሰጪ በሆኑ በመነግሥት መስሪያ ቤቶች ወይም በአንድ የግል ድርጅት



ተቀጥረው በመስራት የወር ደመወዝ በማግኘት ይተዳደራሉ።

ሥዕል 4.53 መግርና ማስተማር የሥራ አይነቶች ናቸው፡፡

ተማሪዎች የእናንተ ሥራ ምንድን ነው?




የመምህራንስ ሥራ ምን ይመስላችኋል?


ሥዕል 4.54 በሽመና የሚተዳደሩ ሰዎች

አንዳንድ ሰዎች ልዩ ልዩ ልብሶችን ሰርተው ይለብሳሉ፡፡ በመሸጥም ኑሮዎቻቸውን ሊመሩ ይችላሉ፡፡

ልብስ በመስራትና በመሸጥ መሰረታዊ ፍላጎቶቻቸውን የሚያሟሉ ሰዎች ምን ይባላሉ?




ሥዕል 4.55 በፋብሪካ ውስጥ ተቀጥረው የሚሰሩ ሰዎች
ሰዎች በጨርቃጨርቅ፣ በዱቄት ፋብሪካዎች፣ በሳሙና ፊብሪካዎች፣ በብረታብረት
ፋብሪካዎችና በመሳሰሉት በመስራተ ኑሮአቸውን ሊመሩ ይችላሉ።።
ልጆች! በአካባቢያችሁ ፋብሪካዎች አሉን? ካሉ ምን ምን የሚያመርቱ ናቸው?



ሥዕል 4.56 ሰዎች ቤት ሲሰሩ

ቤት በመስራትና አጥር በማጠር የሚተዳደሩ ሰዎች ምን ይባላሉ?



ሥዕል 4.57 በጥበቃ ሥራ ላይ የተሰማሩ ሰዎች

በአካባቢያችሁ ፀጥታን በማስከበር ሥራ ላይ የተሰማሩ ሰዎች ምን በመባል ይታወቃሉ?

አንዳንድ ሰዎች እቃዎችን በመሸጥና በመግዛት ይተዳደራሉ።

ተማሪዎች! እነዚህ ሰዎች ምን ይባላሉ?



ሥዕል 4.58 ልዩ ልዩ የንግድ ሥራዎች

በአካባቢያችሁ የሚሰሩ የንግድ አይነቶችን ዘርዝሩ።

ሥራ መሰረታዊ ፍላጎትን ለማሟላት እና አካባቢን አልምቶ ለመጠቀም እጅግ አስፈላጊ ነው።


4.4.3. የሥራ ክብርነት

ማንኛውም ሥራ ክብር ሊሰጠው ይገባል። ሥራን ማክበር ደግሞ ጊዜን በአግባቡ ለመጠቀምና ሥራን በእቅድ ለመምራት ያስችላል።

ሰዎች ሥራ በሚሰሩበት ጊዜ ጊዜያቸውን በአግባቡ መጠቀም አለባቸው። ለምሳሌ የተመደበለትን ሰዓት በአግባቡ በመጠቀም ለስራው ታማኝና ቅን መሆን ያስፈልጋል።

ጊዜን በአግባቡ መጠቀም

ተማሪዎች ወደ ትምህርት ቤት በጊዜ ለመሄድ ሰዓትን አክብሮ መገኘት ያስፈልጋል።




4.59 ጊዜን በአግባቡ አለመጠቀም የትምህርት ሰዓትን ያባክናል።

አርፍዶ ወደ ትምህርት ቤት መምጣት ሥንፍና ነው።

ጎበዝ ተማሪዎች ጠዋት ተነስተው ፊታቸውን ታዋበው፣ ቁርሳቸውን በመብላት የትምህርት ክፍለ ጊዜ ሳይደርስና ሳያረፍዱ ወደ ትምህርት ቤት በመሄድ የሰንደቅ አላማ ስነስርዓትን አክብረው ትምህርታቸውን ይከታተላሉ።

ተማሪዎች! እናንተስ የሰንደቅ አላማ ስነስርዓት ታከብራችሁ?




ሥዕል 4.60 የትምህርት ሰዓት ሳያልቅ መውጣት የስንፍና ምልክት ነው።

የትምህርት ሰዓት አክብሮ እስከ መጨረሻው ክፍለ ጊዜ መማር የጎበዝ ተማሪዎች ተግባር ነው።

ተማሪዎች! የትምህርት ሰዓት ታከብራላችሁ?

ትምህርት ሳይጀመር ትምህርት ቤት በመድረስ የሰንደቅ አላማ ሥነስርዓት አክብራችሁ እስከ መጨረሻው ትማራላችሁን?

- በአካባቢያችሁ መሬት የሚታረሰው በምን በምን ወራት ነው?

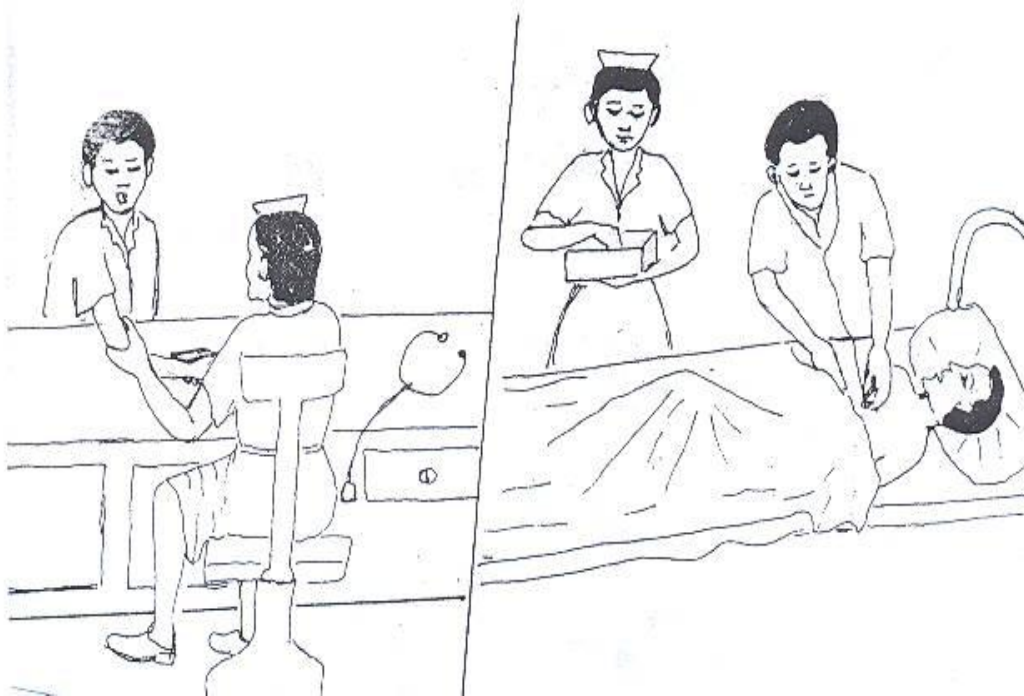


የሚሰበሰበው በምን ወር ነው?

- የተዘ
ራ
ው
ሰብ
ል
ደር
ሶ
ም
ርት

ሥዕል 4.61 የግብርና ሥራን በወቅቱ ማከናወን

ገበሬዎች በእርሻ ወቅት አርሰው ይዘራሉ። አንድ ገበሬ በወቅቱ አርሶ በወቅቱ ካልዘራ ጥሩ ምርት አያገኝም።



ሥዕል 4.62 ሀኪሞች በሕክምና ስራ ላይ

ሀኪሞች በሀኪም ቤቶች የሥራ ሰዓት አክብረው ባይሰሩ ምን ችግር ይፈጠራል?

የሥራና የቀጠሮ ሰዓት አክብሮ በመገኘት ከአንድ ሰው የሚጠበቅ ጥሩ ስነምግባር ነው።

ሥራን በእቅድ መምራት

ሥራን በእቅድ መምራት ውጤታማ ያደርጋል። በአንድ ቀን ውስጥ የምንሰራውን ሥራ በሰዓት ከፋፍሎ ማከናወን ያስፈልጋል። ይኸውም፡- የጥናት ጊዜ፣ የጨዋታ ጊዜ፣ ቤተሰብን በስራና በመላላክ የመርዳት ጊዜ በማለት ከፋፍሎ መጠቀም ይቻላል።

ከዚህ በታች በተገለጸው ሰንጠረዥ መሠረት በየእለቱ የምታከናውኑትን ተግባር በጊዜ ከፋፍላችሁ ተጠቀሙ።

| ተ/ቁ | የሳምንት ቀናት | የሚከናወኑ ተግባራትና ሰዓት | | | | ምርመራ |
|-----|-----------|-------------------|------|------|------------|------|
| | | ትምህርት ቤት | ለጥናት | ለጨዋታ | ቤተሰብ ለመርዳት | |
| 1 | ሰኞ | | | | | |
| 2 | ማክሰኞ | | | | | |
| 3 | ረቡዕ | | | | | |
| 4 | ሐሙስ | | | | | |
| 5 | አርብ | | | | | |
| 6 | ቅዳሜ | | | | | |
| 7 | እሁድ | | | | | |

ሠንጠረዥ 4.2 ጊዜ ሳይባክን በእቅድ ከፋፍሎ መጠቀም

መልመጃ 4.5

ሀ. ትክክል የሆነውን እውነት ትክክል ያልሆነውን ሐሰት በማለት መልሱ።

1. ዋነኛው የሥራ ጥቅም የገቢ ምንጭ ማስገኘት ነው።
2. ሥራ መስራት መሰረታዊ ፍላጎቶችን ለማሟላት አይጠቅምም።
3. ሰዎች ሥራን ሲሰሩ ጊዜያቸውን በአግባቡ መጠቀም የለባቸውም።

ለ. ከተሰጡት አማራጮች መሀከል ትክክለኛውን መልስ ምረጡ።

4. አርፍዶ ወደ ትምህርት ቤት መምጣት _____ ምልክት ነው
 ሀ/ የጎበዝ ተማሪ ለ/ የሰነፍ ተማሪ ሐ/ ሁሉም
5. ልብስ በመስራት የሚተዳደሩ ሰዎች ምን ይባላሉ?
 ሀ/ አንጥረኛ ለ/ ሸማኔ ሐ/ አናጂ

4.5. መጓጓዣዎች

| |
|---------------------------------------------------------------------------------------------------------------------------------------------------------------|
| <p>መታወቅ የሚገባቸው ቃላት</p> <ul style="list-style-type: none"> - ዘመናዊ - ባሕላዊ - የብስ - ጭነት - ሐዲድ - አውቶብስ |
|---------------------------------------------------------------------------------------------------------------------------------------------------------------|

ተማሪዎች! መጓጓዣ ማለት ምን ማለት ነው?
 መጓጓዣ ማለት ሰውን ወይም እቃን ከቦታ ቦታ የምናንቀሳቅስበት ነገር ማለት ነው።
 ሁለት አይነት መጓጓዣዎች አሉ፤ እነሱም፡-

1. ባሕላዊ መጓጓዣዎችና

2. ዘመናዊ መጓጓዣዎች ናቸው።

4.5.1 ባሕላዊ መጓጓዣዎች

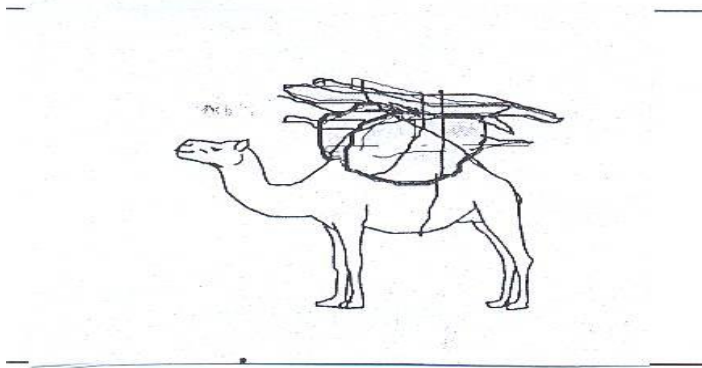
ባሕላዊ መጓጓዣዎች ምን ምን እንደሆኑ ዘርዝሩ።

በባሕላዊ መጓጓዣዎች ራቅ ወዳለ ሥፍራ ሄዳችሁ ታውቃላችሁ?



በቅሎ

የአህያ ጋሪ



ግመል

ሥዕል 4.63 ልዩ ልዩ ባሕላዊ መጓጓዣዎች

4.5.2 ዘመናዊ መጓጓዣ

ልጆች ወደ ትምህርት ቤት በምን ትጓዛላችሁ?

- በእግር

- በአህያ ጋሪ


- በመኪና

- በፈረስ ጀርባ

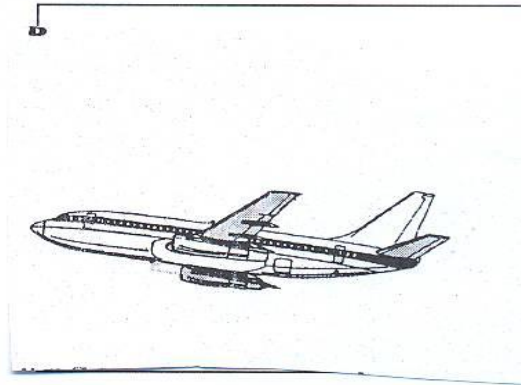
- በፈረስ ጋሪ

- በብስክሌት


ከላይ ከተጠቀሱት ውስጥ ዘመናዊ የመጓጓዣ አይነቶች የትኞቹ ናቸው?




ሳይክል



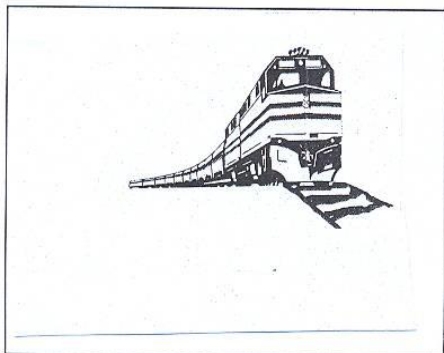
አውሮፕላን




የጭነት መኪና



መኪና



ባቡር



መርከብ

ሥዕል 4.64 ዘመናዊ መጓጓዣ አይነቶች

የመጓጓዣ ጥቅም

መጓጓዣ በጣም ጠቃሚ ነው።


- መጓጓዣ ከተጠቀምን ሩቅ መንገድ ሳይደክመን መሄድ እንችላለን።
- ምቹች ይሰጠናል።
- እኛ ልንሸከም የማንችለውን ከባድና ብዙ ዕቃ በቀላሉ እናጓጉዛለን።
- በፍጥነት ያደርሰናል።

መጓጓዣዎችን :-

- በአየር የሚሄድ
- በውሃ የሚሄድና
- በየብስ /በደረቅ መሬት/ የሚሄድ ብለን እንከፍላቸዋለን።

በአየር ላይ የሚሄድ የመጓጓዣ አይነት

በአየር ላይ የሚጓዝ የመጓጓዣ አይነት ምን ይባላል?




ሥዕል 4.65 የአየር መጓጓዣ

አውሮፕላን በጣም ረጅም ርቀትን በፍጥነት ለመድረስ የሚረዳ የመጓጓዣ አይነት ነው።

በውሀ ላይ የሚሄድ የመጓጓዣ አይነት

በውሃ ላይ የሚሄድ የመጓጓዣ አይነት ምን ይባላል?




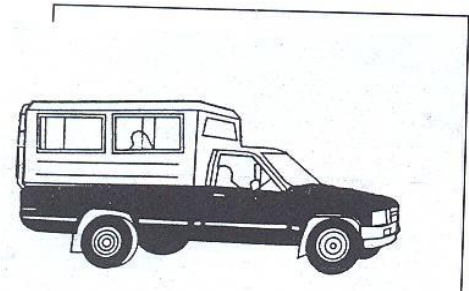

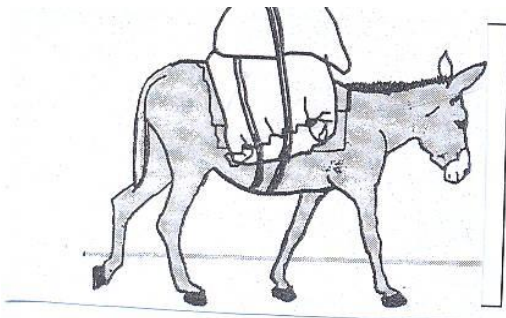
ሥዕል 4.66 የውሃ ላይ መጓጓዣ

መርከብ በውሀ ላይ መጓጓዣ ሲሆን ብዙ ጭነት ጭኖ ረጅም ርቀትን የሚጓዝ ነው።

ጆልባ በሐይቅ እና በወንዞች ላይ የምንጠቀምበት መጓጓዣ ሲሆን ሰዎች አሳ ለማጥመድ እና ለመዝናናት ይጠቀሙበታል።

በየብስ /በደረቅ መሬት/ የሚሄድ የመጓጓዣ አይነት

ደረቅ መሬት ላይ የሚሄዱ የመጓጓዣ አይነቶችን ዘርዝሩ ።



ሥዕል 4.67 የየብስ /የደረቅ መሬት/ መጓጓዣ

ባቡር በሐዲድ ላይ ይጓዛል። ሰዎችንና ብዙ ጭነትን ለማጓጓዝ ይጠቅማል።

የጭነት መኪና ብዙ እቃዎችን ለማጓጓዝ ይጠቅማል።

አውቶብስ ሰዎችን ከቦታ ቦታ ለማጓጓዝ ይረዳል።

በሚከተለው ሰንጠረዥ ባሉት ባዶ ቦታዎች ላይ ተስማሚ የሆነውን ሃሳብ ሙሉ ።።

ሰንጠረዥ 4.3

| | የመጓጓዣ አይነቶች | መጓጓዣዎች የሚጓዙበት መንገድ |
|--------------------|--------------------|---------------------------|
| ባሕላዊ መጓጓዣዎች | 1. አህያ | በየብስ |
| | 2. | |
| | 3. | |
| | 4. | |
| | 1. አውቶብስ | በየብስ |

| | | |
|-------------|----|--|
| ዘመናዊ መንገድዎች | 2. | |
| | 3. | |
| | 4. | |

መልመጃ 4.6

ሀ. ትክክል የሆነውን እውነት ትክክል ያልሆነውን ሐሰት በማለት መልሱ።

1. መንገድ ከተጠቀምን ሩቅ መንገድ ሳይደክመን መሄድ እንችላለን።
2. በቅሎ ዘመናዊ መንገድ ነው።
3. መርከብ የውሃ ላይ መንገድ አይነት ነው።

ለ. ከተሰጡት አማራጮች ትክክለኛውን መልስ ምረጡ።

4. በአየር ላይ የሚሄድ መንገድ ምን ይባላል?
 ሀ/ አውሮፕላን ለ/ መርከብ ሐ/ መኪና
5. ዘመናዊ መንገድ ከምንላቸው ውስጥ አንዱ ነው።
 ሀ/ ፈረስ ለ/ በቅሎ ሐ/ ባቡር
6. ከሚከተሉት ውስጥ ፈጣን የሆነው መንገድ የትኛው ነው?
 ሀ/ መርከብ ለ/ አውሮፕላን ሐ/ ሳይክል

ማ ጠ ቃ ለ ያ

- ከምትኖሩበት አካባቢ አንጻራዊ መገኛ ለማወቅ የፀሐይ መውጫ ምስራቅ ሲባል የፀሐይ መጥለቂያ ደግሞ ምዕራብ ይባላል። ደቡብና ሰሜን የምንላቸውን አቅጣጫዎች ለማወቅ ፊታችንን ወደ ፀሐይ መውጫ አድርገን እጃችንን ወደ ጎንና ጎን ስንዘረጋ ቀኝ እጃችን የደቡብ አቅጣጫን ሲያመለክት የግራ እጃችን ደግሞ ሰሜንን ያመለክታል።
- ሕይወት የሌላቸው ነገሮች የተፈጥሮ ሀብት ናቸው። እነዚህም አፈር፣ አየር፣ ውሃ፣ ድንጋይና የመሳሰሉት ናቸው። ሕይወት የሌላቸው ነገሮች አይመገቡም፣ አያድጉም፣ አይንቀሳቀሱም፣ አይተነፍሱም። ሕይወት የሌላቸው ነገሮች በሦስት ይመደባሉ፣ እነሱም፡-

ጠጣር ነገሮች፣ ፈሳሽ ነገሮች፣ ጋዞች / አየር/ ናቸው።

- ሕይወት ያላቸው ነገሮች በሁለት ይመደባሉ። እነርሱም እጽዋትና እንስሳት ናቸው። ሕይወት ያላቸው ነገሮች ይመገባሉ፣ ያድጋሉ፣ ይራባሉ፣ ይተነፍሳሉ፣ ይንቀሳቀሳሉ።

እጽዋት በሁለት ክፍል ይመደባሉ

1. ለምግብነት የሚውሉና
2. ለምግብነት የማይውሉ ናቸው።

እንስሳት በሁለት ይመደባሉ፣ እነርሱም፡-

1. የቤት እንስሳት /ለማዳ/ እና
2. የዱር አንስሳት ናቸው።

- ዋነኛው የሥራ ጥቅም የገቢ ምንጭ ማስገኘት ነው ። ከሥራ የሚገኘው ገንዘብ ምግብ፣ ልብስ፣ መጠለያ ለማግኘት ያስችለናል።

- መጓጓዣ ማለት ሰውን ወይም እቃን ከቦታ ቦታ የምናንቀሳቅስበት ነገር ማለት ነው። ሁለት አይነት መጓጓዣዎች አሉ። እነርሱም፡- ባሕላዊ መጓጓዣና ዘመናዊ መጓጓዣዎች ናቸው

የክለሳ ጥያቄዎች

ሀ/ የሚከተሉትን ጥያቄዎች ትክክል የሆነውን “እውነት” ትክክል ያልሆነውን “ሀሰት” በማለት መልሱ::

1. አየር የተፈጥሮ ሀብት ነው::
2. ውሃ ሕይወት አለው::
3. ሕይወት የሌላቸው ነገሮች ይንቀሳቀሳሉ::
4. የእንስሳት ቀንድ ለጌጣጌጥና ለቤት እቃዎች መስሪያ ያገግላል::
5. መሬት ውስጥ ያለው የተክል ክፍል ሥር ይባላል::

ለ/ የሚከተሉትን ጥያቄዎች ከ”ለ” ስር ያሉትን ከ”ሀ” ስር ባሉት አዛምዱ::

- | <u>ሀ</u> | <u>ለ</u> |
|---------------------------------------|----------|
| 6. የመኪና ጎማን ለመሙላት ያገለግላል | ሀ. እጽዋት |
| 7. ለመጠጥነት ይጠቅማል | ለ. አየር |
| 8. ለጉልበት ሥራ ይጠቅማል | ሐ. አፈር |
| 9. የእንጀራ ምጣድ ለመስራት ያገለግላል | መ. ውሀ |
| 10. የአእዋፋትና የዱር እንስሳት መጠለያነት ያገለግላል:: | ሠ. እንስሳት |

ሐ/ ከተሰጡት አማራጮች መሀከል ትክክለኛውን መልስ ምረጡ::

11. ከአህል /ከጥራጥሬ/ አይነቶች አንዱ ነው::

| | | |
|--------|--------|--------|
| ሀ. ፓፓዬ | ለ. ጎመን | ሐ. ስንዴ |
|--------|--------|--------|
12. እጽዋት ምግባቸውን የሚያዘጋጁት በ_____ ነው::

| | | |
|--------|-------------|------------|
| ሀ. አየር | ለ. ፀሐይ ብርሃን | ሐ. ሁሉም መልስ |
|--------|-------------|------------|
13. የእጽዋት መለያ ባሕሪያት ምን ምን ናቸው?

| | | |
|---------|---------|------------------|
| ሀ/ ይራባሉ | ለ/ ያድጋሉ | ሐ/ ሁሉም ትክክል ነው:: |
|---------|---------|------------------|
14. ከአፈር በላይ የሚገኘው የእጽዋት ክፍል ያልሆነው የትኛው ነው?

| | | |
|--------|-------|--------|
| ሀ/ ግንድ | ለ/ ሥር | ሐ/ ቅጠል |
|--------|-------|--------|
15. ባሕላዊ የመጓጓዣ አይነት የትኛው ነው?

| | | |
|--------------|--------------|------------------|
| ሀ/ በአህያ ማጓጓዝ | ለ/ በፈረስ ማጓጓዝ | ሐ/ ሁሉም ትክክል ነው:: |
|--------------|--------------|------------------|